



# LKPD

## Topik: Mengenal Bangun Datar



Nama Kelompok: \_\_\_\_\_

Anggota Kelompok: \_\_\_\_\_

Kelas: \_\_\_\_\_




**Mata Pelajaran  
Matematika  
Untuk Kelas II**



## Tujuan Pembelajaran








Setelah mengikuti kegiatan ini, peserta didik diharapkan mampu:

- 
1. Peserta didik mampu menyebutkan (C1) bentuk bangun datar beserta cirinya dengan benar.
  2. Peserta didik dapat menguraikan (C2) bentuk tertentu yang tercipta dari beberapa bangun datar dengan tepat.
  3. Peserta didik dapat menentukan (C3) contoh bangun datar di sekitar dengan tepat.



## Ciri-Ciri Bangun Datar

Lengkapilah tabel di bawah ini.

Gambar	Nama	Jumlah Sisi	Jumlah Sudut
			
			
			
			
			
			
			

# Mencocokkan Bentuk

Hubungkan benda-benda berikut ke bentuk yang sesuai



☐

☐



☐

☐



☐

☐



☐

☐



☐

☐





## Komposisi Bangun Datar

Perhatikan gambar, tuliskan bangun datar yang menyusun gambar di bawah ini.



1

---

---

---

---



2

---

---

---

---



3

---

---

---

---