

# LKPD

ILMU PENGETAHUAN ALAM DAN SOSIAL

**Panca Indra Manusia**



**Nama:**

**Kelas:**



## Identitas LKPD

Mata Pelajaran: Ilmu Pengetahuan  
Alam dan Sosial (IPAS)  
Fase/Kelas: B/4  
Materi : Panca Indra Manusia



## Profil Pelajar Pancasila

1. Beriman, Bertakwa, dan Berakhlak Mulia
2. Mandiri
3. Bernalar Kritis
4. Bergotong Royong

## Capaian Pembelajaran

- Peserta didik mampu menganalisis hubungan antara bentuk serta fungsi bagian tubuh pada manusia (panca indra)
- Peserta didik mengamati fenomena dan peristiwa secara sederhana dengan menggunakan panca indra dan mencatat hasil pengamatannya

## Tujuan Pembelajaran

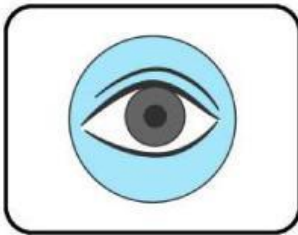
- Peserta didik dapat mengidentifikasi bagian-bagian panca indra manusia dengan tepat melalui pengamatan gambar atau alat peraga
- Peserta didik dapat menjelaskan fungsi masing-masing panca indra serta memberikan contoh aktivitas sehari-hari yang melibatkan panca indra
- Peserta didik dapat mengidentifikasi berbagai masalah yang dapat terjadi pada panca indra
- Peserta didik dapat menjelaskan dan mempraktikkan cara menjaga kesehatan panca indra agar dapat berfungsi optimal dalam kehidupan sehari-hari

Nama:

Absen:

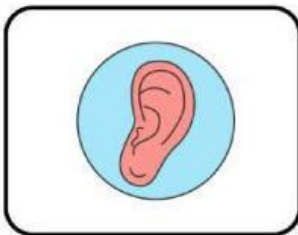
# Mengenai Panca Indra

Berilah tanda silang (X) pada huruf a, b, atau c yang merupakan jawaban benar!



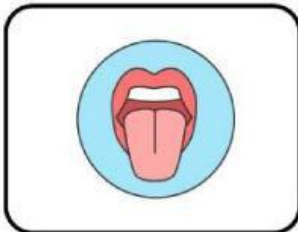
**Gambar di samping merupakan panca indra apa?**

- a. Penglihat
- b. Peraba
- c. Perasa



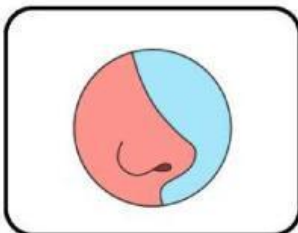
**Gambar di samping merupakan panca indra apa?**

- a. Pencium
- b. Pendengar
- c. Peraba



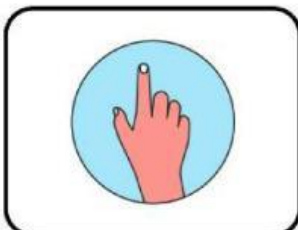
**Gambar di samping merupakan panca indra apa?**

- a. Perasa
- b. pencium
- c. Penglihat



**Gambar di samping merupakan panca indra apa?**

- a. Pendengar
- b. Peraba
- c. Pencium



**Gambar di samping merupakan panca indra apa?**

- a. Perasa
- b. Penglihat
- c. Peraba



Nama:

Kelas:

## MENGENAL LEBIH JAUH APA ITU PANCA INDRA

Bacalah pertanyaan di bawah ini, lalu jawablah pertanyaan dengan tepat!



Menurut bahasa sansekerta panca indra adalah?

Jelaskan apa yang dimaksud dengan panca indra dan sebutkan masing-masing fungsinya!

Mengapa panca indra disebut sebagai alat untuk mengenali lingkungan? Jelaskan!

Nama :

Tanggal :

## Menggunakan Indra

Bacalah cerita di bawah ini dan lengkapilah bagian yang kosong dengan kata yang sesuai.



mata

telinga



hidung



lidah



kulit



Puti membeli es jeruk pada siang hari. Puti mengamati warna jingga es jeruk dengan ..... nya. Saat mengambil gelas es jeruk, Puti merasakan dingin dengan ..... nya. Lalu Puti meminumnya. Terasa manis sekaligus asam di ..... Puti juga suka menghirup aroma kulit jeruk dengan menggunakan ..... nya.

Segar  
sekali!



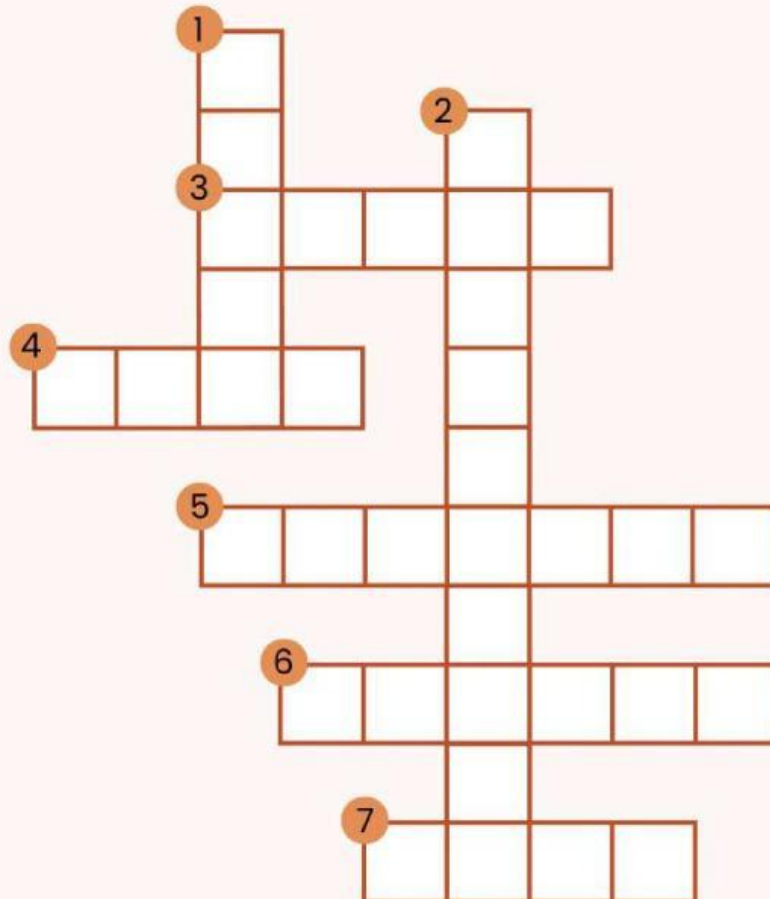
Nama: \_\_\_\_\_

Kelas: \_\_\_\_\_



# Teka-Teki Mengenal Panca Indra

Jawablah pertanyaan teka-teki silang di bawah ini!



## Pertanyaan:

- 1 Alat indra yang digunakan untuk merasakan sentuhan.
- 2 Mata, hidung, lidah, telinga, dan kulit disebut.
- 3 Indra pengecap disebut.
- 4 Indra untuk melihat.
- 5 Alat indra yang digunakan untuk mendengar.
- 6 Organ yang digunakan untuk mencium bau.
- 7 Lidah bisa merasakan berbagai jenis.

