



Lembar Kerja Peserta Didik

# LKPD

Bagaimana Bentuk Indonesiaku?

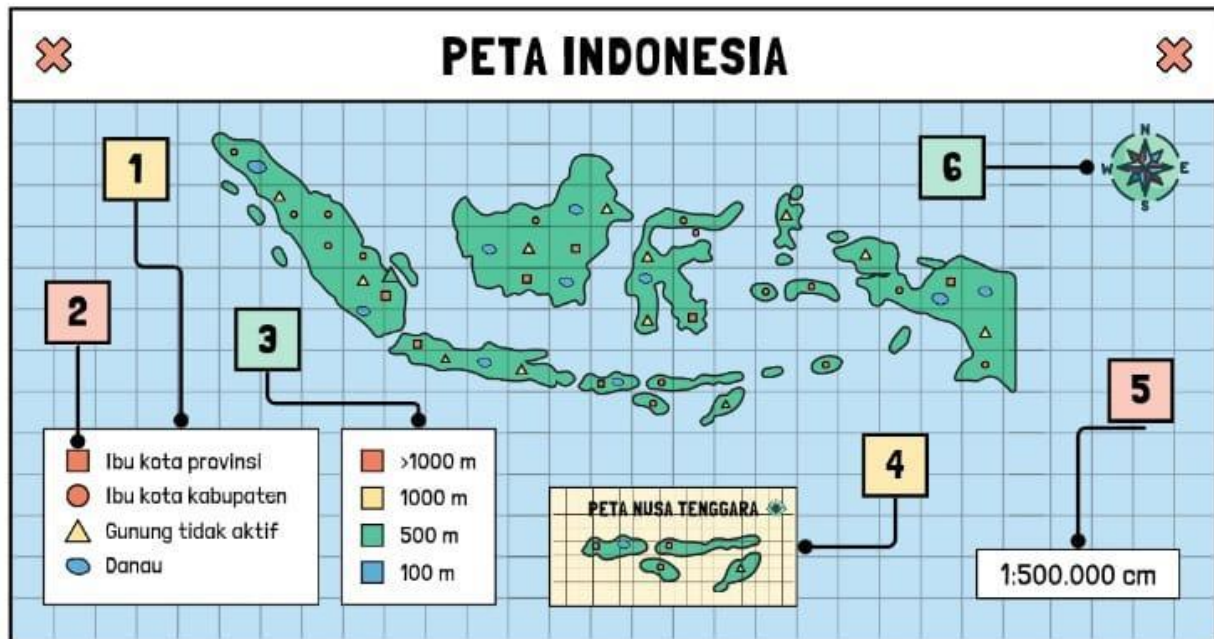



Nama Kelompok : .....

Kelas : .....

# A. MENGENAL PETA

Identifikasi dan jelaskan informasi umum dalam peta berikut!



1.

---

---

---

4.

---

---

---

2.

---

---

---

5.

---

---

---

3.

---

---

---

6.

---

---

---



## B. Letak Geografis Indonesia



Jawablah pertanyaan di bawah ini!



### Pertanyaan

- 1 Apa yang dimaksud dengan kondisi geografis Indonesia?

Jawab: \_\_\_\_\_

- 2 Indonesia berada diantara 2 benua. Benua apa sajakah itu?

Jawab: \_\_\_\_\_

- 3 Indonesia juga berada diantara 2 samudera. Samudera ala sajakah itu?

Jawab: \_\_\_\_\_

- 4 Mengapa Indonesia disebut negara maritim?

Jawab: \_\_\_\_\_

- 5 Mengapa Indonesia disebut sebagai negara agraris?

Jawab: \_\_\_\_\_



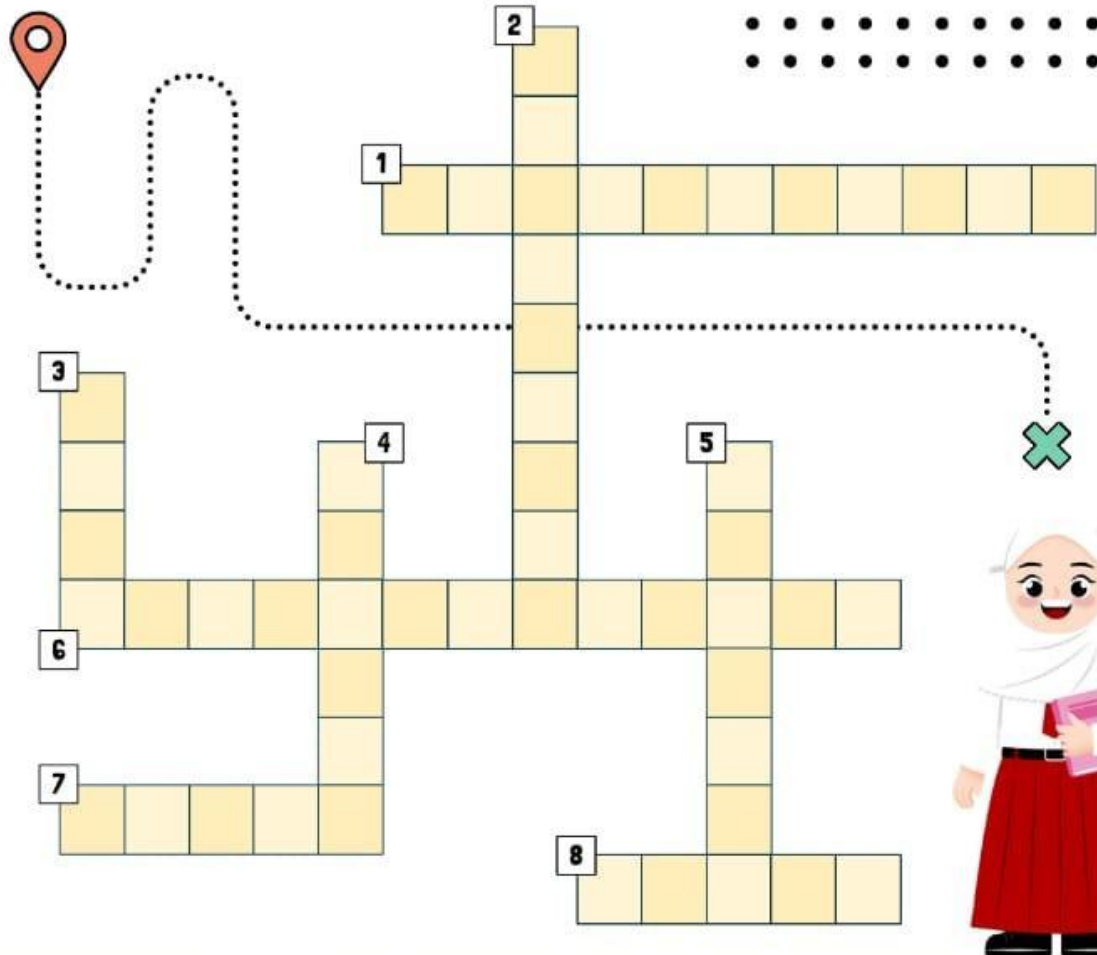


Anita ingin menyelesaikan teka teki silang yang ada di bawah ini. Anita Butuh bantuan untuk mengerjakannya. Yuk bantu anita mengerjakannya!!



# MENGENAL PETA

Selesaikan teka-teki silang di bawah ini dengan tepat!



## Mendatar

## Menurun

1. Peta yang disisipkan pada peta utama.
6. Alat bantu menentukan arah mata angin pada peta.
7. Menginformasikan jenis peta.
8. Perbandingan jarak di peta dengan jarak sebenarnya.

2. Penjelasan simbol warna pada peta.
3. Gambaran permukaan bumi pada bidang datar yang menggunakan skala tertentu.
4. Gambar kecil yang mewakili objek yang terdapat pada peta.
5. Berisi penjelasan simbol-simbol yang terdapat pada peta.