


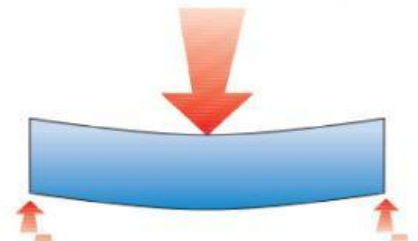
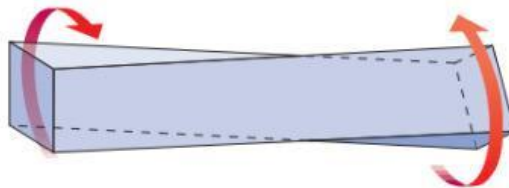
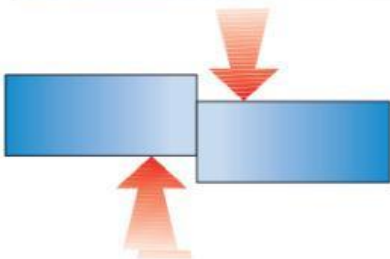


1. Ordena la gráfica del esfuerzo con la imagen e indica de cual se trata

Fuerzas aplicadas	Deformación obtenida
	
	
	
	
	



2. Identifica a que esfuerzo estarán sometidos los siguientes elementos

Patas de una mesa_____	Goma de una huevera_____
Cadena de un colgante_____	Estante de un armario_____
Destornillador al apretar un tornillo_____	Cuerda de tender la ropa_____
Papel cortado por una guillotina_____	Tronco de un árbol_____
Alcayata de un cuadro_____	Pie de una escultura_____

3. Identifica los esfuerzos a los que está sometido cada una de las partes de la estructura