


Nama :

Kelas:

Mengelompokkan Data

Samira hendak makan. Bantulah dia untuk memilih makanan yang sehat!
Letakkan makanan sehat di atas piring!



Nasi



Es Krim



Bayam



Mi Instan



Susu



Jeruk



Ikan Goreng



Permen



Donat



Kue






Nama :

Kelas :

Membaca Diagram Gambar

Siswa SD Melati sedang melakukan kegiatan olahraga. Sesi olahraga hari ini lari mengelilingi lapangan di sekolah. Diagram berikut menunjukkan data siswa yang berlari.

Diagram gambar siswa yang berlari.

Banyak putaran	Banyak Siswa
1	
2	
3	
4	
5	

Setiap  mewakili 1 siswa.

Jumlah siswa yang berlari lebih dari 3 putaran adalah _____

Jumlah siswa yang berlari lebih dari 4 putaran adalah _____

Jumlah siswa yang berlari 2 putaran adalah _____





Jumlah siswa yang ikut berlari adalah _____

Nama :

Kelas :

SORTIR GAMBAR SESUAI WARNA

Tarik gambar yang ada di bawah, lalu tempelkan gambar ke dalam kelompok warna yang benar!



Nama :

Kelas :

Diagram Turus Edisi Peternakan

Perhatikan Peternakan Paman di bawah ini. Hitunglah hewan ternak milik Paman dan tuliskan pada tabel di bawah ini dengan diagram turus.



Nama Hewan	Turus	Banyak Hewan
Sapi	IIII	4
Kambing		
Bebek		
Kelinci		