

LEMBAR KERJA PESERTA DIDIK (LKPD)

IPAS - KELAS 3

Mata Pelajaran: IPA	Nama:
Materi Pokok: Struktur dan Fungsi Makhluk Hidup	Kelas:
Kelas / Semester: 3 / Ganjil	Hari/Tanggal:
Alokasi Waktu: 40 Menit	

A. Isian Singkat

Jawablah pertanyaan berikut dengan tepat!

1. Bagian tubuh manusia yang digunakan untuk melihat
2. Bagian pada tubuh tumbuhan yang digunakan untuk menyerap air dari tanah adalah ...

B. Pilihan Ganda

Pilihlah dan tandai a,b, dan c yang tepat!

1. Bagian tumbuhan yang biasanya berwarna hijau dan berfungsi membuat makanan adalah.....
 - a. Daun
 - b. Bunga
 - c. Biji
2. Burung memiliki sayap untuk membantunya melakukan
 - a. Berjalan
 - b. Terbang
 - c. Berenang

C. Pilihan Ganda Komplek

Berilah tanda centang (✓) pada kotak disamping jawaban yang benar! (Jawaban bisa lebih dari satu)

Manakah pernyataan berikut yang bernilai BENAR?

- ☐ Bagian hewan yang digunakan untuk bergerak disebut kaki
- ☐ Ikan bernapas dengan paru-paru
- ☐ Telinga pada manusia digunakan untuk mendengar
- ☐ Fungsi daun yaitu untuk menyimpan Cadangan makanan

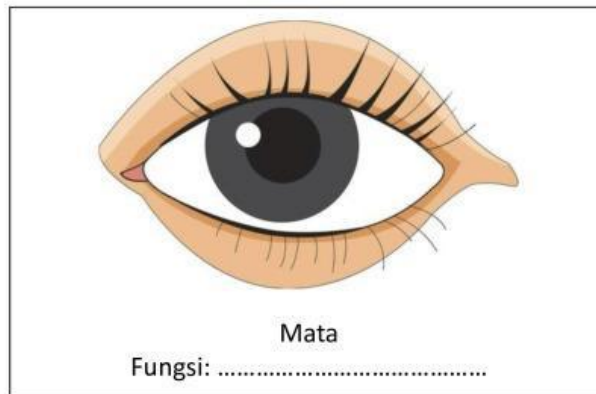
D. Pencarian Struktur Makhluk Hidup

Temukan 12 nama-nama struktur dan bagian tumbuhan) yang tersembunyi di dalam kotak berikut!
(Bisa mendatar atau menurun)

B U S E J A J A R M E T
 M K C J M B A T A N G A
 A E F A P Z B R Q U O V
 M S N T C A O U H P K P
 A E X Y B U A H N S U U
 A L L V I B N L M G D T
 I K N A M R W G E A A I
 B G A Z N Z I O N I U K
 I Z X R U G T P J N N R
 J M A H K O T A A L D A
 I T E X F G S A R V C T
 S T O M A T A B I A T A






E. Speaking

Sebutkan nama struktur berikut dan fungsinya



F. Menjodohkan

Tariklah garis untuk memasangkan gambar organ manusia dengan fungsinya yang tepat!

	•	•	Menghirup udara
	•	•	Melihat
	•	•	Mendengar
	•	•	Mencium bau
	•	•	Makan dan berbicara

Tarik dan cocokkan gambar nama organ pada makhluk hidup

