


Nombre: _____

Sección: _____

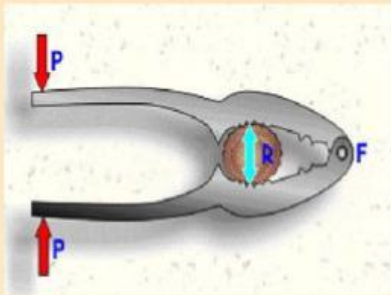
Fecha: _____

Calificación: _____

Relaciona la imagen con su nombre correspondiente




Plano inclinado



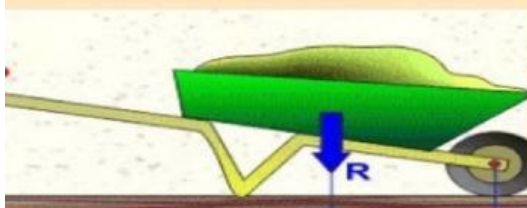
Palanca



Polea



Palanca 2° género



Palanca de 3° género