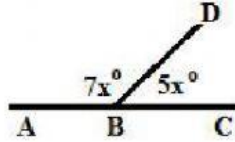


LATIHAN SOAL
GARIS DAN SUDUT

Pilihlah jawaban yang benar dari soal di bawah ini!

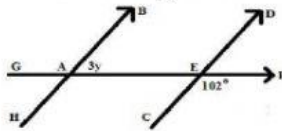
1. Perhatikan gambar di bawah ini



Besar $\angle ABD$ adalah

- A. 98° B. 105°
C. 112° D. 119°

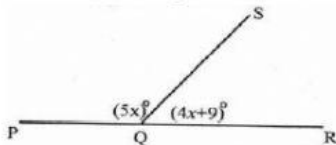
2. Perhatikan gambar di bawah ini



Nilai y adalah

- A. 24° B. 25°
C. 26° D. 34°

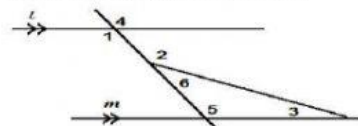
3. Perhatikan gambar di bawah ini



Besar pelurus sudut SQR adalah

- A. 101° B. 100°
C. 85° D. 92°

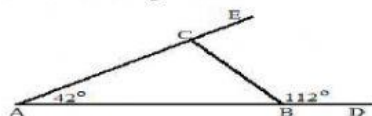
4. Perhatikan gambar berikut



Besar sudut nomor 1 adalah 95° , dan besar sudut nomor 2 adalah 110° . Besar sudut nomor 3 adalah

- A. 5° B. 15°
C. 25° D. 35°

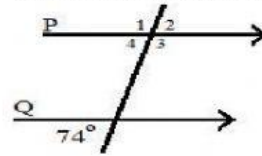
5. Perhatikan gambar



Besar $\angle BCA$ adalah

- A. 70° B. 100°
C. 110° D. 154°

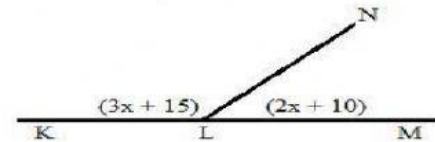
6. Perhatikan gambar di bawah ini



Besar $\angle P3$ adalah

- A. 37° B. 74°
C. 106° D. 148°

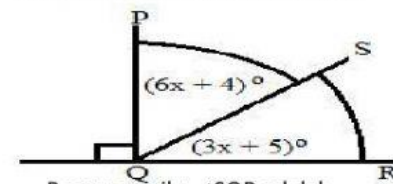
7. Perhatikan gambar di bawah ini



Besar pelurus sudut KLN adalah

- A. 31° B. 72°
C. 85° D. 108°

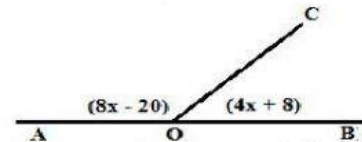
8. Perhatikan gambar di bawah ini



Besar penyiku $\angle SQR$ adalah

- A. 9° B. 32°
C. 48° D. 58°

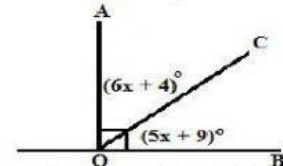
9. Perhatikan gambar di bawah ini



Besar pelurus $\angle AOC$ adalah

- A. 32° B. 72°
C. 96° D. 118°

10. Perhatikan gambar di bawah ini



Besar penyiku $\angle AQC$ adalah

- A. 49° B. 44°
C. 66° D. 80°