

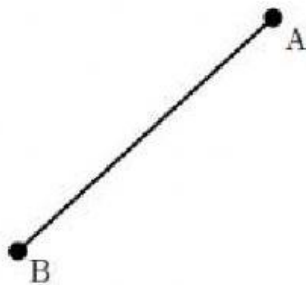


Gimnasio Reino de Castilla

(Antes Gimnasio Castillo Norte 1988)

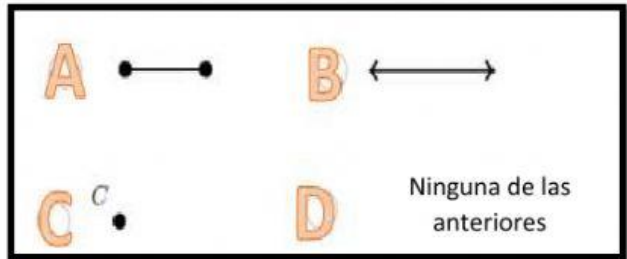
QUIZ DE GEOMETRÍA

1. ¿Cuál término describe esta figura?

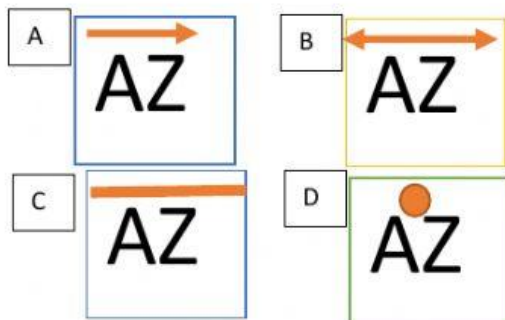


- A) Ángulo
- B) Recta
- C) Segmento
- D) Rayo

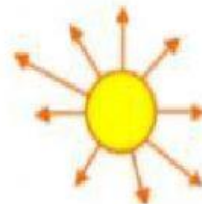
2. ¿Cuál de estos es un rayo?



3. Marisol quiere nombrar el segmento
¿Cuál es la forma indicada de hacerlo?



4. Los rayos del sol son:



- A. Un Rayo
- B. Un segmento
- C. Una recta
- D. Un punto

5. Felipe y Mariana escribieron sus propios conceptos de recta ¿Cuál de los dos tiene razón?



- A. Felipe
- B. Martina