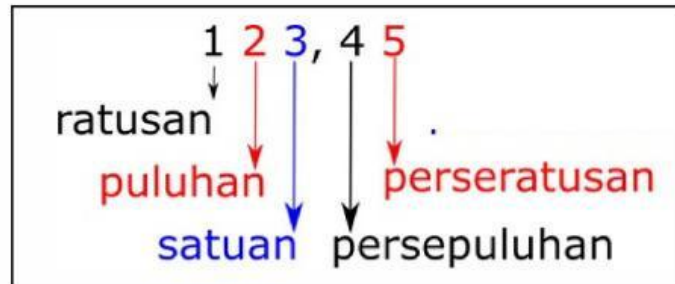




# DESIMAL DAN PERSEN



- Tunjukkan pecahan  $\frac{6}{10}$  dengan mengisi kotak kosong berikut dengan kotak berwarna di sampingnya!




$$\frac{6}{10} = 0,6$$


$$\frac{6}{10} = 0,6 = 60\%$$


Persen adalah cara untuk menyatakan pecahan seperseratusan menggunakan simbol %.




# DESIMAL DAN PERSEN

- Perhatikan gambar yang menyatakan pecahan berikut!
- Tuliskan pecahan dari gambar tersebut lalu ubahlah menjadi bentuk desimal dan persen!


1

 $\frac{\quad}{\quad} = \frac{\quad}{\quad} = \%$ 

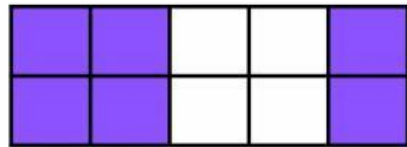
4

 $\frac{\quad}{\quad} = \frac{\quad}{\quad} = \%$ 


2

 $\frac{\quad}{\quad} = \frac{\quad}{\quad} = \%$ 


5

 $\frac{\quad}{\quad} = \frac{\quad}{\quad} = \%$ 

3

 $\frac{\quad}{\quad} = \frac{\quad}{\quad} = \%$ 

6

 $\frac{\quad}{\quad} = \frac{\quad}{\quad} = \%$