

LEMBAR KERJA PESERTA DIDIK

BANGUN RUANG SISI DATAR

Nama : _____
Kelas : _____

Bangun Ruang! Sisi Datar

1

Perhatikan Video Berikut ini!



2

Klik



3

TEKSFIELD

Bangun ruang yang memiliki 6 sisi, 12 rusuk, dan 8 titik sudut disebut...

4**SINGLE CHOICE**

Bangun ruang yang memiliki 5 sisi, 8 rusuk, dan 5 titik sudut disebut ...

5**CHECKBOXES**

Manakah yang merupakan bangun ruang sisi datar

☐**KUBUS**☐**BOLA**☐**KERUCUT**☐**PRISMA**☐**LIMAS**☐**BALOK****6****SPEAK**

Yang merupakan bagian dari bangun ruang sisi datar adalah :

☐**TABUNG**☐**LIMAS**☐**PRISMA**☐**BOLA**☐**KUBUS**

7

WORD SEARCH

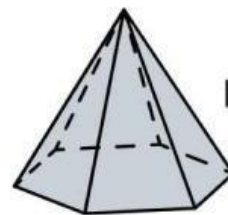
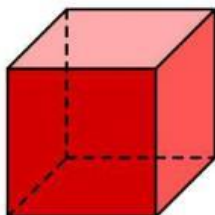
Cari kata yang berkaitan dengan bangun ruang sisi datar!

L	K	L	P	H	K	V	B
I	K	U	B	U	S	P	U
L	I	A	A	E	I	R	P
A	M	O	L	R	S	I	U
B	O	K	O	U	I	S	N
M	H	Q	K	C	N	M	C
Z	O	D	P	U	L	A	A
L	I	M	A	S	U	A	K

8

SPEAK

Sebutkan nama bangun ruang berikut ini dengan tepat

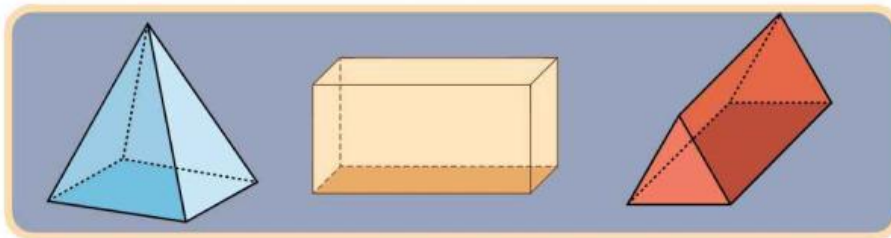

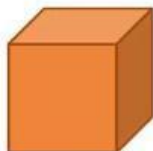
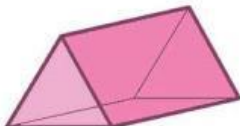
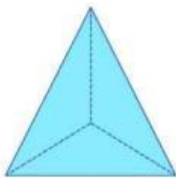


9**LISTENING**

Dengarkan suara berikut dan tuliskan jawabannya

**10****DANG AND DROP**

Pindahkan bangun ruang disamping ke kotak yang telah disediakan dengan tepat!

**BALOK****PRISMA****LIMAS****11****JOIN AND ARROW****KUBUS****LIMAS SEGITIGA****PRISMA SEGITIGA**