

DOKUMEN MADRASAH

SANGAT RAHASIA



NAMA :

NOMOR UJIAN :

ASESMEN SUMATIF AKHIR SEMESTER GANJIL

MI HIDAYATUL MUBTADIIN DEMPEL

TAHUN PELAJARAN 2025/2026

Mata Pelajaran : Seni Rupa	Hari /Tanggal :
Kelas : V (Satu)	Waktu : 90 menit

I. Berilah tanda silang (X) pada huruf a, b, atau c pada lembar jawaban yang benar!

- Unsur seni sebagai kombinasi dengan titik yang saling berhubungan adalah...
 - bidang
 - warna
 - garis
 - tekstur
- Unsur yang paling dasar dari seni rupa adalah...
 - titik
 - gelap terang
 - warna
 - bidang
- Sifat dan keadaan permukaan bidang pada suatu karya seni disebut dengan ...
 - gelap terang
 - warna
 - bentuk
 - tekstur
- Yeni menggambar objek dengan menerapkan unsur berupa permukaan datar. Unsur yang terkandung dalam gambar Yeni adalah...
 - bentuk
 - bidang
 - ruang
 - tekstur
- Cabang seni yang diungkapkan atau diciptakan menggunakan media rupa visual yang dapat dilihat mata dan dirasakan ketika diraba adalah...
 - seni musik
 - seni tari
 - seni rupa
 - seni teater
- Tekstur merupakan suatu permukaan yang dapat terasa ketika...
 - dilihat
 - diraba
 - diterawang
 - didengar
- Ritme dalam prinsip seni rupa adalah...
 - banyak bentuk benda
 - motif benda yang menarik
 - bentuk benda yang dibuat indah
 - pengulangan bentuk, warna dan motif
- Keseimbangan dalam seni rupa dapat diciptakan dengan cara...
 - menjaga kesimetrisan berbagai macam gambar yang ada
 - memberi perbedaan yang mencolok dari dua atau lebih unsur yang berbeda
 - menggunakan obyek yang memiliki bentuk lebih dominan daripada yang lainnya
 - melakukan pengulangan unsur secara teratur
- Kesempurnaan unsur yang melekat pada suatu karya dapat berdampak pada...
 - nilai sejarah seni
 - apresiasi
 - perubahan bahan karya
 - pesan yang disampaikan
- Penggambaran dengan menutup objek gambar menggunakan satu warna dinamakan...
 - teknik blok
 - teknik linier
 - teknik pointilis
 - teknik dussel
- Berikut teknik menggambar visual *kecuali*...
 - teknik dussel
 - tenil arsir
 - teknik simpul
 - teknik linier

12. Dito menggambar objek dengan menerapkan teknik dengan garis sebagai unsur penentu. Teknik yang diterapkan Dito adalah...
- blok
 - linier
 - arsir
 - dusset
13. Perhatikan hasil karya berikut!
 Objek gambar : pohon kelapa dan orang
 Hasil karya ; tinggi pohon kelapa lebih pendek dari orang
- Supaya menjadi proporsi, hal yang harus diperbaiki adalah...
- orang dibuat lebih tinggi
 - orang dibuat lebih gemuk
 - pohon kelapa dilengkapi buah yang lebih banyak
 - pohon kelapa dibuat lebih tinggi
14. Lingkaran, segitiga dan persegi contoh dari seni rupa...
- titik
 - garis
 - volume/bentuk
 - bidang
15. Perpaduan dan kesesuaian semua unsur yang terdapat dalam seni rupa itu sendiri dinamakan prinsip...
- proporsi
 - penekanan
 - irama
 - kesatuan
16. Unsur yang berperan penting mewujudkan karya seni menjadi lebih indah adalah ...
- garis
 - tekstur
 - warna
 - lengkung
17. Gabungan dari beberapa garis merupakan unsur seni rupa...
- garis
 - tekstur
 - warna
 - bidang
18. Penggambaran objek dengan garis sebagai unsur penentu, baik lurus atau lengkung dinamakan teknik...
- arsir
 - blok
 - linier
 - pointilis
19. Di bawah ini termasuk unsur seni rupa **kecuali**...
- bentuk
 - kontras
 - gelap terang
 - ruang
20. Di bawah ini merupakan prinsip seni rupa **kecuali**...
- ritme
 - keseimbangan
 - kesatuan
 - blok
21. Gambar di bawah ini merupakan contoh unsur...




- bidang
 - volume
 - ruang
 - ritme
22. Gambar di bawah ini merupakan contoh unsur...



- bidang
- proporsi
- ritme
- bidang

23. Gambar di bawah ini merupakan contoh unsur...



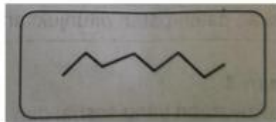
- a. ritme
- b. titik
- c. ruang
- d. warna

24. Gambar di bawah ini merupakan contoh unsur ...



- a. lengkung
- b. ritme
- c. gelap terang
- d. proporsi

25. Gambar tersebut merupakan garis ...



- a. lengkung
- b. lurus
- c. titik
- d. zig-zag


26. Garis yang digunakan untuk menggambar bola adalah ...

- a. lurus
- b. zig-zag
- c. vertikal
- d. melengkung

27. Aku agak cair teksturku lengket, aku digunakan untuk menempel kertas. Aku adalah...

- a. lilin
- b. lem
- c. tissue
- d. kain

28. Garis di bawah ini berbentuk gelombang, cocok untuk gambar ...



- a. tanah
- b. udara
- c. kayu
- d. laut

29. Memadukan dari warna gelap ke terang disebut...

- a. gradasi
- b. tekstur
- c. titik
- d. mediasi

30. Garis yang digunakan untuk gambar jeruk adalah...



- a. kotak
- b. melengkung

- c. zig-zag
- d. titik

31. Teknik yang dapat menimbulkan efek 3 dimensi disebut teknik...

- a. pointilis
- b. Blok
- c. arsir
- d. linier

32. Hubungan antara dua tali atau lebih disebut...
- a. tarikan
 - b. simpul
 - c. ikatan
 - d. tali
- 33.

Gambar di atas termasuk jenis simpul...

- a. rantai
 - b. ganda
 - c. tunggal
 - d. kepala
34. Simpul yang sederhana dan mudah dipraktikan adalah simpul...
- a. kepala
 - b. mati
 - c. tunggal
 - d. ganda
35. Rotan sebagai bahan pembuatan anyaman memiliki permukaan yang ...
- a. halus dan licin
 - b. licin dan tajam
 - c. lembut dan halus
 - d. datar dan licin
36. Perhatikan benda- benda berikut!

- | | |
|-------|------------------|
| (i) | Tikar plastik |
| (ii) | Kursi rotan |
| (iii) | Keranjang pakain |
| (iv) | ketupat |

Contoh anyaman dari bahan buatan ditunjukkan oleh nomor...

- a. (i) dan (ii)
 - b. (ii) dan (iii)
 - c. (iii) dan (iv)
 - d. (i) dan (iv)
37. Kesatuan merupakan unsur yang menciptakan...
- a. kemegahan
 - b. keindahan
 - c. keteraturan
 - d. kelenturan
38. Benda cinderamata yang mudah dibawa dan memiliki nilai kepraktisan tinggi sebagai benda kenang-kenangan disebut...
- a. oleh-oleh
 - b. Souvenir
 - c. hadiah
 - d. kado
39. Di bawah ini yang harus diperhatikan saat membuat souvenir dari anyaman adalah...
- a. tekstur bahan anyaman
 - b. harga bahan anyaman
 - c. warna yang digunakan
 - d. asal bahan anyaman
40. Bentuk anyaman dibuat berdasarkan fungsinya. Anyaman yang digunakan petani sehari-hari adalah...
- a. tudung saji
 - b. tikar
 - c. caping
 - d. tas
41. Berikut contoh souvenir anyaman dua dimensi adalah...
- a. kipas, tas, dan taplak meja
 - b. tikar, taplak meja, dan kipas
 - c. topi, tas dan hiasan di kulkas
 - d. tudung saji, taplak meja dan hiasan kulkas
42. Pak Bgio membeli kursi dari anyaman rotan. Tujuan Pak bagio membeli kursi adalah mengedepankan nilai...
- a. teknologi
 - b. keindahan
 - c. fungsi
 - d. budaya
43. Anyaman yang memiliki ukuran panjang, lebar dan tinggi adalah anyaman...
- a. satu dimensi
 - b. dua dimensi
 - c. tiga dimensi
 - d. tiga dimensi
44. Contoh karya yang dibuat dari bahan anyaman eceng gondok adalah...
- a. tas
 - b. dinding rumah
 - c. kipas
 - d. gantungan kunci

45. Bahan yang biasanya digunakan untuk membuat souvenir anyaman adalah serat...
- a. triplek
 - b. kayu jati
 - c. rotan
 - d. batu
46. Berikut tempat yang biasanya menyediakan souvenir dari anyaman adalah...
- a. stasiun
 - b. tempat wisata
 - c. halte
 - d. rumah sakit
47. Berikut benda yang dapat dibuat dari anyaman adalah *kecuali*...
- a. kipas
 - b. meja
 - c. caping
 - d. keranjang
48. Berikut yang termasuk tali yang berasal dari bulu hewan adalah...
- a. tali wol
 - b. tali goni
 - c. tali ijuk
 - d. tali polyester
49. Beni ingin membuat gantungan kunci dari bahan utama tali. Oleh karena itu, dia harus menggunakan teknik...
- a. merajut
 - b. makrame
 - c. meronce
 - d. menganyam
50. Makrame berasal dari bahasa ...
- a. Persia
 - b. Arab
 - c. Turki
 - d. India