

LKPD

Ilmu Pengetahuan Alam

Siklus pada Makhluk Hidup

Hari/Tanggal:

Kelompok :

1. _____

2. _____

3. _____

4. _____

Waktu Pengerjaan 10 Menit



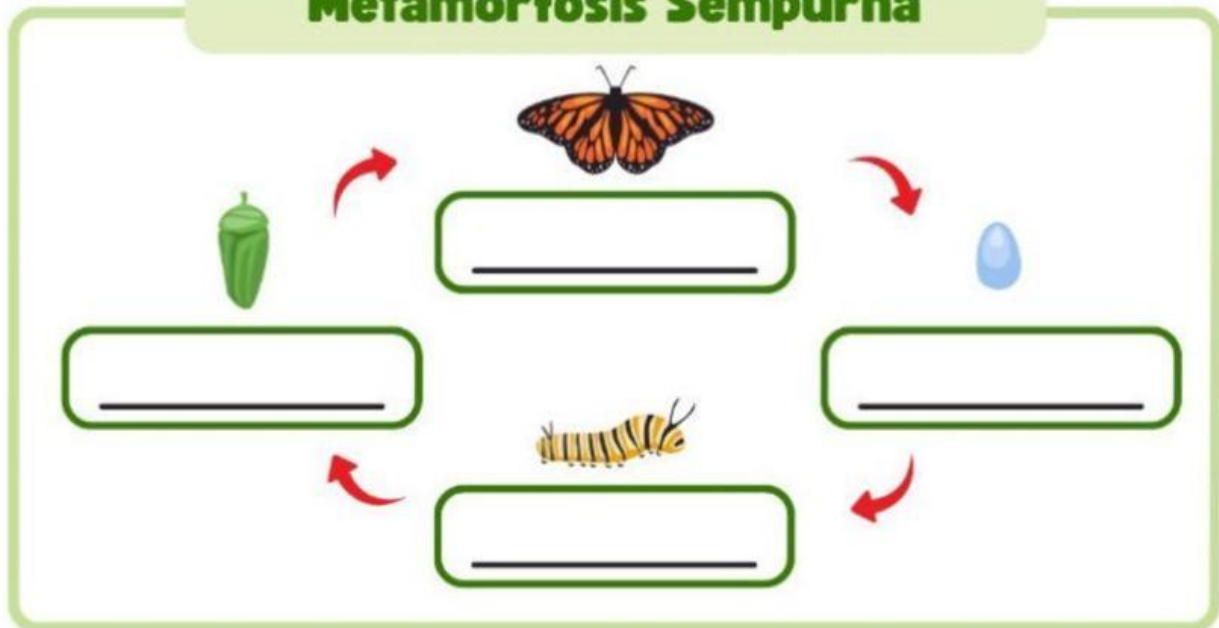
Tujuan

Setelah mengerjakan LKPD Peserta didik dapat memahami Metamorfosis Sempurna dan Tidak Sempurna

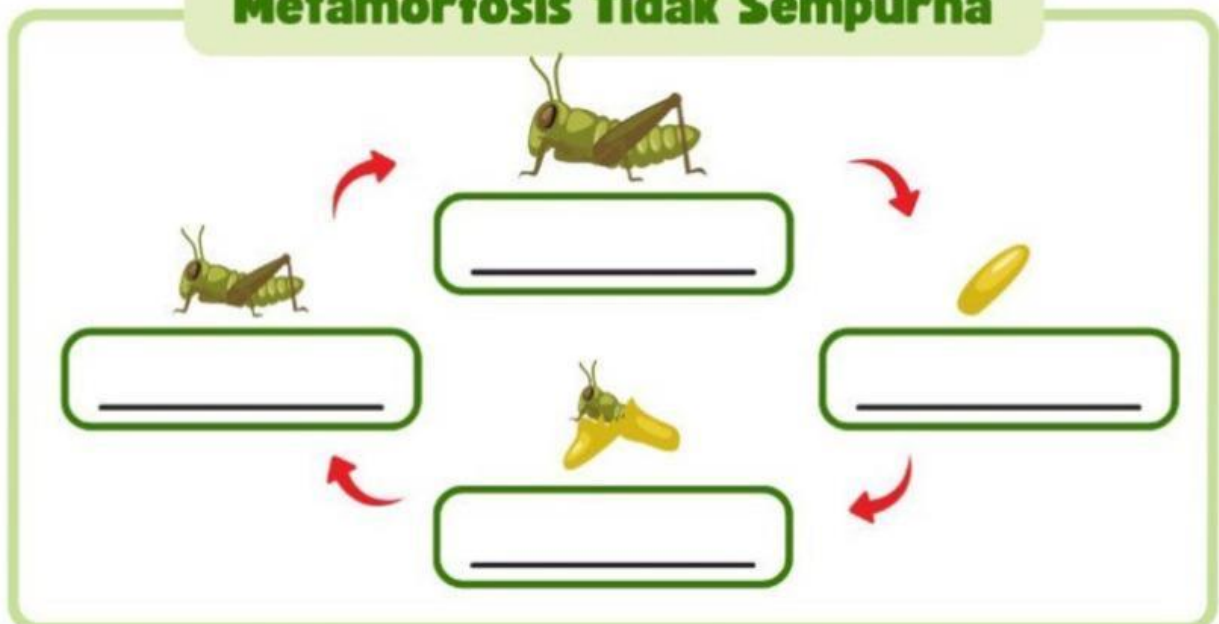
A.Orientasi Peserta didik terhadap masalah

- Perhatikan gambar di bawah ini.
- Isilah titik-titik sesuai gambar.

Metamorfosis Sempurna



Metamorfosis Tidak Sempurna



B.Mengorganisasikan peserta didik untuk belajar

Setiap anggota kelompok duduk dalam kelompok yang ditentukan guru untuk menghubungkan gambar hewan sesuai dengan bentuknya



Metamorfosis
sempurna


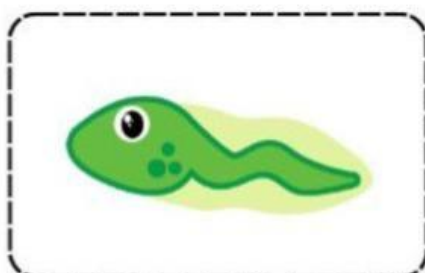
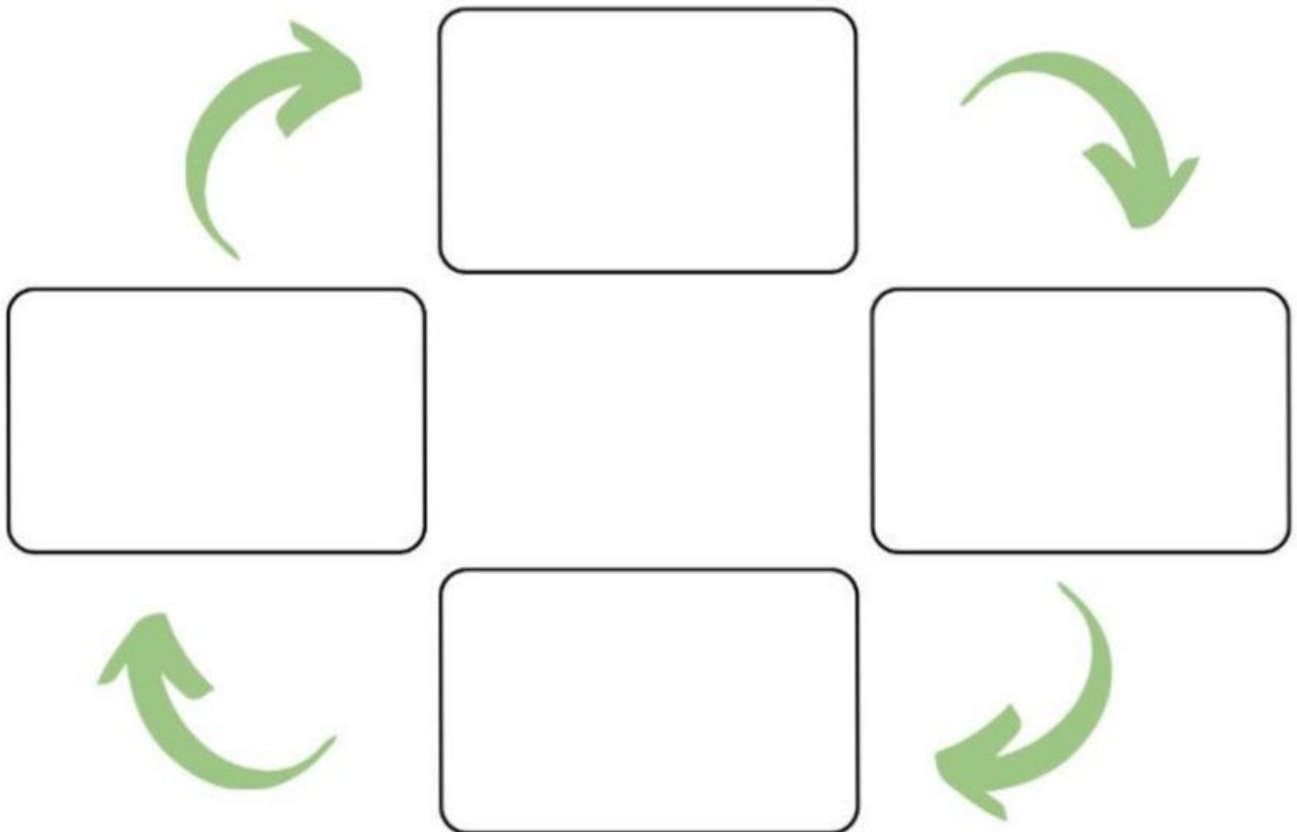
Metamorfosis
tidak sempurna

C. Penyelidikan Kelompok

Setiap kelompok dengan bimbingan guru menempelkan gambar sesuai dengan urutan

Siklus Hidup Katak

Guntinglah gambar di bawah ini, kemudian tempelkan sesuai urutan siklus hidup katak dengan benar!



D.Mengembangkan dan menyajikan hasil karya

Presentasikan hasil dari LKPD kelompok di depan kelas bergilir secara berkelompok



E.Menganalisis dan Mengevaluasi proses pemecahan Masalah

Ceritakan kembali bagaimana cara kamu menjawab Lembar kerja peserta didik dengan teman sekelompokmu

Good Luck

