
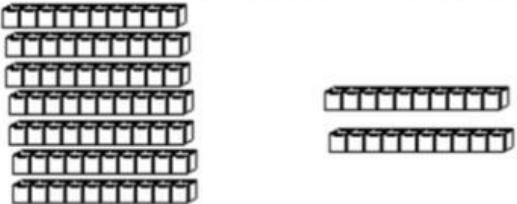



نشاط تمايزي جمع العشرات

الكفاية : جمع العشرات بالعد التصاعدي

س١: أجد ناتج الجمع باستعمال  :



 ٢ عشرات + ٧ عشرات = ... عشرات = ٧٠ + ٢٠	 ٣ عشرات + ٥ عشرات = ... عشرات = ٥٠ + ٣٠
---	--

س٢: أجد ناتج جمع الأعداد التالية :



٣٠

٥٠

٤٠ +

١٠ +

.....

.....

** أجب عن المسألة التالية :



تقف ٥٠ سيارة في موقف للسيارات إذا جاءت ٨٠ سيارة أخرى ووقفت في الموقف نفسه، فما عدد السيارات في الموقف ؟

الحل :

.....