


LKPD

Matematika

Bab 1. Ayo Membilang sampai dengan 100

Bab 1. Ayo Membilang sampai dengan 100



Disusun oleh : Nabila Hidayatullah (23129212)



A. IDENTITAS

Satuan Pendidikan. : SDN 01 Melati
Kelas/semester : 2 /Genap
Mata Pelajaran : MTK
Alokasi waktu : 30 menit
Hari/tanggal :
Nama kelompok :
Anggota kelompok :
1.
2.
3.
4.
5.

B. TUJUAN PEMBELAJARAN

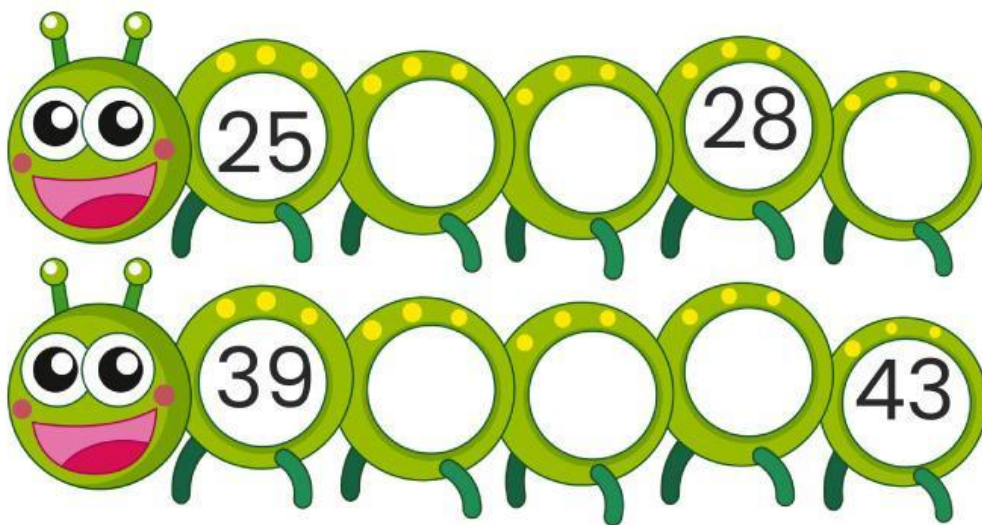
- Peserta didik dapat membaca dan menulis bilangan cacah sampai dengan 100 dengan benar.
- Peserta didik dapat menentukan nilai tempat (puluhan dan satuan) pada bilangan cacah sampai 100.

C. PETUNJUK PENGGUNAAN LKPD

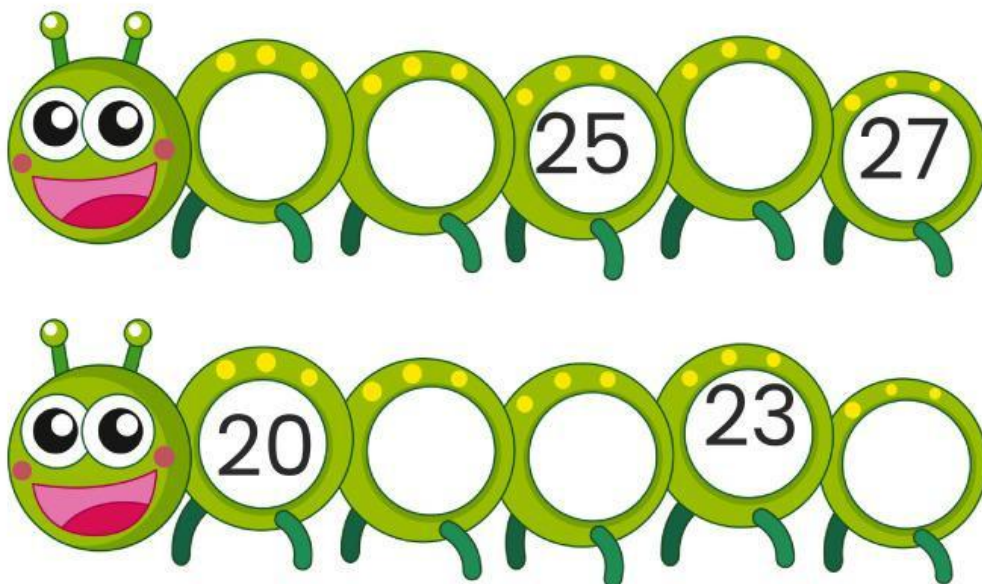
1. Baca dengan seksama seluruh bagian LKPD sebelum mengerjakan.
2. Tuliskan identitas diri dengan lengkap.
3. Ikuti instruksi pada setiap langkah kegiatan, kerjakan secara berurutan.
4. Diskusikan dengan teman sekelompok atau bertanya kepada guru jika ada bagian yang tidak dipahami.
5. Setelah selesai periksa kembali jawaban Anda dan pastikan semua bagian sudah terisi.

MEMBILANG MAJU DAN MEMBILANG MUNDUR

Lengkapilah bilangan di bawah ini dengan
bilangan maju!



Lengkapilah bilangan di bawah ini dengan
bilangan mundur!



Nilai Tempat dalam Bilangan Cacah

Bagilah bilangan cacah di bawah ini
sesuai dengan tempatnya.

Bilangan Cacah

23

Puluhan

Satuan

Bilangan Cacah

75

Puluhan

Satuan

Bilangan Cacah

48

Puluhan

Satuan

Bilangan Cacah

91

Puluhan

Satuan

Bilangan Cacah

98

Puluhan

Satuan

MEMASANGKAN LAMBANG DENGAN NAMA BILANGAN

Pasangkan setiap lambang bilangan dan
nama bilangan dengan menarik garis!

50 •

22 •

43 •

72 •

56 •

65 •

19 •

38 •

Tujuh puluh dua

Lima puluh

Sembilan belas

Enam puluh lima

Tiga puluh tiga

Dua puluh dua

Empat puluh tiga

Lima puluh enam