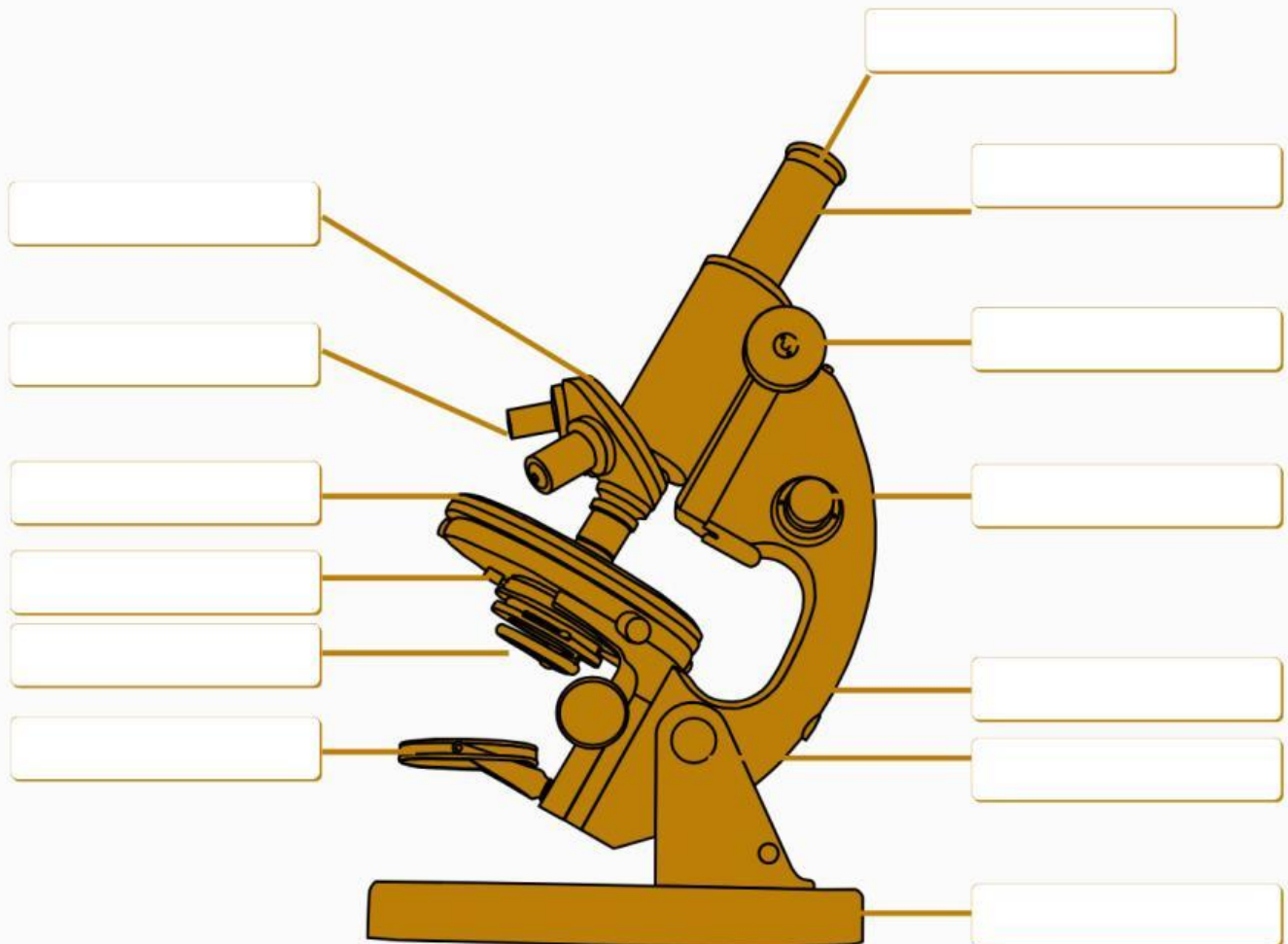


Nama : _____

Kelas : _____

BAGIAN-BAGIAN MIKROSKOP

Lengkapilah bagian-bagian mikroskop di bawah ini!



Lensa Okuler

Lensa objektif

Tabung

Makrometer

Mikrometer

Lengan

Sendi Inklinasi

Kaki/dasar

Reflektor

Diafragma

Kondensor

Meja Preparat

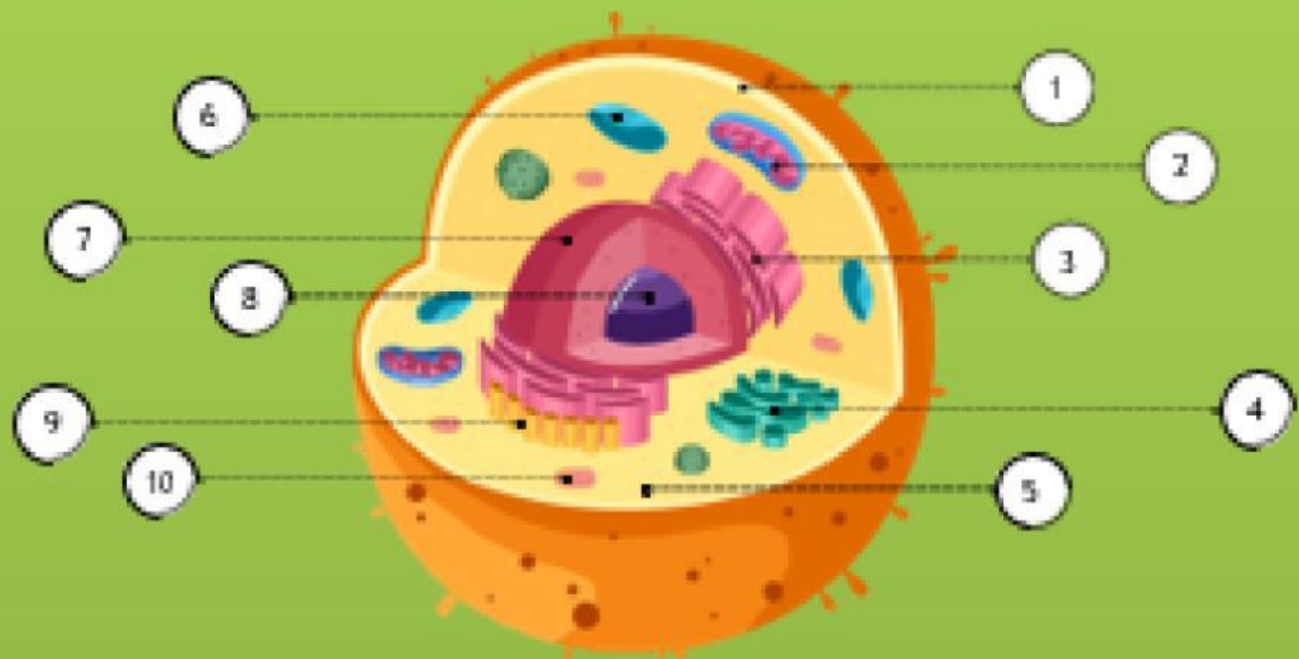
Revolver

Nama:

Kelas:

BAGIAN-BAGIAN SEL HEWAN

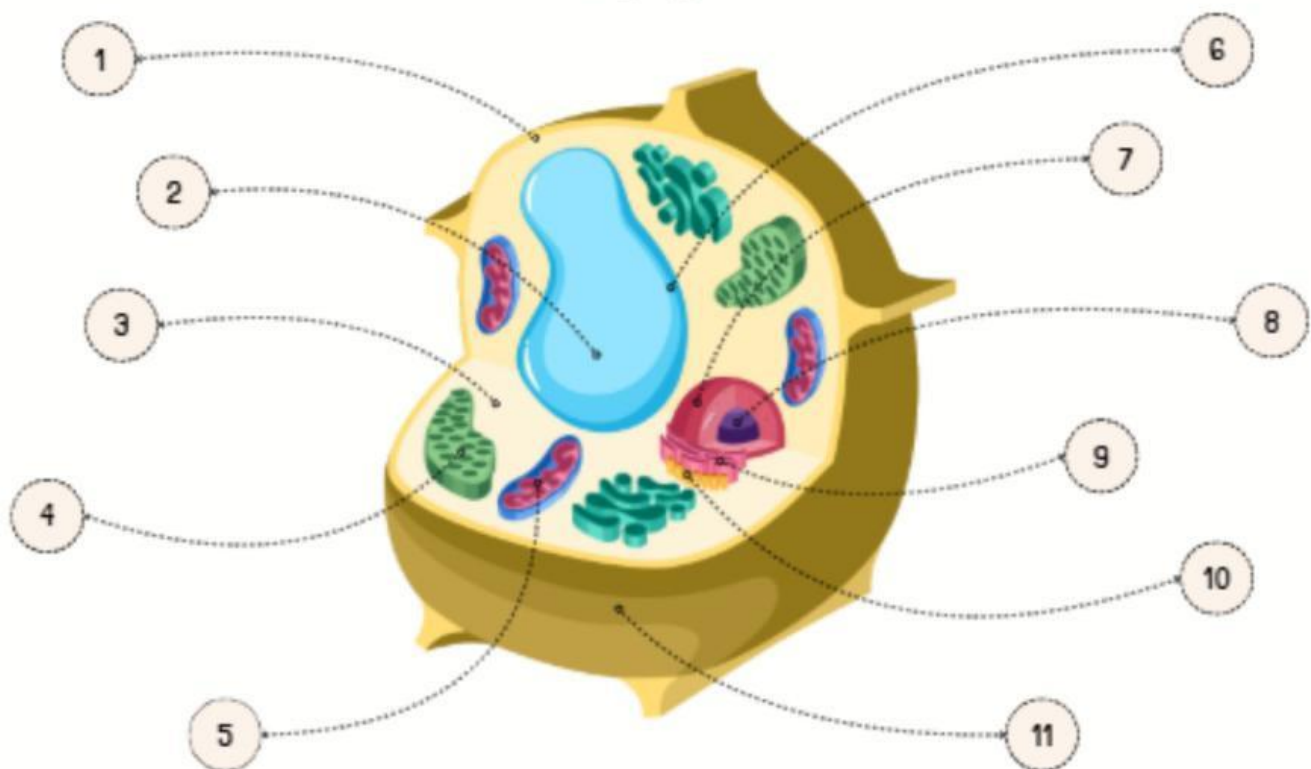
Perhatikan Gambar. Berilah nama pada setiap bagian pada tabel sesuai dengan nama dan fungsinya!



NÖ	NAMA	FUNGSI
1.		
2.		
3.		
4.		
5.		
6.		
7.		
8.		
9.		
10.		

BAGIAN-BAGIAN SEL TUMBUHAN

Amatilah gambar di bawah ini. Lengkapilah gambar dengan memberi nama yang sesuai.



1.

2.

3.

4.

5.

6.

7.

8.

9.

10.

11.

1. Hewan mikroskopis yang tidak tampak oleh mata biasa, dapat dilihat menggunakan ...

a. teleskop

c. Makrometer

b. Mikroskop

d. Mikrometer

2. Lensa yang dekat dengan objek dan berfungsi untuk memperbesar bayangan benda adalah...

a. Lensa Okuler

c. Lensa Mata

b. Lensa Obyektif

d. Cermin

3. Mikroskop terdiri dari bagian mekanik dan bagian optik, yang termasuk bagian optik adalah ...

a. Lensa okuler, revolver dan cermin

b. Lensa objektif, cermin dan skrup pemutar halus

c. Lensa okuler, lensa objektif dan skrup pemutar kasar

d. Lensa objektif, cermin dan lensa okuler

4. Bagian mikroskop yang berfungsi untuk mengatur banyak sedikitnya cahaya yang masuk adalah.....

a. Diafragma

c. Makrometer

b. Lensa Objektif

d. Mikrometer

5. mikroskop yang menggunakan cahaya sebagai sumber energi untuk memperbesar obyek dan memiliki dua lensa okuler disebut...

a. Mikroskop elektron

c. Mikroskop binokuler

b. Mikroskop monokuler

d. Mikroskop trinokuler