

LEMBAR KERJA PESERTA DIDIK BANGUN RUANG SISI LENGKUNG



Kegiatan 1

Carilah kata yang berhubungan dengan bangun ruuaang sisi lengkung!

K	B	I	G	B	W	R	E
S	R	E	R	O	E	T	V
S	C	T	S	L	F	G	D
J	E	H	I	A	G	H	G
W	R	U	S	U	K	J	H
Q	F	B	I	A	H	L	J
Y	D	V	W	Q	O	D	T

Kegiatan 2

Yang merupakan bangun ruang sisi lengkung adalah:

☐

Tabung

☐

Kerucut

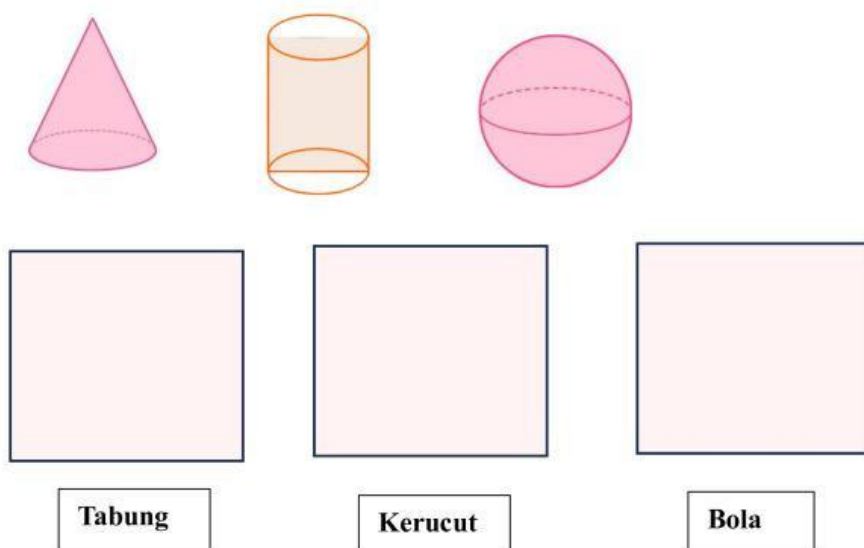
☐

Balok

☐

Bola

Kegiatan 3




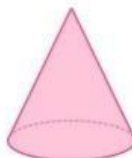
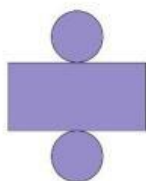
Kegiatan 4

Sebutkan nama bangun ruang berikut dengan benar!



Kegiatan 5

Tarik panah untuk memasangkan jari-jari dan bangun ruang di bawah ini!



Kegiatan 6

Bangun ruang sisi lengkung yang rumus untuk mencari luasnya $s = \sqrt{r^2 + t^2}$ adalah...

Kegiatan 7

Sebuah tabung memiliki jari-jari 7 cm dan tinggi 10 cm.
Hitunglah volume tabung tersebut!