



MADRASAH IBTIDAIYAH ISLAMIYAH KEDUNGJAMBU
SUMATIF AKHIR SEMESTER GANJIL MADRASAH IBTIDAIYAH
TAHUN AJARAN 2025/2026

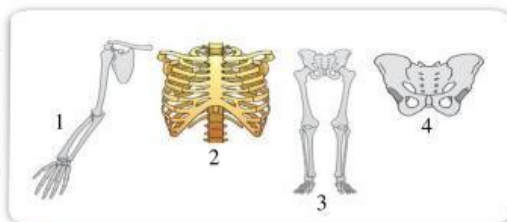
Mapel : IPAS
Kelas : VI (Enam)

Hari /Tanggal : Kamis, 27 November 2025
Waktu : 09.30 – 11.00

A. Pilihan Ganda

Pilihlah satu jawaban yang paling benar!

1. Fungsi utama dari tulang tengkorak pada sistem gerak manusia adalah melindungi organ vital yang berfungsi sebagai pusat koordinasi. Organ vital yang dimaksud adalah
A. Jantung yang memompa darah ke seluruh tubuh
B. Paru-paru yang berfungsi dalam proses pernapasan
C. Otak yang mengontrol seluruh aktivitas tubuh
D. Ginjal yang berfungsi sebagai penyaring darah
2. Sendi yang memungkinkan gerakan ke segala arah, seperti pada bahu dan panggul, diklasifikasikan sebagai sendi
A. Sendi engsel yang hanya dapat bergerak satu arah
B. Sendi putar yang bergerak memutar pada satu poros
C. Sendi pelana yang memiliki gerakan dua arah
D. Sendi peluru yang bergerak bebas ke segala arah
3. Penyakit pada sistem gerak yang ditandai dengan penurunan kepadatan massa tulang sehingga tulang menjadi rapuh dan rentan patah disebut
A. Skoliosis, yaitu kelainan bentuk tulang belakang
B. Osteoporosis, yaitu pengeroposan massa tulang
C. Kifosis, yaitu kelainan tulang belakang membungkuk
D. Rakitis, yaitu kelainan pertumbuhan tulang pada anak
4. Perhatikan beberapa rangka dalam gambar berikut!

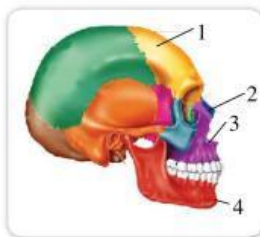


Rangka tulang yang termasuk rangka anggota gerak adalah

- A. 1, 2
- B. 3, 4
- C. 1, 3
- D. 2, 4



5. Otot seperti gambar di samping memiliki karakteristik khusus, yaitu
- A. Bekerja secara tidak sadar dan terdapat pada dinding organ dalam
 - B. Bekerja secara tidak sadar dan hanya terdapat pada jantung
 - C. Bekerja secara sadar dan memiliki garis gelap terang
 - D. Bekerja secara sadar dan tidak memiliki garis gelap terang
6. Cara yang paling efektif untuk menjaga kesehatan tulang dan mencegah osteoporosis sejak usia dini adalah dengan
- A. Sering berolahraga angkat beban berat setiap hari
 - B. Mengonsumsi makanan yang kaya kalsium dan vitamin D
 - C. Tidur larut malam secara teratur dan menghindari sinar matahari
 - D. Minum minuman manis dan bersoda dalam jumlah banyak



7. Perhatikan gambar berikut!

Bagian yang ditunjukkan oleh angka 1 adalah

- A. Tulang pengumpil
- B. Tulang rahang bawah
- C. Tulang pelipis
- D. Tulang dahi

8. Perhatikan gambar berikut!



Kelainan tulang yang terjadi pada gambar di samping disebut

- A. Kifosis
- B. Lordosis
- C. Skoliosis
- D. Rakitis

9. Tujuan utama bangsa Eropa datang ke Indonesia pada abad ke-16 dikenal dengan semboyan 3G. G yang pertama, Gold, memiliki makna yaitu
 - A. Menyebarkan agama Nasrani ke seluruh nusantara
 - B. Memperoleh kekayaan berupa rempah-rempah dan mineral
 - C. Mencari kejayaan dengan menguasai wilayah baru
 - D. Membangun kerjasama ekonomi dengan penduduk lokal
10. Salah satu perlawanan rakyat Indonesia terhadap VOC yang terkenal dipimpin oleh Sultan Hasanuddin, yang mendapat julukan "Ayam Jantan dari Timur," adalah perlawanan dari kerajaan
 - A. Kerajaan Mataram yang berada di Jawa Tengah
 - B. Kerajaan Aceh yang berada di ujung Sumatera
 - C. Kerajaan Gowa-Tallo yang berada di Sulawesi
 - D. Kerajaan Ternate yang berada di Maluku Utara
11. Peristiwa Rengasdengklok terjadi karena adanya perbedaan pendapat antara golongan tua dan golongan muda mengenai
 - A. Bentuk negara yang akan dibentuk setelah merdeka
 - B. Waktu dan cara pelaksanaan proklamasi kemerdekaan
 - C. Pembentukan kabinet pertama Republik Indonesia
 - D. Perumusan dasar negara yang akan digunakan
12. Pada tanggal 17 Agustus 1945, Indonesia memproklamasikan kemerdekaan. Tokoh yang membacakan naskah proklamasi tersebut adalah
 - A. Mohammad Hatta yang mendampingi penyusunan
 - B. Soekarno yang merupakan presiden pertama
 - C. Sutan Syahrir yang menjabat sebagai perdana menteri
 - D. Achmad Soebardjo yang merumuskan naskah



13. Tokoh pahlawan nasional pada gambar yang memimpin perlawanan besar terhadap Belanda pada tahun 1825-1830 adalah
 - A. Teuku Umar dari Aceh
 - B. Pangeran Diponegoro dari Jawa
 - C. Tuanku Imam Bonjol dari Sumatera
 - D. Sultan Agung dari Mataram
14. Pahlawan perempuan yang gigih melawan Belanda di Aceh meskipun suaminya telah gugur

di medan perang adalah

- A. Martha Christina Tiahahu
- B. R.A. Kartini
- C. Cut Nyak Dien
- D. Dewi Sartika




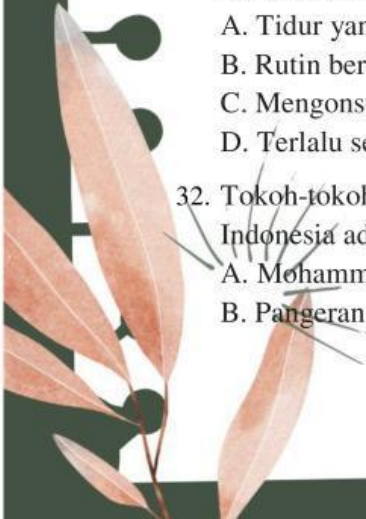
15. Tokoh sesuai gambar di samping adalah
- A. Soetomo
 - B. Mohammad Hatta
 - C. Mohammad Yamin
 - D. Ki Hajar Dewantara
16. Dampak negatif paling terasa dari penjajahan Jepang di Indonesia bagi rakyat adalah diterapkannya sistem Romusha, yaitu
- A. Kewajiban menjual hasil bumi dengan harga murah
 - B. Kerja paksa tanpa upah dan perlakuan buruk
 - C. Larangan menggunakan bahasa selain bahasa Jepang
 - D. Pendidikan hanya untuk kaum bangsawan saja
17. Pertempuran sengit di Surabaya pada 10 November 1945 yang kemudian diperingati sebagai Hari Pahlawan dipicu oleh
- A. Kedatangan tentara Sekutu yang tidak mengakui kemerdekaan
 - B. Perebutan senjata dari tentara Jepang yang telah kalah
 - C. Pembunuhan Jenderal Mallaby oleh pejuang Indonesia
 - D. Adanya serangan balasan dari tentara Belanda
18. Organisasi pergerakan nasional yang didirikan oleh para pelajar STOVIA pada tahun 1908 dan menjadi pelopor pergerakan kebangsaan Indonesia adalah
- A. Indische Partij
 - B. Budi Utomo
 - C. Sarekat Islam
 - D. Muhammadiyah
19. Benua yang memiliki luas wilayah paling kecil dan sebagian besar wilayahnya merupakan daratan kering atau gurun adalah Benua
- A. Benua Afrika yang terletak di antara dua samudra
 - B. Benua Eropa yang merupakan satu daratan dengan Asia
 - C. Benua Australia yang merupakan benua pulau
 - D. Benua Amerika yang terbagi menjadi Utara dan Selatan
20. Kondisi geografis Benua Antartika yang menjadikannya tidak layak dihuni oleh manusia secara permanen adalah
- A. Wilayahnya merupakan dataran rendah yang subur

- B. Suhu udara yang sangat dingin dan tertutup es abadi
- C. Tingkat curah hujan yang sangat tinggi sepanjang tahun
- D. Kekurangan sumber daya air bersih yang memadai

21. Sebagian besar negara-negara di Benua Eropa memiliki iklim sedang karena letaknya. Pemanfaatan kondisi geografis ini salah satunya adalah
- A. Mayoritas penduduknya bekerja sebagai nelayan di perairan dingin
 - B. Industri peternakan yang menghasilkan daging untuk ekspor
 - C. Musim semi dan panas dimanfaatkan untuk pertanian intensif
 - D. Pemanfaatan gurun pasir untuk pertambangan minyak
22. Negara Jepang yang terletak di kawasan Cincin Api Pasifik (Ring of Fire) memiliki dampak geografis berupa
- A. Curah hujan yang sangat rendah sepanjang tahun
 - B. Kerap terjadi bencana alam seperti gempa bumi dan tsunami
 - C. Tidak memiliki gunung berapi aktif di wilayahnya
 - D. Tergolong negara yang sangat miskin sumber daya alam
23. Gunung Everest yang merupakan puncak tertinggi di dunia terletak di Benua
- A. Benua Amerika yang memiliki Pegunungan Andes
 - B. Benua Afrika yang memiliki Gunung Kilimanjaro
 - C. Benua Asia yang memiliki Pegunungan Himalaya
 - D. Benua Australia yang memiliki Dataran Tinggi Besar



24. Negara yang terkenal dengan bangunan berupa gurun di Benua Afrika adalah dan memiliki mayoritas wilayah
- A. Afrika Selatan
 - B. Mesir
 - C. Nigeria
 - D. Maroko
25. Salah satu perbedaan geografis yang mencolok antara Benua Asia dan Benua Amerika adalah
- A. Asia adalah benua terbesar, sedangkan Amerika adalah benua terkecil
 - B. Asia terletak di belahan bumi timur, Amerika terletak di belahan bumi barat
 - C. Asia memiliki pegunungan tinggi, sedangkan Amerika hanya dataran rendah
 - D. Asia dikelilingi samudra Atlantik, sedangkan Amerika dikelilingi samudra Pasifik
26. Benua yang sebagian besar wilayahnya dilalui oleh Sungai Amazon yang merupakan sungai terpanjang dan terbesar di dunia adalah
- A. Benua Eropa
 - B. Benua Amerika Utara
 - C. Benua Amerika Selatan
 - D. Benua Australia

- 
- 
27. Pemanfaatan kondisi geografis yang tepat di negara-negara yang memiliki musim dingin yang panjang adalah
- A. Mengembangkan tanaman tropis yang membutuhkan banyak sinar matahari
 - B. Memajukan industri pariwisata musim panas di pantai
 - C. Mengembangkan olahraga dan industri berbasis salju (ski dan snowboarding)
 - D. Membangun banyak PLTA (Pembangkit Listrik Tenaga Air) di pegunungan
28. Benua yang tidak memiliki negara yang secara resmi diakui dan pengelolaannya diatur oleh perjanjian internasional adalah Benua
- A. Benua Afrika
 - B. Benua Antartika
 - C. Benua Amerika
 - D. Benua Australia
29. Indonesia aktif dalam kerjasama regional di kawasan Asia Tenggara yang bernama ASEAN. Tujuan utama kerjasama ini adalah
- A. Mendominasi kekuatan militer di kawasan Asia
 - B. Menciptakan kawasan damai, stabil, dan sejahtera
 - C. Mengeluarkan negara-negara Barat dari Asia
 - D. Mengembangkan teknologi luar angkasa bersama
30. Salah satu bentuk warisan budaya Indonesia yang diakui oleh UNESCO sebagai Warisan Budaya Takbenda dan digunakan sebagai upacara atau pertunjukan adalah
- A. Candi Borobudur sebagai warisan budaya berbentuk bangunan
 - B. Tari Saman dari Aceh sebagai warisan budaya pertunjukan
 - C. Gunung Krakatau sebagai warisan budaya alam
 - D. Situs Sangiran sebagai warisan budaya purbakala

B. Pilihan Ganda Kompleks

Pilihlah Dua Jawaban yang benar untuk setiap soal!

31. Manakah dari pernyataan di bawah ini yang merupakan upaya tepat untuk menjaga kesehatan sistem saraf?
- A. Tidur yang cukup dan berkualitas setiap hari
 - B. Rutin berolahraga ringan untuk melancarkan aliran darah
 - C. Mengonsumsi minuman bersoda dalam jumlah besar
 - D. Terlalu sering begadang dan kurang tidur
32. Tokoh-tokoh di bawah ini yang berperan penting dalam peristiwa Proklamasi Kemerdekaan Indonesia adalah
- A. Mohammad Hatta
 - B. Pangeran Diponegoro


- C. Soekarno
- D. Sultan Hasanuddin

33. Pemanfaatan kondisi geografis Benua Asia yang dikenal sebagai penghasil rempah-rempah terbesar di dunia adalah
- A. Pertanian padi dan gandum yang menjadi makanan pokok
 - B. Perikanan laut dalam yang menghasilkan tuna
 - C. Penambangan nikel dan emas
 - D. Perkebunan kelapa sawit dan teh
34. Manakah dari jenis-jenis kerjasama di bawah ini yang tergolong dalam kerjasama bilateral yang hanya melibatkan dua negara?
- A. Kerjasama antara Indonesia dan Malaysia
 - B. Kerjasama antara Indonesia dan ASEAN
 - C. Kerjasama antara Indonesia dan Amerika Serikat
 - D. Kerjasama antara Indonesia dan PBB
35. Warisan budaya Indonesia yang telah diakui oleh UNESCO sebagai Warisan Budaya Takbenda, selain Batik dan Tari Saman, adalah
- A. Candi Borobudur
 - B. Wayang Kulit
 - C. Keris
 - D. Pulau Komodo

C. Pernyataan Benar/Salah

Pilihlah Benar jika pernyataan sesuai atau Salah jika pernyataan tidak sesuai.

No.	Pernyataan	Benar	Salah
36.	Otot polos bekerja secara sadar dan terdapat pada lengan dan kaki.		
	Tulang rusuk berfungsi melindungi jantung dan paru-paru.		
37.	Bangsa asing pertama yang datang ke Indonesia dan memonopoli perdagangan adalah Inggris.		
	Pertempuran Ambarawa adalah perlawanan rakyat Indonesia		

	terhadap Jepang setelah kemerdekaan.		
38.	Benua Amerika dilewati oleh garis khatulistiwa dan garis balik utara dan selatan.		
	Australia merupakan benua yang memiliki iklim tropis dan subtropis.		
39.	Indonesia adalah salah satu negara pendiri organisasi kerjasama APEC.		
	Angklung dari Jawa Barat diakui UNESCO sebagai warisan budaya dunia.		
40.	 Gambar di samping merupakan salah satu tokoh proklamator bangsa Indonesia		
	Naskah Proklamasi diketik ulang oleh Sayuti Melik.		

D. Soal Uraian

Jawablah pertanyaan-pertanyaan berikut ini dengan jelas dan lengkap!

41. Jelaskan fungsi dari sistem rangka manusia dan sebutkan 3 (tiga) cara utama yang dapat dilakukan untuk menjaga kesehatan tulang!
42. Sebutkan negara-negara pencetus berdirinya organisasi ASEAN!
43. Apa perbedaan kondisi geografis yang mencolok antara Benua Asia dan Benua Eropa?
44. Jelaskan 2 (dua) contoh peran aktif Indonesia dalam kerjasama ASEAN di bidang politik/keamanan dan ekonomi!
45. Sebutkan bangunan-bangunan terkenal di dunia beserta asal negaranya!

“SELAMAT MENGERJAKAN”

