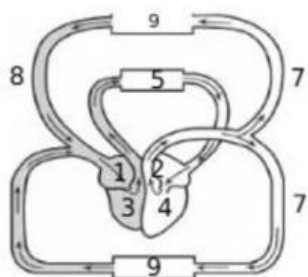


Perhatikan gambar, bagian yang banyak mengandung oksigen adalah



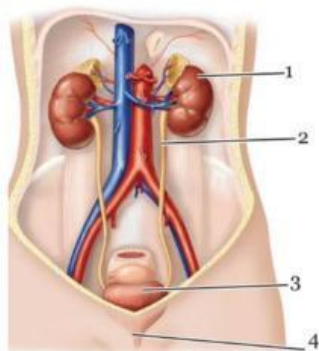
Jodohkan dengan tepat!

Fungsi
a. Kekebalan tubuh
b. Mengangkut zat makanan
c. Proses pembekuan darah
d. Mengangkut O_2

Beri nama masing-masing darah

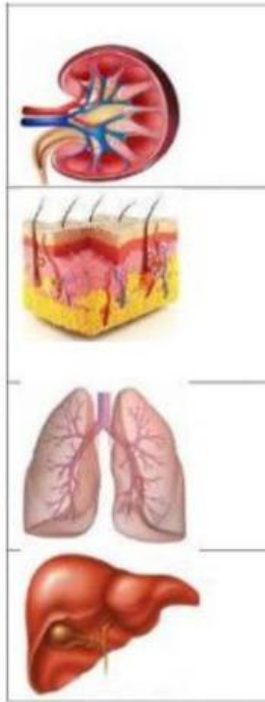


Berilah nama Sistem ekskresi di bawah ini



Pernafasan

Perhatikan gambar





Gambar 1. Anak Tersedak Minuman
Sumber : suara.com

Pada gambar tersebut, terlihat seorang anak yang kesakitan akibat tersedak. Berhubungan dengan sistem pernapasan, menurut kalian masalah apa yang teridentifikasi dari gambar tersebut? Organ apa yang bersangkutan sehingga teradanya tersedak?