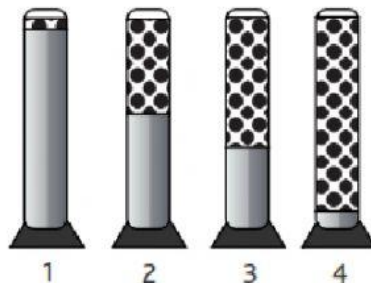
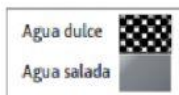




Ficha Monitoreo Aprendizaje de Ciencias Naturales

Lea atentamente antes de contestar y marque una sola alternativa correcta.

1 ¿Cuál de las siguientes probetas representa mejor la proporción de agua dulce y agua salada en el planeta?



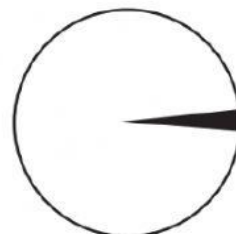
- A La probeta 1.
- B La probeta 2.
- C La probeta 3.
- D La probeta 4.

2 La mayor parte de la superficie del planeta está cubierta por agua, que se distribuye en la hidrósfera en distintos componentes. ¿En cuál componente de la hidrósfera se concentra la mayor cantidad de agua?

- A Ríos y lagos.
- B Atmósfera.
- C Glaciares.
- D Océanos.

3 El siguiente gráfico representa toda el agua que existe en el planeta.

¿Cuál de las siguientes afirmaciones es correcta según la información entregada por la imagen?



- A La Tierra es un planeta formado por $\frac{3}{4}$ de agua.
- B El agua es un recurso inagotable.
- C La franja negra corresponde al agua dulce presente en el planeta.
- D La porción blanca de la imagen corresponde al agua subterránea.

4 Un alumno estaba haciendo una tarea sobre el agua que hay en la Tierra y encontró la siguiente información en un gráfico. ¿Cómo podría organizar la información sólo en dos categorías?



- A Aguas contaminadas y aguas sin contaminar.
- B Agua en estado sólido y agua en estado líquido.
- C Agua dulce y agua salada.
- D Agua potable y no potable

- 5 ¿Cuál es la mayor reserva de agua dulce de nuestro planeta?
- A Lagos.
 - B Océanos.
 - C Casquetes polares y glaciares.
 - D Agua subterráneas.
- 6 ¿De qué está formada la hidrósfera?
- A Ríos y océanos.
 - B Solo por los glaciares.
 - C Océanos, ríos y lagos.
 - D Toda el agua del planeta.
- 7 ¿Cuál de las siguientes masas de agua presenta la mayor extensión?
- A Ríos.
 - B Lagos.
 - C Glaciares.
 - D Océanos.
- 8 ¿Qué porcentaje del agua del planeta corresponde a agua dulce?
- A 25% B 72% C 3% D 97%
- 9 Las masas de agua salada cercanas a la costa se denominan:
- A Ríos.
 - B Lagos.
 - C Glaciares.
 - D Océanos.
- 10 Las “corrientes de agua dulce que viajan de lugares altos hacia lugares más bajos” se denominan:
- A Ríos.
 - B Lagos.
 - C Glaciares.
 - D Océanos.