

LKPD

LEMBAR KERJA PESERTA DIDIK

SISTEM PENCERNAAN MANUSIA



BY KELOMPOK 5



Nama Kelompok :

Anggota Kelompok :

Kelas/Fase/Semester :

Hari/Tanggal :

Waktu : 15 Menit

Tujuan LKPD:

Setelah menyelesaikan LKPD materi sistem pencernaan manusia, peserta didik sudah dapat mengidentifikasi fungsi organ dan keterkaitannya dalam proses pencernaan serta dapat memerincikan cara menjaga kesehatan pada sistem pencernaan.

Alat dan Bahan:

1. Pena
2. Tipe X







Petunjuk Penggunaan:

1. Bacalah permasalahan berikut! Dino sering jajan sembarangan di depan sekolah, seperti gorengan yang tidak ditutup dan minuman berwarna mencolok. Seminggu terakhir, ia merasa sakit perut, mual, dan sulit buang air besar. Apa yang mungkin terjadi pada sistem pencernaan Dino? Bagaimana cara menjaga agar sistem pencernaan tetap sehat?”
2. Diskusikan dengan teman di kelompokmu bagaimana cara menjaga agar sistem pencernaan tetap sehat.
3. Setelah selesai mengerjakan LKPD, masing-masing perwakilan kelompok mempresentasikan hasil kerja kelompok di depan kelas.
4. Perwakilan kelompok menjelaskan kembali cara menjaga kesehatan sistem pencernaan.





Isilah pertanyaan di bawah ini dengan benar sesuai dengan permasalahan yang disajikan!

1. Apa yang terjadi pada sistem pencernaan Dino?

2. Apa penyebab gangguan pencernaan tersebut?

3. Gejala yang dialami Dino:

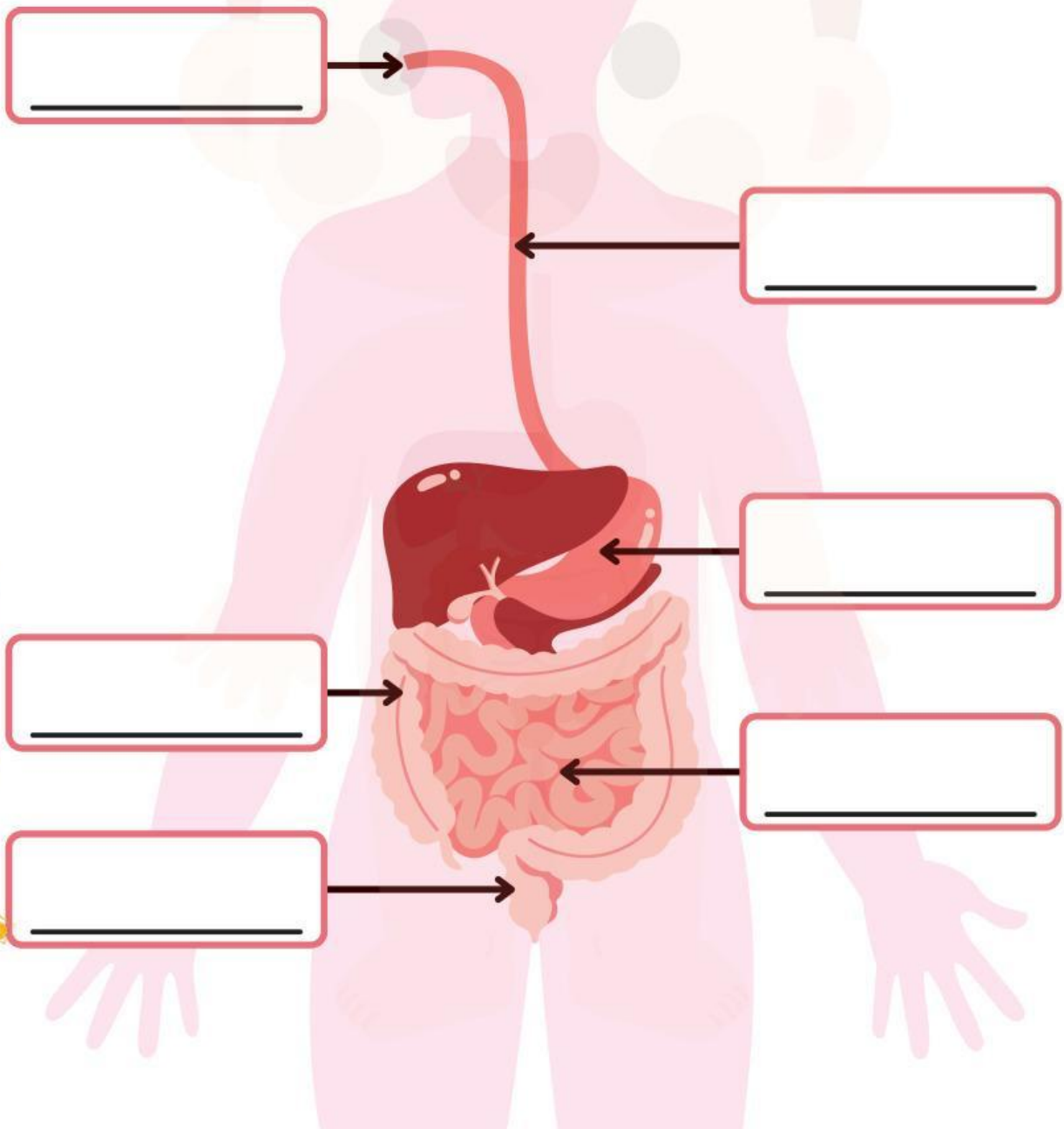
4. Bagaimana cara menjaga agar sistem pencernaan tetap sehat?

5. Kebiasaan baik yang bisa diterapkan di sekolah dan rumah:








ORGAN PENCERNAAN MANUSIA

Tulislah nama organ yang tepat pada setiap kotak kosong sesuai dengan arah panah!



PROSES PENCERNAAN

Perhatikan gambar berikut. Tulislah fungsi organ dan proses pencernaan yang terjadi pada tabel di bawah ini.

No.	Gambar	Fungsi Organ	Proses Pencernaan
1.		<hr/> <hr/> <hr/>	<hr/> <hr/> <hr/>
2.		<hr/> <hr/> <hr/>	<hr/> <hr/> <hr/>
3.		<hr/> <hr/> <hr/>	<hr/> <hr/> <hr/>
4.		<hr/> <hr/> <hr/>	<hr/> <hr/> <hr/>
5.		<hr/> <hr/> <hr/>	<hr/> <hr/> <hr/>



GANGGUAN ORGAN PENCERNAAN

Jawablah pertanyaan di bawah ini.



Pertanyaan:

- Apa saja gangguan yang dapat terjadi pada sistem pencernaan manusia?

Jawab: _____

- Apa penyebab terjadinya gangguan pada sistem pencernaan?

Jawab: _____

- Bagaimana cara mencegah terjadinya gangguan pada sistem pencernaan?

Jawab: _____

