



**Busca las siguientes coordenadas y relaciona que continente está en ese lugar:**

Latitud 50° N longitud 20° E

AMÉRICA

Latitud 20° S longitud 20° E

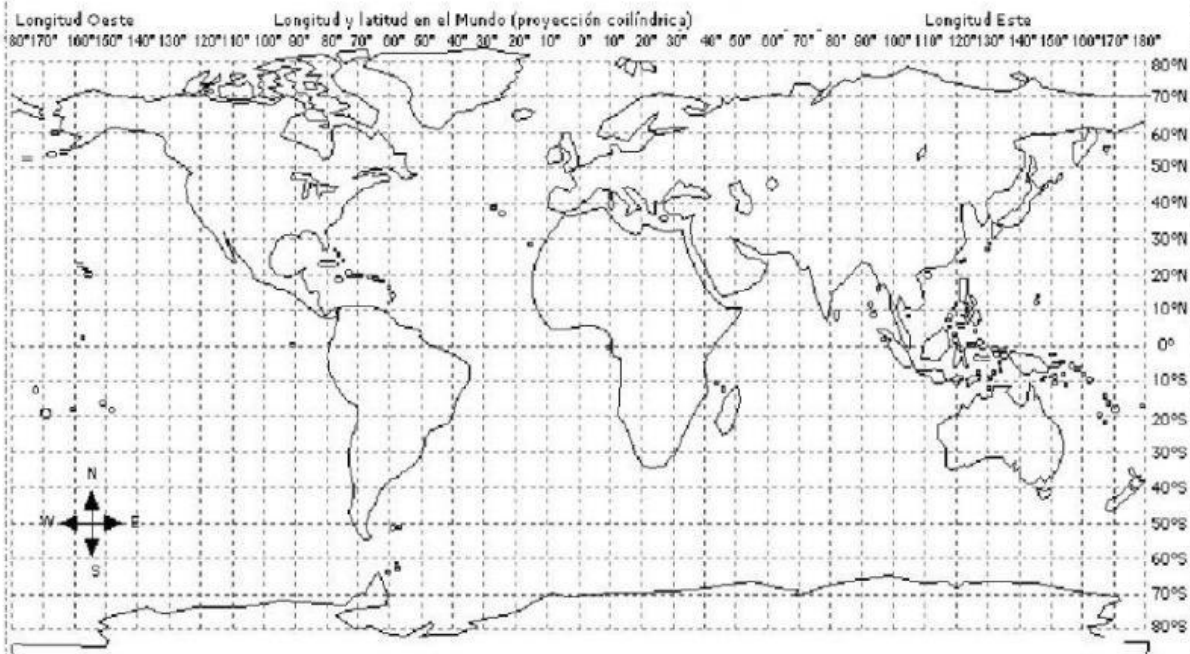
EUROPA

Latitud 30° S longitud 130°E

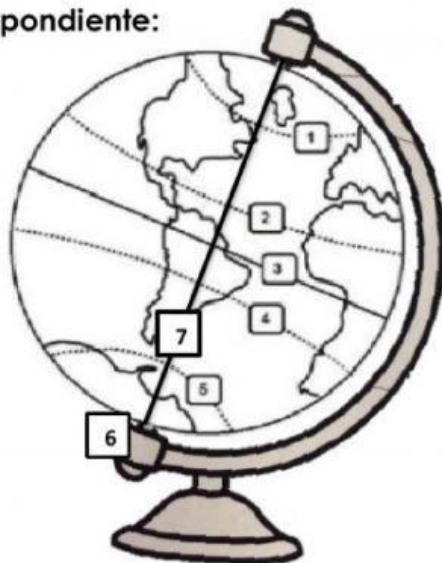
OCEANÍA

Latitud 40°N longitud 100° O

ÁFRICA



**Arrastra el número de cada línea imaginaria con su nombre correspondiente:**



CÍRCULO POLAR ANTÁRTICO

CÍRCULO POLAR ÁRTICO

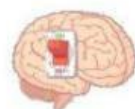
TRÓPICO DE CAPRICORNIO

LÍNEA DEL ECUADOR

TRÓPICO DE CÁNCER

EJE TERRESTRE

MERIDIANO DE GREENWICH



**Elige la respuesta correcta:**

- ¿Son las líneas imaginarias que dividen al planeta en Norte y Sur?

Paralelos

latitud

meridianos

- ¿Son las líneas imaginarias que dividen al planeta en Oriente y Occidente?

Paralelos

Meridianos

longitud

- ¿Cuál es el paralelo más importante?

Trópico de Cáncer

Greenwich

Ecuador

- ¿Cuál es el meridiano más importante?

Greenwich

Ecuador

Círculo polar ártico

- ¿Cuáles son las líneas imaginarias que miden 360°?

Paralelos

Meridianos

Eje terrestre

- ¿Cuáles son las líneas imaginarias que miden 180°?

Eje terrestre

Meridianos

Paralelos

**Relaciona las columnas de acuerdo a las características de longitud y latitud**



**LATITUD**

**LATITUD**

**LONGITUD**

**LONGITUD**

Es la distancia entre cualquier MERIDIANO y la línea del Meridiano de Greenwich

Está relacionada con los paralelos

Está relacionada con los meridianos

Es la distancia entre cualquier PARALELO y la línea del Ecuador

