



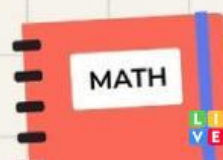
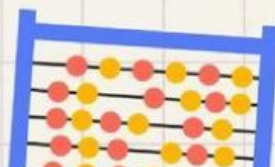
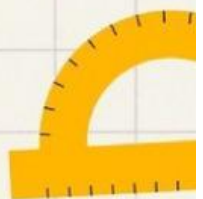
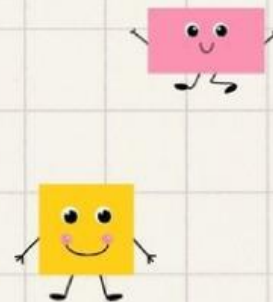
KURIKULUM
MERDEKA

SOAL EVALUASI MATEMATIKA

CIRI DAN SIFAT BANGUN DATAR SEGIEMPAT

UNTUK SISWA KELAS IV SEKOLAH DASAR

BY: DESCHIKA DWI ALYANTI



SOAL EVALUASI

Nama:

Hari/Tanggal:

Mata Pelajaran:

Kelas:

Kerjakanlah Soal Di Bawah Ini!

Ayo, tunjukkan kemampuanmu dengan menjawab soal berikut!

1. Di kelas, Pak Dodi menggambar dua bangun datar: satu berbentuk persegi dan satu berbentuk persegi panjang.



Ia bertanya, “Siapa yang bisa menyebutkan ciri-ciri kedua bangun ini?” Tuliskan ciri dan sifat dari persegi dan persegi panjang!

2. Saat bermain di halaman sekolah, kamu melihat ubin lantai yang bentuknya seperti belah ketupat.



Temanmu bertanya, “Apa sih bedanya belah ketupat dengan persegi?” Gambarlah bentuk belah ketupat dan jelaskan ciri-cirinya agar temanmu paham!

3. Bu Nita menunjukkan gambar bangun datar yang memiliki dua pasang sisi sejajar, sisi-sisinya tidak sama panjang, dan sudut-sudutnya tidak siku-siku.



Ia bertanya, “Menurutmu, bangun apakah ini dan kenapa disebut begitu?”

Tuliskan nama bangun datar tersebut dan jelaskan alasan penamaannya!

JAWABAN