



# LKPD

## BANGUN RUANG SISI DATAR

Perhatikan Video Berikut ini!



Perhatikan Materi Presentasi berikut:



4

**TEKSFIELD**

Bangun ruang sisi datar yang lima sisi, sembilan rusuk dan 6 titik sudut disebut ...

5

**SINGLE CHOICE**

Bangun ruang sisi datar yang hanya memiliki 7 sisi, 15 rusuk dan 10 titik sudut disebut

6

**CHECKBOXES**

Yang merupakan bagian dari bangun ruang sisi datar adalah :

|                          |        |                          |        |
|--------------------------|--------|--------------------------|--------|
| <input type="checkbox"/> | KUBUS  | <input type="checkbox"/> | PRISMA |
| <input type="checkbox"/> | TABUNG | <input type="checkbox"/> | LIMAS  |

7

**SELECT**

Yang merupakan bagian dari bangun ruang sisi Lengkung adalah :

|                          |       |                          |       |                          |       |                          |        |
|--------------------------|-------|--------------------------|-------|--------------------------|-------|--------------------------|--------|
| <input type="checkbox"/> | KUBUS | <input type="checkbox"/> | TABUN | <input type="checkbox"/> | LIMAS | <input type="checkbox"/> | PRISMA |
|--------------------------|-------|--------------------------|-------|--------------------------|-------|--------------------------|--------|

8

**WORD SEARCH**

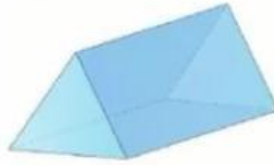
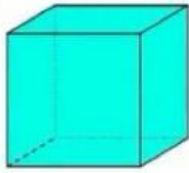
CARI KATA YANG BERKAITAN DENGAN BANGUN RUANG

|   |   |   |   |   |   |   |   |
|---|---|---|---|---|---|---|---|
| L | K | L | P | H | K | V | B |
| I | K | U | B | U | S | P | A |
| M | G | H | L | K | J | R | L |
| G | B | H | I | S | S | I | O |
| S | V | D | M | G | H | S | K |
| A | D | A | A | B | A | M | I |
| K | F | D | S | U | T | A | R |
| E | W | A | V | E | R | A | C |

9

**SPEAK**

sebutkan nama Bangun ruang berikut ini dengan tepat



10

**LISTENING**

Dengarkan Suara berikut dan tuliskan jawabannya







11

**Drag and Drop**

Pindahkan Bangun ruang di samping ke Kotak yang telah disediakan dengan Tepat!



Prisma Segitiga



Limas Segiempat



Limas Segitiga

12

**JOIN AND ARROW**

Tarik garis untuk memasangkan bentuk bangun ruang dan nama bangun ruang dibawah ini!



PRISMA SEGITIGA



LIMAS SEGITIGA



BALOK

LIMAS SEGIEMPAT