



1. Une con una línea los ejemplos que representan a cada división territorial.

Ambientes Naturales

Desértico, semi árido, templado, frío, tundra y polar.

Zonas Climáticas

Norte grande, Norte chico, Centro, Sur y Austral.

Zonas Naturales

Desértico, altiplánico, costero, mediterráneo, andino, frío y lluvioso, patagónico, polar.

2. Considerando las características geográficas presentes a lo largo del territorio, las cuales son diversas e inherentes a su localización, ¿qué oportunidades de desarrollo humano pueden presentar?

- I. El desarrollo de energías renovables, como la solar o eólica.
- II. El desarrollo de actividades turísticas, debido a la belleza de los parajes.
- III. El desarrollo de actividades extractivas de materias primas, como productos agrícolas y mineros.

- a) Solo I
- b) Solo II
- c) II y III
- d) Todas

3. Respecto a las cifras demográficas en torno a la distribución de la población migrante, es correcto concluir:

- I. La región con mayor cantidad de población migrante es la Metropolitana.
- II. La segunda región en tener mayor cantidad de migrantes es Valparaíso.
- III. La región con menor cantidad de población migrante es Aysén.

- a) Solo I
- b) Solo II
- c) I y III
- d) Todas



4. Lee las siguientes definiciones y escribe a qué tipo de Ambiente Natural de Chile corresponde.

Su clima depende de su ubicación en torno a los Andes: en la ladera occidental el clima es frío, húmedo y lluvioso; mientras que en la ladera oriental el clima es seco, generando un paisaje de pampa. En el sector predomina la actividad ganadera y turística.

Está presente en el sector de la depresión intermedia en la Zona Centro. Se caracteriza por veranos calurosos e inviernos fríos y lluviosos, destacándose las cuatro estaciones del año. Se compone por suelos fértiles, ideales para el desarrollo agroganadero.

Tiene una escasa flora y fauna, ya que las condiciones climáticas dificultan su crecimiento. Así, destacan ejemplares que necesitan poca agua para su mantención. Las precipitaciones son bajas durante todo el año, y existe una importante oscilación térmica.

5. Según datos oficiales, el cobre representa el producto que más aporta al PIB (Producto Interno Bruto) nacional. En este sentido, podemos concluir:
- a) El desarrollo económico de nuestro país depende de la extracción y exportación de materias primas.
 - b) Las principales actividades económicas de Chile son las de tipo secundario y terciario, manufactura y servicios.
 - c) Prácticamente la totalidad de materias primas que se extraen en el territorio nacional se destinan a la demanda interna.
 - d) No es necesario fomentar otras fuentes laborales, como el turismo, ya que las actividades primarias son suficientes para el desarrollo económico chileno.
6. ¿Cuáles de los siguientes elementos pueden ser constitutivos de una región cultural?

I. Idioma

II. Religión

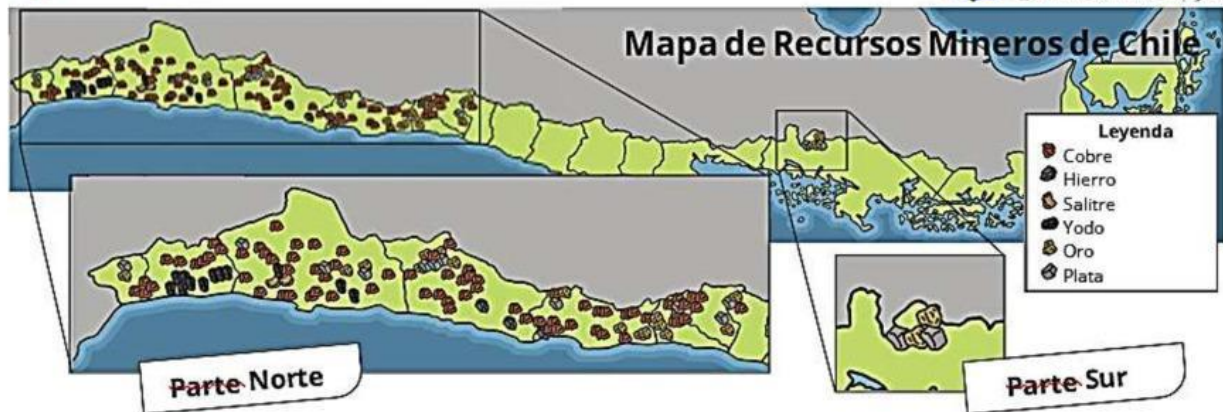
III. Tradiciones

a) Solo I

b) Solo II

c) I y II

d) Todas



7. ¿Qué tipo de región se demarca en este mapa?

- a) Una región natural.
- b) Una región cultural.
- c) Una región económica.
- d) Una región administrativa.

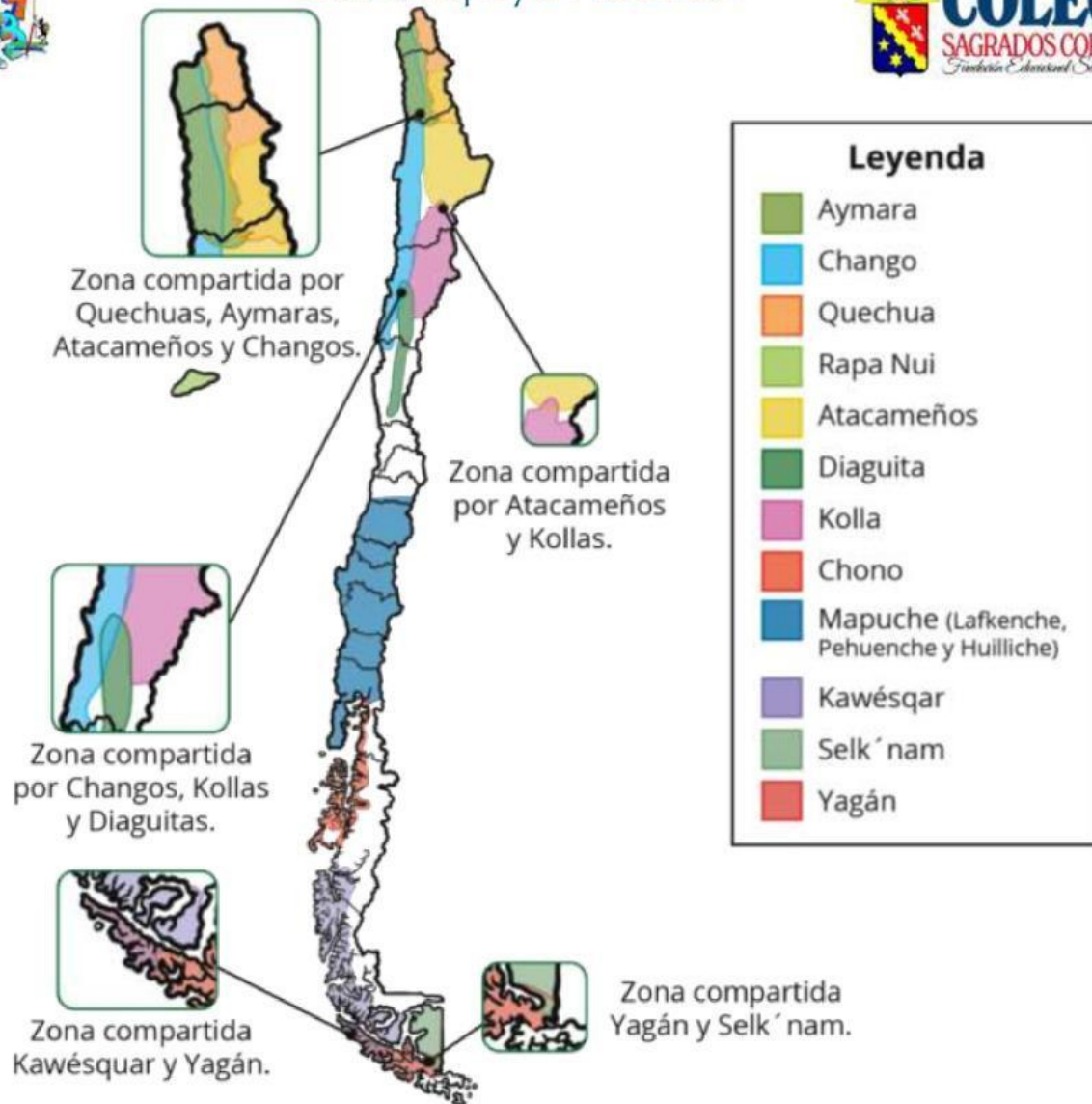
8. Considerando las zonas indicadas en los cuadrados alrededor del mapa, ¿qué podemos concluir?

- a) Que las regiones culturales se dividen según límites geográficos establecidos.
- b) Que diferentes regiones culturales se pueden superponer en un mismo territorio.
- c) Que los pueblos indígenas desarrollaron enfrentamientos bélicos por el dominio de determinados sectores.
- d) Que las zonas compartidas por varios pueblos indígenas eran debido a sus condiciones climáticas favorables.

9. ¿Qué elementos mide el Índice de Desarrollo Humano generado por el PNUD (Programa de las Naciones Unidas para el Desarrollo)?

- | |
|--|
| I. El nivel educacional. |
| II. La esperanza de vida promedio. |
| III. Los ingresos económicos per cápita. |

- a) Solo I
- b) Solo II
- c) I y III
- d) Todas



- 10 ¿Bajo qué criterios culturales se delimitan las regiones presentes en el mapa?
- Etnia y tradiciones.
 - Lenguaje y religión.
 - Etnia y tendencia política.
 - Lenguaje y fronteras naturales.
- 11 Considerando las zonas indicadas en los cuadrados alrededor del mapa, ¿qué podemos concluir?
- Que las regiones culturales se dividen según límites geográficos establecidos.
 - Que diferentes regiones culturales se pueden superponer en un mismo territorio.
 - Que los pueblos indígenas desarrollaron enfrentamientos bélicos por el dominio de determinados sectores.
 - Que las zonas compartidas por varios pueblos indígenas eran debido a sus condiciones climáticas favorables.



- 12 Lee las siguientes definiciones y escribe a qué tipo de dato demográfico corresponde.

Frecuencia con la que ocurren los nacimientos en una población, y se expresa por cada 1.000 habitantes en un año.

Frecuencia con la que ocurren las defunciones en una población, y se expresa por cada 1.000 habitantes en un año.

Frecuencia con la que ocurren las defunciones de niños/as menores de un año de edad cada 1000 nacidos vivos en un año.

Número promedio de años que se espera que viva un recién nacido. Suele diferenciarse entre hombres y mujeres.



Resultados Generales

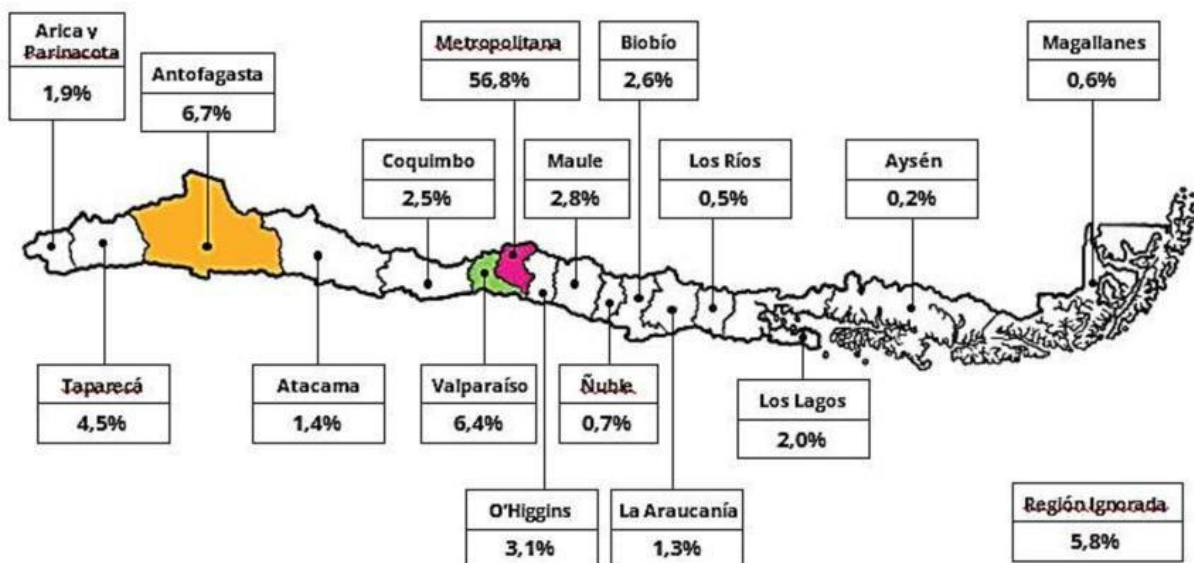
Estimación de personas extranjeras según año y variación absoluta y relativa respecto del año 2018.

Año de estimación	Población total estimada	Variación absoluta	Variación relativa
		respecto de 2018	respecto de 2018
2018	1.306.589	-	-
2019	1.486.810	179.951	13,8%
2020	1.534.813	227.954	17,4%
2021	1.630.812	323.953	24,8%
2022	1.836.137	529.278	40,5%
2023	1.918.583	611.724	46,8%

Fuente: INE - Censo 2023

Resultados Regionales

Distribución de la población extranjera según región de residencia habitual, estimada al 31 de diciembre, año 2023.



Fuente: Servicio Nacional de Migrantes. <https://serviciomigraciones.cl/estudios-migratorios/estimaciones-de-extranjeros/>

- 13 De acuerdo con las cifras demográficas, ¿qué podemos concluir respecto a la población migrante en nuestro país?
- a) Ha disminuido drásticamente a partir del año 2020.
 - b) Ha aumentado constantemente durante los últimos años.
 - c) Ha presentado períodos de aumento y disminución de forma intermitente.
 - d) Se mantuvo estable hasta que aumentó abruptamente el año 2022.