

LKPD

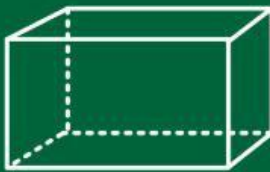
Matematika

Tema:

Bangun Ruang



Bangun Ruang



Nama: _____

Kelas: _____

LEMBAR KERJA PESERTA DIDIK (LKPD) BANGUN RUANG DAN BANGUN DATAR

IDENTITAS

Nama kelompok:

Nama anggota kelompok:

1.

2.

3.


4.

kelas / vase : v / c

Waktu: 15 menit

Tujuan LKPD: Setelah mengerjakan LKPD peserta didik dapat membandingkan karakteristik bangun datar dan bangun ruang serta peserta didik dapat mengedintifikasi benda di sekitarnya berdasarkan bentuk bangunnya.






Alat:

1. pensil atau pena
2. penggaris

- Petunjuk kerja:**
1. perhatikanlah langkah-langkah kegiatan dengan baik dan benar
 2. semua anggota kelompok berpartisipasi dalam mengerjakan LKPD
 3. Tanyakan hal yang tidak dimengerti kepada guru.
 4. jawablah semua pertanyaan yang ada dengan benar



Perhatikanlah permasalahan berikut ini !!!

Di sekolah siti sedang piket kelas. Ia menemukan berbagai benda dengan bentuk yang berbeda-beda. di meja belajar siti melihat buku tulis, penggaris, dan uang koin, si sisi lain ada kotak tisu, kotak pensil dan banyak benda lainnya. Saat itu siti teringat bahwa gurunya besok akan mengajarkan bangun ruang dan bangun datar, namun ia masi bingung memedakan keduanya. bantulah siti mencocokkan benda-benda tersebut berdasarkan bentuk bangunnya!!



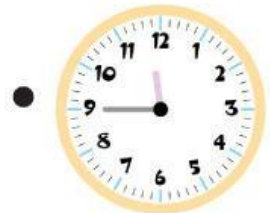
Cocokkanlah benda yang di temukan siti di dalam dengan nama bentuk bangunnya



Persegi panjang



Kubus




Balok



Bola



Lingkaran



Mengelompokkan

Setelah Mencocokkan benda berdasarkan bentuk bangunnya sekaran kelompokkanlah benda-benda yang ada di sekitarmu berdasarkan bentuk bangunnya

No	Bangun Ruang	Bangun datar
1.		
2.		
3.		
4.		
5.		