



GIMNASIO DOMINGO SAVIO®

"En unión y compromiso formamos líderes dominguinos"

Proceso Misional: GESTIÓN ACADÉMICA

ACTIVIDAD INTERACTIVA: ORGANIZACIÓN DE DATOS Y TABLAS DE CONTEO




SC-CER728672






GRADO: SEGUNDO
PERIODO: PRIMERO

ASIGNATURA: MATEMÁTICAS
PROFESOR (A): Erika Fernanda Sepúlveda Quintero

Observar las imágenes. Luego, responder.



1. Completar la tabla de datos.

Animal	Cantidad
	
	
	
	
	


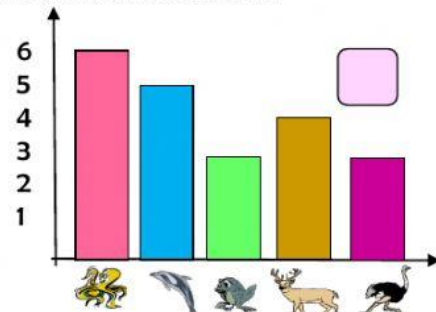
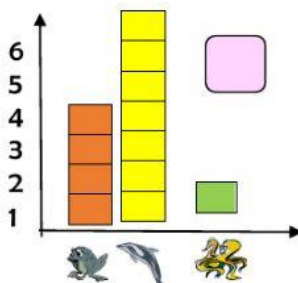
1. ¿Cuántos animales hay en total? ____

2. ¿Cuál es el animal preferido? ____

3. ¿Cuántos delfines hay? ____

4. ¿Cuántos más pulpos que sapos? ____

2. Seleccionar la gráfica de barras que representa la anterior información.



Fecha: 08/01/2020

Versión: 2.0

Código: PM-GA-F15

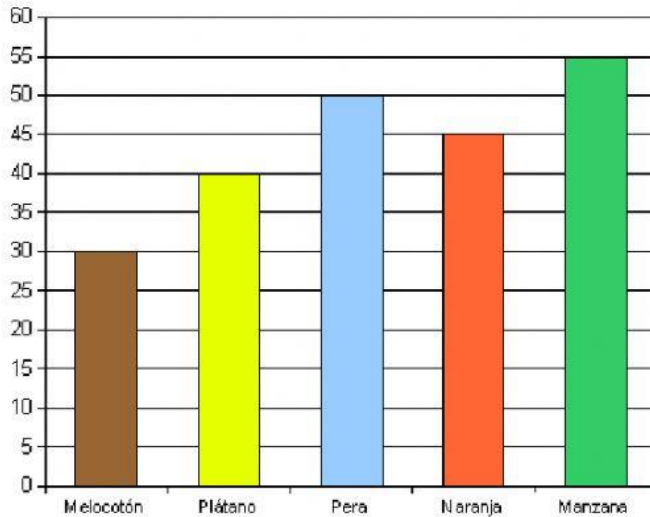


GIMNASIO DOMINGO SAVIO®
"En unión y compromiso formamos líderes dominguinos"
Proceso Misional: GESTIÓN ACADÉMICA
ACTIVIDAD INTERACTIVA: ORGANIZACIÓN DE DATOS Y TABLAS DE CONTEO



SC-CER728672

3. Observar el diagrama de barras y completar la tabla de conteo.



	Cantidad

4. A partir de la anterior información, responder las preguntas.

¿Cuál es la fruta preferida? _____

¿Cuál es la fruta de menor preferencia? _____

¿Cuántas más peras que melocotones? _____

¿Entre naranjas y manzanas hay en total? _____

¿Cuántas personas respondieron la encuesta? _____

Fecha: 08/01/2020

Versión: 2.0

Código: PM-GA-F15

