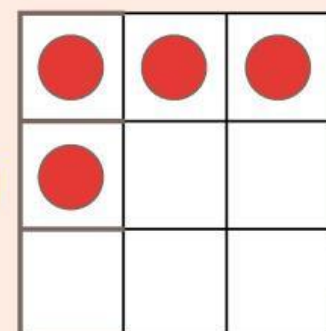
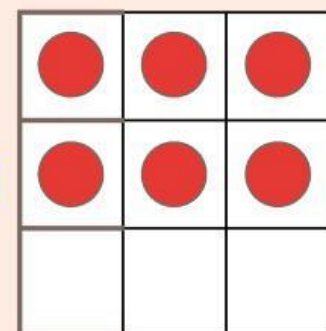
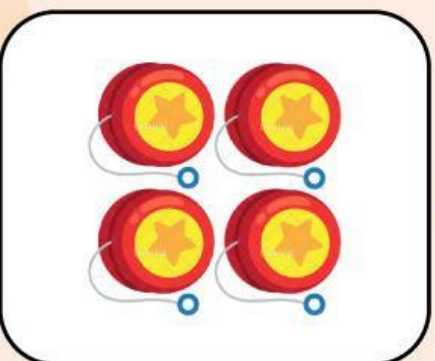


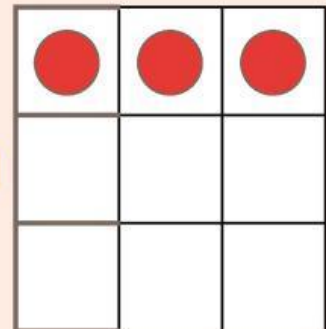
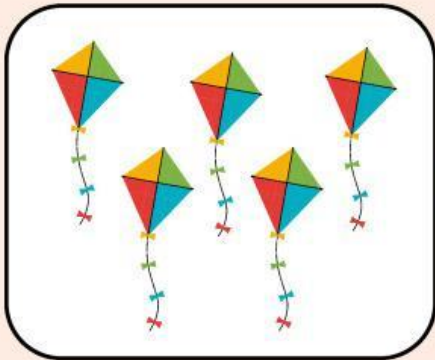


Ayo hitung jumlah benda!

Tariklah garis, pasangan benda yang sama banyak.



Penjumlahan Sederhana

Mana kah hasil penjumlahan yang hasilnya benar.

Berilah tanda ceklis jika hasilnya benar

$6 + 2 = 8$

☐

$4 + 2 = 6$

☐

$7 + 2 = 10$

☐

$2 + 4 = 7$

☐

$8 + 1 = 9$

☐

$5 + 3 = 8$

☐

$3 + 2 = 4$

☐

$2 + 1 = 3$

☐

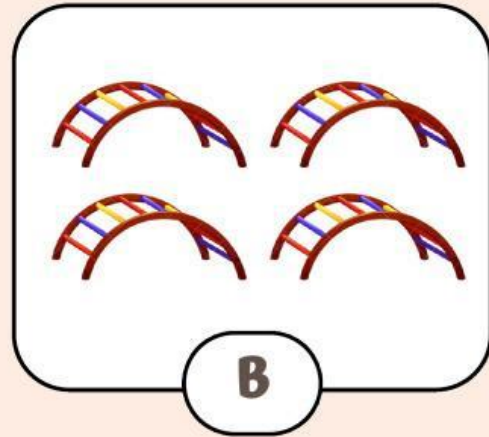
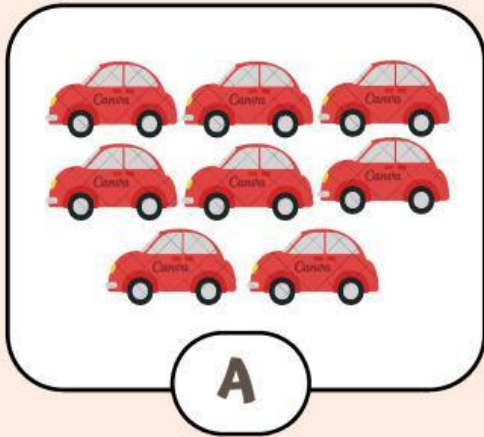
$7 + 3 = 10$

☐

$3 + 6 = 9$

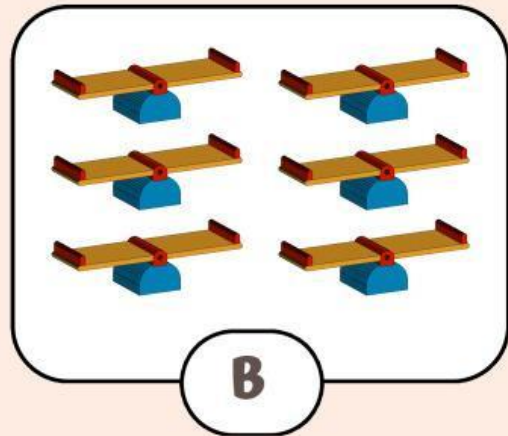
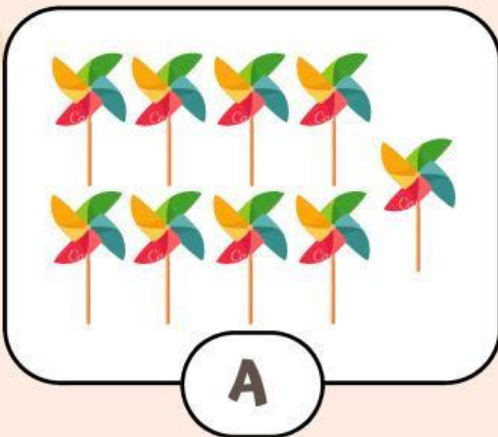
☐

Ayo bandingkan jumlah benda!



Benda mana yang jumlahnya lebih banyak?

Benda mana yang jumlahnya lebih sedikit?



Benda mana yang jumlahnya lebih banyak?

Benda mana yang jumlahnya lebih sedikit?

PENJUMLAHAN


Hitung jumlah semua ikan pada setiap baris dan tuliskan hasilnya pada kotak yang tersedia!

 $+ 1 = \square$

 $+ 3 = \square$

 $+ 6 = \square$


Ayo temukan pasangan bilangan berikut!



8

5

4



6

10

7