



AYO BERHITUNG




NAMA :

KELAS :



PETUNJUK :


Jawablah soal pilihan ganda berikut dengan benar beri tanda (x)

 +  =

A. 5

B. 6

C. 7

 +  =

A. 9

B. 8

C. 7



PENJUMLAHAN DENGAN GAMBAR



NAMA :

KELAS :



PETUNJUK :

Lihat gambar pada setiap soal. Hitung jumlah benda, lalu tuliskan hasilnya.




+



=



+




=




+



=



+



=



+



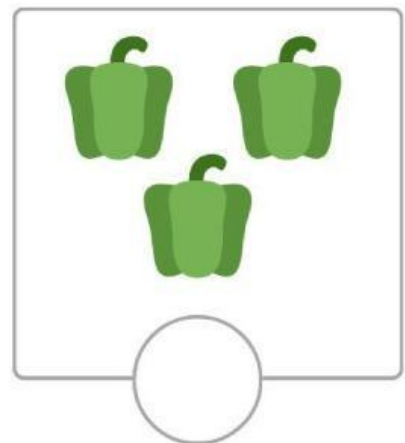




=

Nama: _____

Kelas: _____

ADA BERAPA BANYAK?

Beri tanda centang (✓) pada kotak yang berisi 3 buah!





AYO BERLATIH



MARI KITA BELAJAR BERHITUNG

NAMA :

KELAS :



PETUNJUK :

Cocokkan jumlah gambar dengan angka yang sesuai.
Tarik garis dari gambar ke angka yang benar.



4



2



1



3



6

MENGHITUNG BENDA

Hitung dan Lengkapi Kalimat Matematika


Nama : _____

Kelas : _____

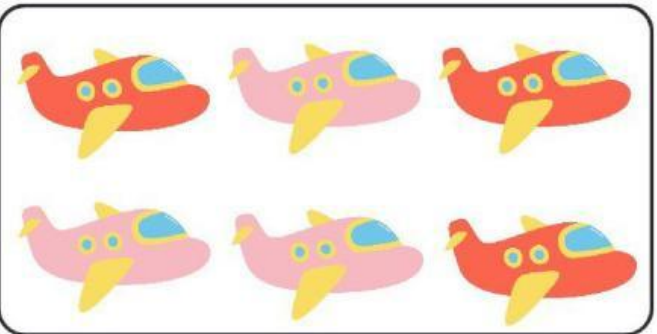


PETUNJUK :


Pasangkan tabel dengan jawaban yang benar



4



9



6