

Bangun Datar



PETUNJUK:

Perhatikan gambar bangun datar di bawah kemudian tuliskan namanya!

LINGKARAN

TRAPESIUM

SEGI LIMA

PERSEGI



SEGI ENAM

SETENGAH LINGKARAN

SEGITIGA

JARAR GENJANG

PERSEGI PANJANG



Bangun Datar



PETUNJUK:

Hubungkan gambar yang memiliki bentuk sama!

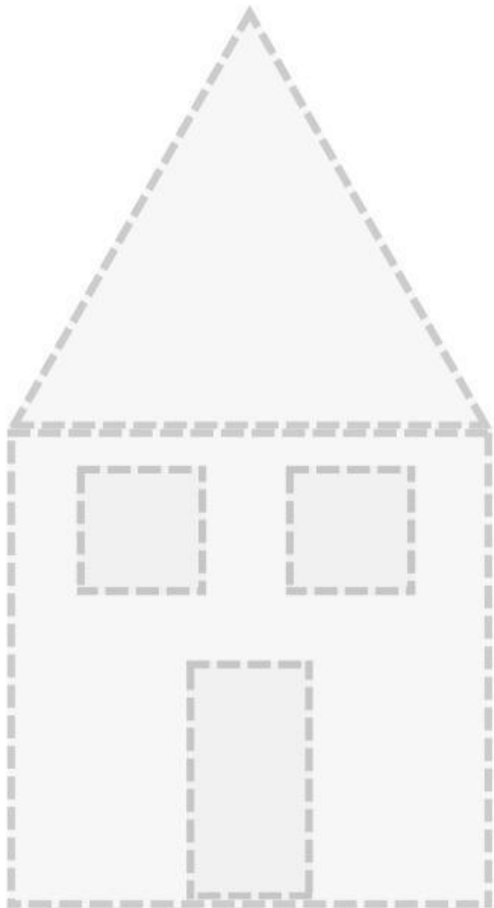


Bangun Datar


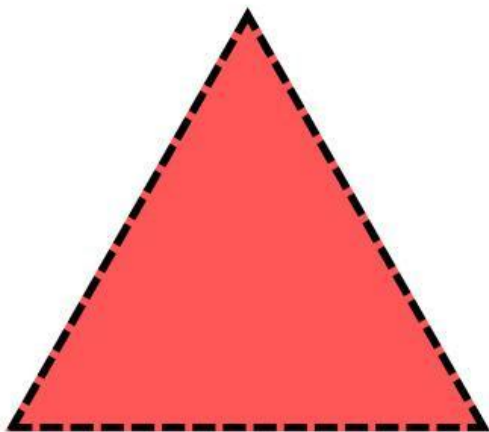



PETUNJUK:

Susunlah beberapa bangun datar di bawah agar dapat terbentuk sebuah rumah!



SAMPLE





Bangun Datar



PETUNJUK:

Perhatikan gambar di bawah kemudian pilih dengan benar nama bangun datar yang terbentuk!



Bangun Datar



PETUNJUK:

Pilihlah angka yang benar sesuai dengan jumlah sisi tiap bangun datar!



4

5

6



4

6

8



2

3

4



3

4

6



6

7


8



6

7

8



7

8

9



6

7

8



8

10

12