

NÚMEROS, OPERACIONES, FIGURAS GEOMÉTRICAS, MEDIDAS Y RAZONAMIENTO LÓGICO.

1. **Une con líneas** según corresponda:

NÚMERO VALOR POSICIONAL

1000	centena
100	unidad
10	unidad de mil
1	decena

2. **Subraya** la operación correcta que da **803** 🦉 :

A) $325 + 478 = 803$

B) $325 + 273 = 803$

C) $400 + 378 = 803$

3. **Resuelve y escribe el resultado correcto:**

a) $800 - 476 =$ _____

b) $23 \times 4 =$ _____

c) $64 \div 8 =$ _____

d) $345 \div 5 =$ _____


4. **Encierra en un círculo** la figura que tiene **4 lados iguales y 4 ángulos rectos**:


■ Cuadrado ▲ Triángulo ■ Rectángulo


5. **Une con líneas** la unidad de medida con el objeto que se puede medir:


 Lápiz	litros
 Dos ciudades	gramos
 Manzana	centímetros
 Botella	kilómetros

6. **Resuelve los casos misteriosos:**

 María tenía 245 canicas y perdió 38 → _____

 8 corrales \times 6 gallinas = _____

 40 asientos - 25 pasajeros = _____

 3 cuadernos \times \$2 = _____