


## NÚMEROS, OPERACIONES, FIGURAS GEOMÉTRICAS, MEDIDAS Y RAZONAMIENTO LÓGICO.

1. Une con líneas según corresponda:

NÚMERO	VALOR POSICIONAL
5 482	_____
8	_____
4	_____

 (Opciones: unidad – decena – centena – unidad de mil)

2. Subraya la operación correcta que da 803 🧮:

- A)  $325 + 478 = 803$
- B)  $325 + 273 = 803$
- C)  $400 + 378 = 803$





3. Resuelve y escribe el resultado correcto:

- a)  $800 - 476 =$  \_\_\_\_\_
- b)  $23 \times 4 =$  \_\_\_\_\_
- c)  $64 \div 8 =$  \_\_\_\_\_
- d)  $345 \div 5 =$  \_\_\_\_\_





4. Encierra en un círculo la figura que tiene 4 lados iguales y 4 ángulos rectos:

 Cuadrado     Triángulo     Rectángulo

5. Une con líneas la unidad de medida con el objeto que se puede medir:

- |  |             |
|--|-------------|
|  Lápiz        | litros      |
|  Dos ciudades | gramos      |
|  Manzana      | centímetros |
|  Botella      | kilómetros  |

6. Resuelve los casos misteriosos:

-  María tenía 245 canicas y perdió 38 → \_\_\_\_\_
-  8 corrales  $\times$  6 gallinas = \_\_\_\_\_
-  40 asientos - 25 pasajeros = \_\_\_\_\_
-  3 cuadernos  $\times$  \$2 = \_\_\_\_\_