

Lembar Kerja Peserta Didik

LKPD

Ekonomi



Mata Pelajaran : Ekonomi

Kelas : 11

Semester : 1/Ganjil

Nama: _____

Kelas: _____

Amatilah gambar tentang pembangunan ekonomi ini!



1. Apa penyebab utama pembangunan ekonomi tidak merata di Indonesia? Berikan dua contoh konkretnya.

Jawaban: _____

2. Mengapa setiap negara tidak selalu melalui tahapan pembangunan yang sama? Jelaskan faktor penyebabnya.

Jawaban: _____

3. Mengapa setiap negara tidak selalu melalui tahapan pembangunan yang sama? Jelaskan faktor penyebabnya.

Jawaban: _____





4. Menurut pendapatmu, strategi apa yang paling penting untuk mempercepat pembangunan ekonomi di daerah tertinggal?

Jawaban: _____

Aktivitas 2

Analisis Pembangunan Ekonomi

Analisis gambar yang termasuk pembangunan ekonomi dan mana yang bukan dengan mengisi penjelasan atau alasannya pada kolom disebelahnya.

Gambar	Termasuk Dalam Bentuk	Alasan
	<hr/> <hr/> <hr/> <hr/> <hr/>	<hr/> <hr/> <hr/> <hr/> <hr/>
	<hr/> <hr/> <hr/> <hr/> <hr/>	<hr/> <hr/> <hr/> <hr/> <hr/>
	<hr/> <hr/> <hr/> <hr/> <hr/>	<hr/> <hr/> <hr/> <hr/> <hr/>
	<hr/> <hr/> <hr/> <hr/> <hr/>	<hr/> <hr/> <hr/> <hr/> <hr/>

Aktivitas 3

Mari Kemukakan Pendapatmu!

Topik:

Berikan 1 Strategi yang paling kamu sarankan dari beberapa strategi yang sudah dipaparkan tadi!

Tulislah Jawabanmu dibawah ini!

Tanggapanmu Tentang Pelajaran Ini?
