

LKPD

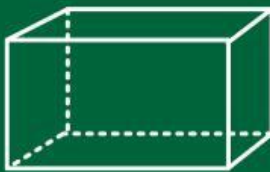
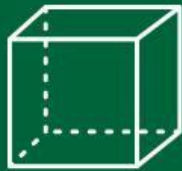
Matematika

Kelas II

Oleh: Nania Nur Adila



Bangun Ruang

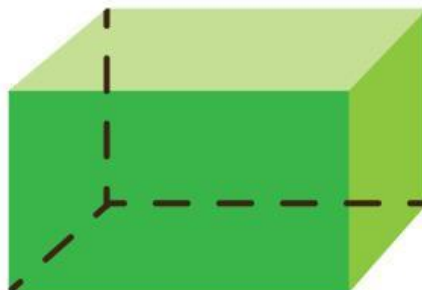

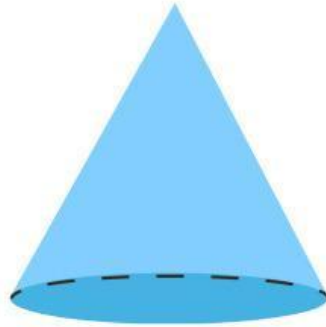
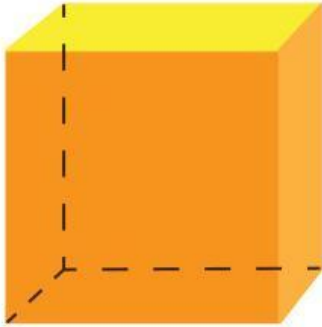


Nama Kelompok:

Hari/Tanggal:

Bangun Ruang

Tulislah nama-nama bangun ruang di bawah ini.



Nama:

Kelas:



Mencocokkan Bangun Datar

Pasangkan Bentuk dan Namanya



Lingkaran



Persegi



Segi lima



Segi tujuh



Trapesium



Segitiga

Bentuk Benda


Hubungkan benda dengan bentuknya.



Kerucut



Kubus



Balok



Bola



Tabung



Nama: _____

Kelas: _____

Mengenali Bangun Ruang

Perhatikan gambar berikut, lalu tentukan benda tersebut termasuk ke dalam benda berbentuk apa.





















Eksplorasi Bangun Datar

Tulislah nama bangun datar dan benda yang bentuknya sama dengan yang kamu temui di lingkungan sekolahmu!

Nama Bangun Datar	Bentuk Di sekitarku

