

Der Nutztiercheck

1. Das Gebiss.

- a. In Abbildung 1 siehst du ein Gebiss eines Nutztieres. Wähle aus, welchem Tier dieses Gebiss gehört.

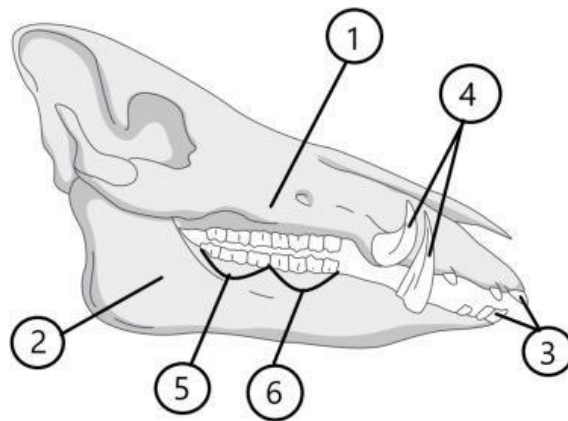


Abbildung 1: Gebiss

- b. Beschrifte die Nummern 2, 3 und 4 in Abbildung 1.

2. Das Ei. Beschrifte die Zahlen 1, 2 und 3 in Abbildung 2.

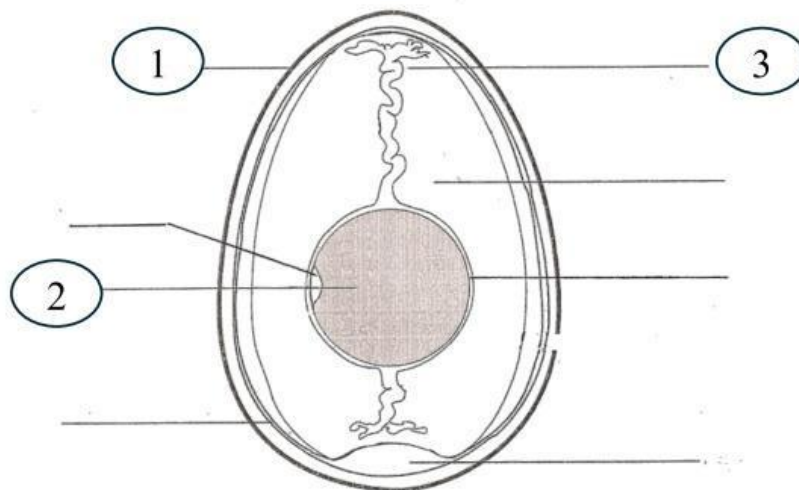
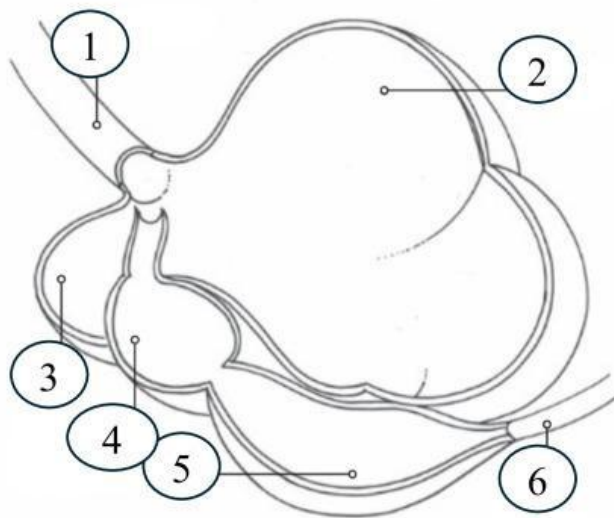


Abbildung 2: Das Ei

3. Die Verdauung der Ziege.

- a. Beschrifte 1, 4 und 6 in Abbildung 3.
- b. Vervollständige die Tabelle, indem du die Aufgaben des jeweiligen Verdauungsorgans notierst.



Verdauungsorgan	Aufgabe
1	
4	
6	