

Nama:

Kelas:

Berhitung 1 Sampai 10

Ayo hitung dan pasangkan dengan bilangan yang tepat!



1

3




4

5



6



7

8



9

10








Nama:




Kelas:



AYO BERHITUNG




Hitunglah hasil dari penjumlahan sayuran di bawah ini!
Kerjakan seperti pada contoh soal nomor 1!



1  +  = 




 



2  +  = 




 



3  +  = 

4  +  = 

5  +  = 

Nama : _____




Kelas : _____

AYO BERHITUNG !

Hitung dan pilih jumlahnya pada kotak yang sudah disediakan

				
1	2	3	4	5

	+		+		=	
---	---	---	---	---	---	--

	+		+		=	
---	---	---	---	---	---	--





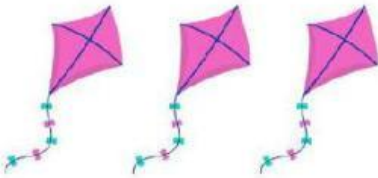
Nama:



Kelas:

PERBANDINGAN DUA BENDA

Berilah tanda centang (✓) pada benda yang lebih sedikit!



Penjumlahan Sederhana

Nama:

Kelas:

Pilihlah angka di bagian bawah pada kotak yang sesuai hasil dari penjumlahannya!

$2 + 6 =$

$3 + 3 =$

$4 + 3 =$

$8 + 1 =$

$5 + 5 =$

$3 + 5 =$

$1 + 4 =$

$2 + 2 =$

$7 + 3 =$

$4 + 5 =$

10

6

9

8

4

9

8

7

5

10