


Nama : \_\_\_\_\_

Kelas : \_\_\_\_\_

# Perubahan Wujud Zat

Tentukanlah perubahan zat yang terjadi dengan mengisi tabel kosong di bawah ini!

Benda	Perubahan Wujud	Dari Zat Menjadi Zat
	Mencair	Padat menjadi cair
		
		
		
		

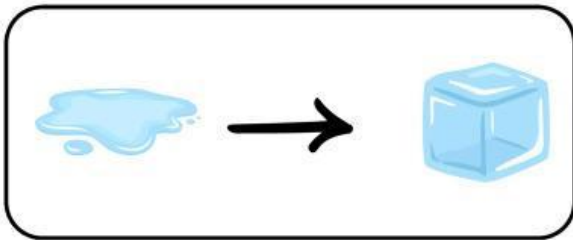


Nama :


Kelas :

# Perubahan Wujud Benda

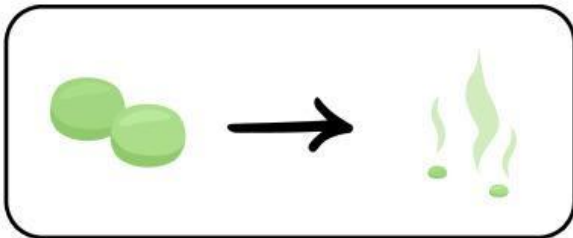
Hubungkan gambar perubahan wujud benda di bawah ini dengan namanya!



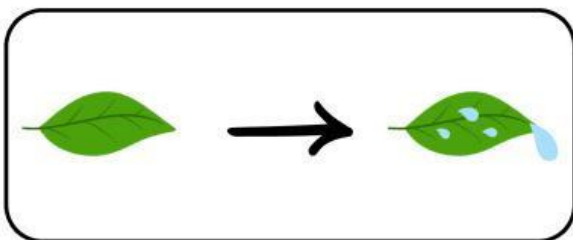
Mengembun



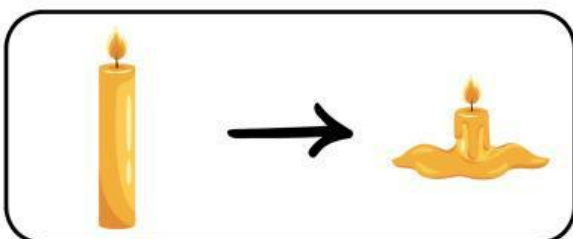
Mencair



Membeku



Menyublim



Menguap

## A. Ayo Cocokkan!

Petunjuk : Tarik garis (atau cocokkan huruf dengan angka) antara pernyataan di Kolom A dengan jawaban yang tepat di Kolom B.



Partikel sangat rapat dan bergetar



Jarak antarpartikel sangat renggang



Bentuk dan volume berubah-ubah



Partikel agak renggang dan dapat mengalir



Perubahan padat ke cair



Zat Cair



Zat padat



Zat gas



Melebur (mencair)



Menguap



# SOAL PILIHAN GANDA

Nama .....

Tanggal .....

**NILAI:**

- 01 Perubahan dari zat padat menjadi zat cair disebut?
- A.** Membeku                      **C.** Mencair  
**B.** Menguap                      **D.** Mengembun
- 02 Perubahan gas menjadi zat cair disebut sebagai?
- A.** Meleleh                      **C.** Mengembun  
**B.** Membeku                      **D.** Menguap
- 03 Proses perubahan dari zat cair menjadi gas adalah?
- A.** Mengkristal                      **C.** Menguap  
**B.** Mencair                      **D.** Membeku
- 04 Perubahan zat padat langsung menjadi gas tanpa melalui fase cair disebut?
- A.** Menyublim                      **C.** Mengembun  
**B.** Mencair                      **D.** Membeku
- 05 Saat air berubah menjadi es, proses ini disebut?
- A.** Menguap                      **C.** Mencair  
**B.** Membeku                      **D.** Menyublim

