





1

MENULIS JAWABAN

JAWABLAH PERTANYAAN BERIKUT INI!




 $+$

 $= \dots$




 $+$

 $= \dots$

2

MENULIS JAWABAN

JAWABLAH PERTANYAAN BERIKUT INI!


 $-$

 $= \dots$


 $-$

 $= \dots$




3

BERBICARA

MENYEBUTKAN JAWABAN DENGAN BENAR, KLIK UNTUK MEREKAM


 $+$

 $=$



 $+$

 $=$


4

MEMILIH SATU
JAWABAN

PILIH JAWABAN YANG BENAR

$$15-9= \dots$$



$$12+3= \dots$$



5

GABUNGKAN

MENCOCOKKAN DENGAN HASILNYA

• 1

• 8

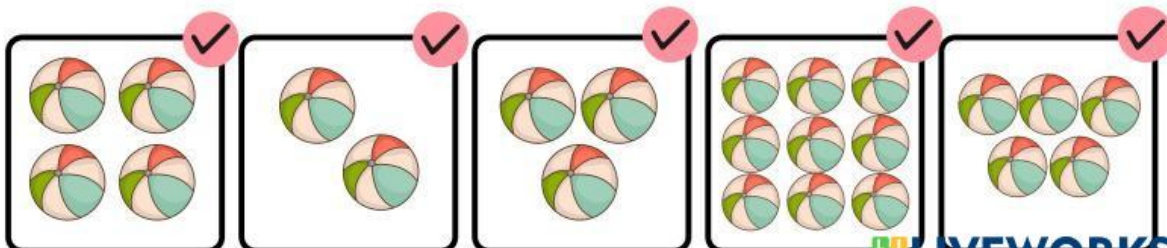
• 2

• 6

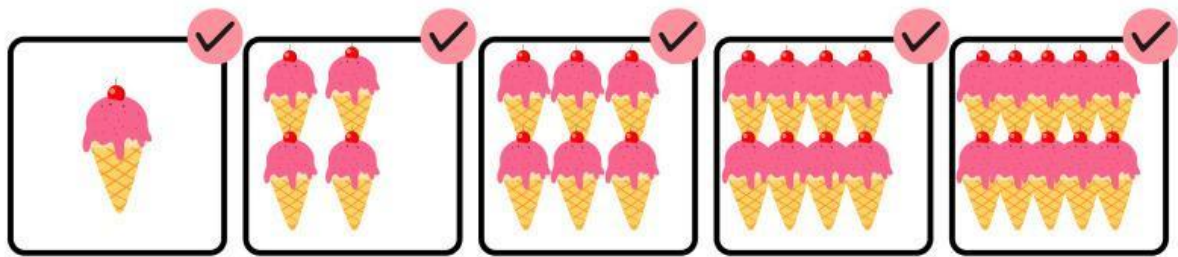
6

CENTANG KOTAK

KOTAK MANA YANG MEMILIKI 2 BOLA?





KOTAK MANA YANG MEMILIKI 8 ES KRIM



7

MEMILIH

PILIH JAWABAN YANG BENAR

 $+$  $=$

7

9

 $+$  $=$



5


3

8

SERET DAN LEPAS

MELETAKKAN JAWABAN YANG BENAR

 $+$  $=$

 $+$  $=$

 $+$  $=$

9

4

10