

A. Ayo Cocokkan!

Petunjuk : Tarik garis (atau cocokkan huruf dengan angka) antara pernyataan di Kolom A dengan jawaban yang tepat di Kolom B.

Partikel sangat rapat dan bergetar

Zat Cair

Jarak antarpartikel sangat renggang

Zat padat

Bentuk dan volume berubah-ubah

Zat gas

Partikel agak renggang dan dapat mengalir

Melebur (mencair)

Perubahan padat ke cair

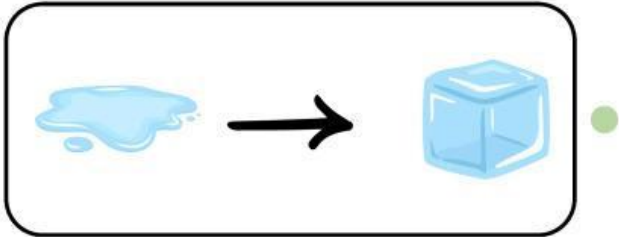
Menguap

Nama :

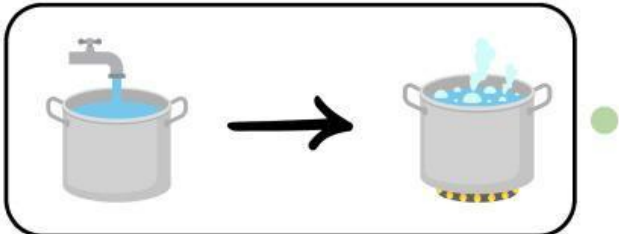
Kelas :

Perubahan Wujud Benda

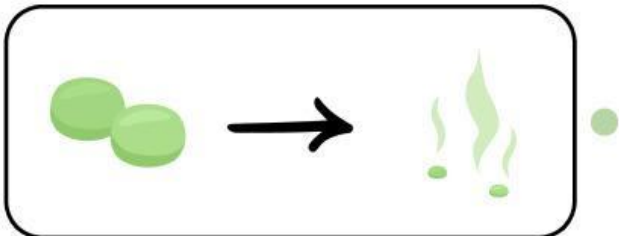
Hubungkan gambar perubahan wujud benda di bawah ini dengan namanya!



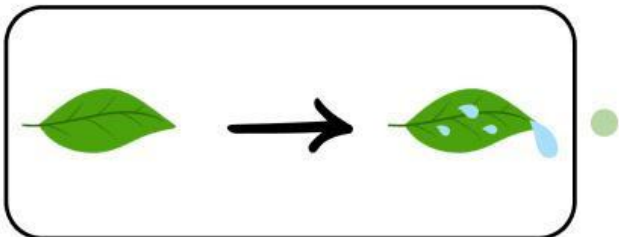
Mengembun



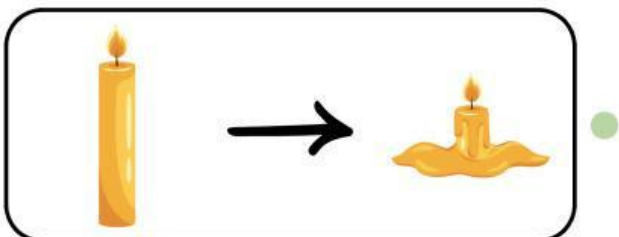
Mencair



Membeku



Menyublim



Menguap

Nama:

Kelas:

Wujud Zat

Tentukan pengelompokan yang tepat untuk benda-benda berikut ini.

Padat

Cair

Gas

Jawaban

Kopi

Batu

Udara

Asap knalpot

Pensil

Minyak goreng

LPG

Oksigen

Laptop

Kecap

Sirup

Buku

Teh

Payung

Bensin

WUJUD ZAT

Nama : _____

Kelas : _____

Temukan kata benda dan kelompokkan sesuai wujudnya!

A	L	I	L	I	N	I	N	A	I	R	S	U	C	I
B	E	M	U	T	A	L	I	K	O	L	I	B	E	R
I	G	E	L	A	N	G	G	E	T	A	R	A	N	I
N	A	J	U	L	A	N	N	C	A	R	U	A	P	D
A	N	A	S	I	R	F	S	A	I	L	P	G	A	N
O	K	S	I	G	E	N	A	P	U	T	R	A	K	U
K	A	R	B	O	N	D	I	O	K	S	I	D	A	T
I	S	I	U	T	B	E	N	S	I	N	S	A	I	I

ZAT PADAT

--

ZAT CAIR

--

ZAT GAS

--

SOAL PILIHAN GANDA

Nama

Tanggal

NILAI:

- 01 Perubahan dari zat padat menjadi zat cair disebut?
- A. Membeku C. Mencair
B. Menguap D. Mengembun
- 02 Perubahan gas menjadi zat cair disebut sebagai?
- A. Meleleh C. Mengembun
B. Membeku D. Menguap
- 03 Proses perubahan dari zat cair menjadi gas adalah?
- A. Mengkristal C. Menguap
B. Mencair D. Membeku
- 04 Perubahan zat padat langsung menjadi gas tanpa melalui fase cair disebut?
- A. Menyublim C. Mengembun
B. Mencair D. Membeku
- 05 Saat air berubah menjadi es, proses ini disebut?
- A. Menguap C. Mencair
B. Membeku D. Menyublim



Nama : _____

Kelas : _____

Perubahan Wujud Zat

Tentukanlah perubahan zat yang terjadi dengan mengisi tabel kosong di bawah ini!

Benda	Perubahan Wujud	Dari Zat Menjadi Zat
	Mencair	Padat menjadi cair
		
		
		
		

