



Alumno(a): _____. Grado: 3° Grupo: ____

Español

I. Lee con atención y elige la respuesta correcta. (7 pts.)

1. ¿Cuál de las siguientes palabras es un verbo en infinitivo?

- a) Canté b) Cantando c) Cantar

2. El acta de nacimiento sirve para:

- a) Dibujar y colorear.
b) Ser parte de un país y acceder a servicios.
c) Guardar tus vacunas.

3. ¿Qué documento te identifica como estudiante?

- a) Cartilla militar b) Pasaporte c) Credencial escolar

4. En un cuento, el guion largo (—) se usa para:

- a) Separar párrafos.
b) Marcar el título.
c) Indicar los diálogos de los personajes.

5. ¿Qué es un cuento?

- a) Una historia breve con personajes y un final.
b) Una receta de cocina.
c) Una narración con una moraleja al final.

6. Un documento de identidad para adultos sirve para:

- a) Ir al cine b) Probar quién eres ante las autoridades c) Hacer dibujos

7. ¿Para qué sirven las canciones infantiles?

- a) Para aprender y divertirse b) Solo para bailar en fiestas c) Para dormir todo el día

8. ¿Qué enseña la canción "Estrellita, ¿dónde estás"?

- a) A cuidar los animales b) A observar el cielo y las estrellas c) A bailar

II. Relaciona cada una de las partes del cuento con su significado. (3pts.)

Inicio	Se soluciona el problema.
Nudo	Presenta el problema.
Desenlace	Se conoce a los personajes.

III. Relaciona con una línea el documento con su función. (3pts.)

Acta de nacimiento
Credencial escolar
Cartilla de vacunación

Te permite ingresar a la escuela.
Registra tus vacunas.
Te da una identidad como mexicano.

IV. Escribe el fragmento de un cuento, usando todas las líneas; debe tener un diálogo utilizando el guion largo (—). (2pts)

V. Escribe los nombres de los documentos de identidad, arrastra la respuesta correcta. (5pts)

BANCO DE RESPUESTAS

LICENCIA DE CONDUCIR

INE

PASAPORTE

CURP

CREDENCIAL ESCOLAR



Extra:

¿Por qué crees que es importante tener un documento de identidad?

Ciencias naturales

I. Lee con atención y elige la respuesta correcta. (5 pts.)

1. El sistema que nos permite movernos, correr y saltar se llama:

- a) Sistema respiratorio b) Sistema locomotor c) Aparato excretor

2. Los huesos y músculos forman parte del:

- a) Aparato digestivo b) Sistema locomotor c) Sistema nervioso

3. El corazón pertenece al:

- a) Aparato circulatorio b) Sistema respiratorio c) Aparato digestivo

4. Los pulmones se encargan de:

- a) Bombear la sangre b) Limpiar la sangre c) Respirar y obtener oxígeno

5. Los riñones limpian la sangre y forman:

- a) Sudor b) Orina c) Sangre

II. Completa las siguientes oraciones. (5 pts.)

BANCO DE RESPUESTAS

Arterias

Capilares

Uretra

Plato

Frutas

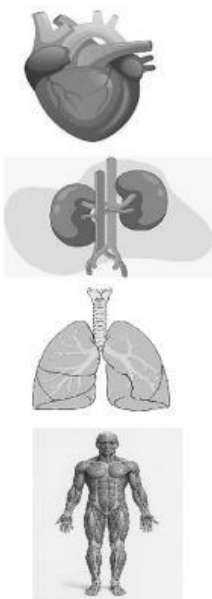
Verduras

- Las _____ llevan la sangre desde el corazón hacia todo el cuerpo.
- Los _____ son vasos muy pequeños donde ocurre el intercambio de gases y nutrientes.
- La _____ guarda la orina hasta que salimos al baño.
- El _____ del Bien Comer nos enseña a tener una alimentación balanceada.
- En el grupo verde del Plato del Bien Comer se encuentran las _____ y las _____.

III. Coloca una "V" si la afirmación es verdadera o una "F" si es falsa. (4 pts.)

	El ser humano tiene 206 huesos.
	El sudor ayuda a eliminar desechos del cuerpo.
	Las frutas y verduras deben comerse en poca cantidad.
	El sistema digestivo se encarga de la producción de la orina.

IV. Relaciona las partes de los sistemas con su función (4pts.)



Permiten el movimiento del cuerpo.

Nos ayuda a respirar.

Bombee la sangre.

Limpia la sangre para hacer orina.

V. Completa las siguientes frases:

- Los 3 grupos en que se divide el plato del bien comer son: frutas y verduras,

_____ y _____.

- Una acción para cuidar el sistema respiratorio es:

_____.

EXTRA. Resuelve la siguiente adivinanza.

- "Soy como un motor que bombea sangre sin parar. Trabajo junto con venas y arterias. ¿Quién soy?" _____

Matemáticas

I. Une los siguientes números con su nombre. (3 pts.)

1 202

8 541

3 200

Ocho mil quinientos cuarenta y uno

Tres mil doscientos

Mil doscientos dos

II. Escribe el nombre de las siguientes cantidades. (2 pts.)

3 450	
7 024	

III. Escribe la descomposición del valor de cada número. (5 pts.)

- $8,629 = \underline{\hspace{1cm}} + \underline{\hspace{1cm}} + \underline{\hspace{1cm}} + \underline{\hspace{1cm}}$
- $7,546 = \underline{\hspace{1cm}} + \underline{\hspace{1cm}} + \underline{\hspace{1cm}} + \underline{\hspace{1cm}}$
- $9,783 = \underline{\hspace{1cm}} + \underline{\hspace{1cm}} + \underline{\hspace{1cm}} + \underline{\hspace{1cm}}$
- $4,901 = \underline{\hspace{1cm}} + \underline{\hspace{1cm}} + \underline{\hspace{1cm}} + \underline{\hspace{1cm}}$
- $5,208 = \underline{\hspace{1cm}} + \underline{\hspace{1cm}} + \underline{\hspace{1cm}} + \underline{\hspace{1cm}}$

IV. Resuelve las siguientes sumas. (6 pts.)

$\begin{array}{r} 2575 \\ + 8765 \\ \hline \end{array}$	$\begin{array}{r} 4321 \\ + 8889 \\ \hline \end{array}$	$\begin{array}{r} 6795 \\ + 8769 \\ \hline \end{array}$

V. Resuelve las siguientes restas. (6 pts.)

$\begin{array}{r} 4004 \\ - 3988 \\ \hline \end{array}$	$\begin{array}{r} 3005 \\ - 2398 \\ \hline \end{array}$	$\begin{array}{r} 8006 \\ - 7789 \\ \hline \end{array}$

VI. Resuelve los siguientes problemas. (3 pts.)

	Datos	Operación	Resultado
1. Mario horneó 1215 galletas, pero le solicitaron 1100 más, ¿Cuántas galletas horneó en total?			
2. Doña Carmen tiene 8450 pollos, pero le vendió a Don Panchito 3450. ¿Cuántos pollos le quedaron?			
3. Marian compró 4 cajas de chocolates, si cada caja tiene 125 chocolates. ¿cuántos chocolates compró en total?			

***PUNTO EXTRA**

RESUELVE EL SIGUIENTE BASTA

<div> <div>Súmale</div> <div>→</div> </div> <div> <div>↓</div> <div>Número</div> </div>	+3	+7	+5	+2
25				
45				

ENTIDAD

I. Lee con atención y elige la respuesta correcta. (5 pts.)

1. ¿Cuál es la capital de Quintana Roo?

- a) Cancún b) Chetumal c) Tulum

2. ¿En qué año el estado se convirtió en un territorio libre y soberano?

- a) 1902 b) 1974 c) 1821

3. El clima del estado es:

- a) Tropical y húmedo b) Desértico c) Frío

4. La principal actividad económica es:

- a) Turismo b) Agricultura c) Minería

5. El nombre del estado honra a:

- a) Andrés Quintana Roo b) Miguel Hidalgo c) Benito Juárez

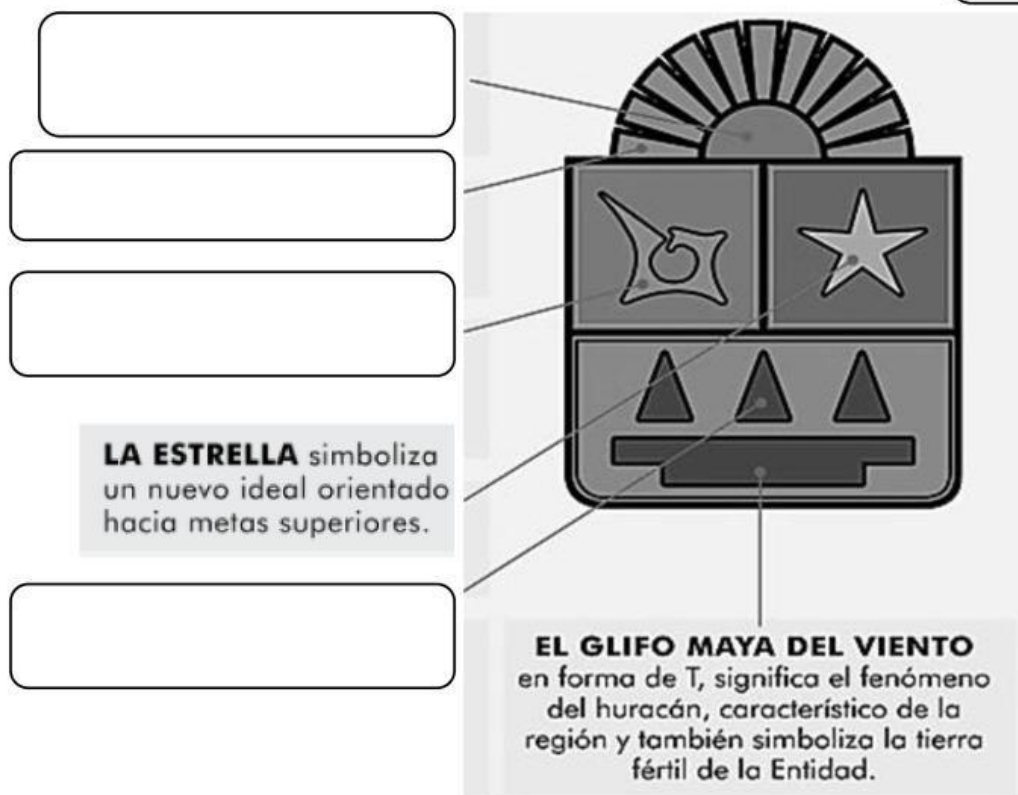
II. Completa el escudo con lo que representa cada elemento, arrastra la respuesta correcta. (4 pts.)

Los 11 municipios

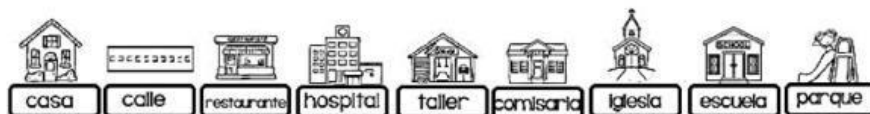
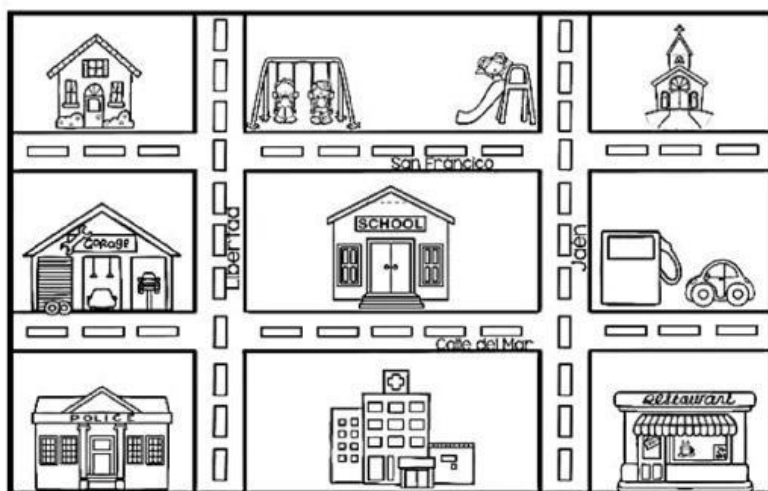
Orígenes étnicos
(mayas).

La riqueza forestal

Joven estado
hacia un futuro
brillante.



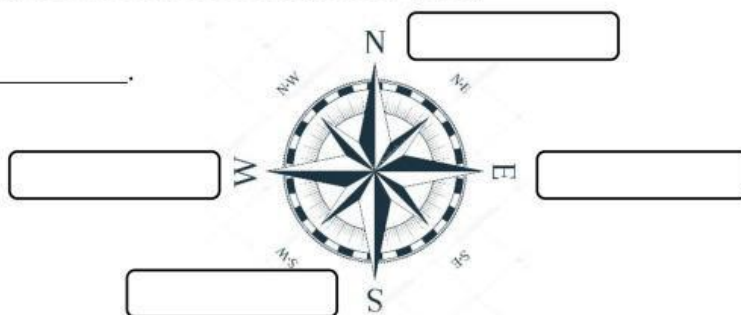
III. Observa el croquis y responde. (4 pts)



1. Yo vivo al lado de _____.
2. El colegio está sobre la calle _____.
3. A la izquierda del hospital está _____.
4. Si quiero ir de mi casa al restaurante, ¿qué camino debo tomar?

IV. Escribe el nombre del siguiente símbolo y anota los puntos cardinales. (1 pt.)

Se llama _____.



V. Escribe el nombre oficial de tu país y elige su bandera. (2 pt.)



El nombre oficial de mi país es:

Formación cívica y ética

I. Lee con atención y elige la respuesta correcta. (5 pts.)

1. La cultura es:

- a) Lo que comemos todos los días.
- b) Todo lo que aprendemos y compartimos como costumbres, idioma y tradiciones.
- c) Solamente el arte y la música.

2. El derecho a una familia significa que:

- a) Podemos vivir solos.
- b) Tenemos personas que nos cuidan y nos dan amor.
- c) Nuestros familiares deben darnos todo lo que deseamos y pedimos.

3. El derecho al juego nos enseña que:

- a) Jugar no es importante.
- b) Solo deben jugar los niños pequeños.
- c) Jugar nos ayuda a crecer felices y sanos.

4. El derecho a la educación significa:

- a) Que todos los niños pueden ir a la escuela a aprender y jugar.
- b) Que solo los varones pueden estudiar.
- c) Que la escuela no es necesaria.

5. El derecho a la salud quiere decir que:

- a) Solo todos debemos estudiar para convertirnos en médicos.
- b) Si nos enfermamos, tenemos derecho a recibir atención médica.
- c) No debemos tomar medicina nunca.

II. Completa las siguientes oraciones. (5 pts.)

BANCO DE RESPUESTAS

Respirando

los niños

estudiar

nombre

protegidos

- 1. Tengo derecho a tener un _____ y una nacionalidad.
- 2. Todos los niños deben ser _____ y cuidados.
- 3. Si tengo derecho a la educación, mi deber es _____ y hacer mis tareas.
- 4. Todos _____ tienen derecho a ser protegidos.
- 5. Puedo calmarme _____ o contando hasta diez.

III. Describe brevemente una escena donde tú estés mostrando una emoción positiva. (1 pts.)

IV. Completa brevemente la siguiente frase. (1 pt.)

- Una responsabilidad que tengo es:

V. Une la imagen con lo que representa una tradición, una costumbre y un hábito de higiene bucal. (3 pts.)

Costumbre

Tradición

Habito de higiene



“El aprendizaje es un tesoro que seguirá a su dueño a todas partes”.

