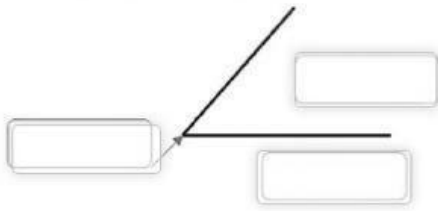


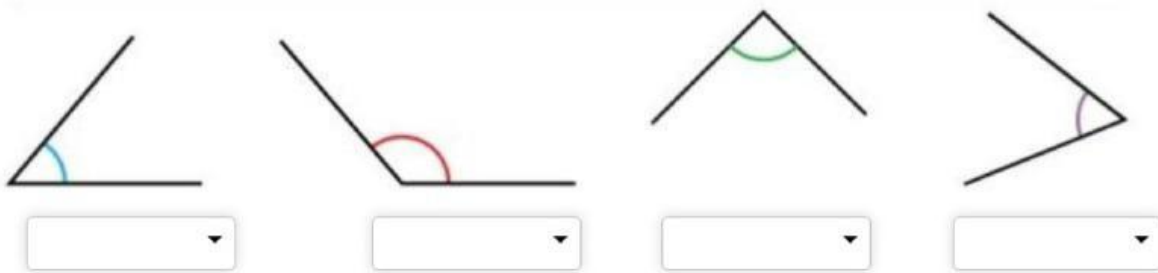
ÁNGULOS



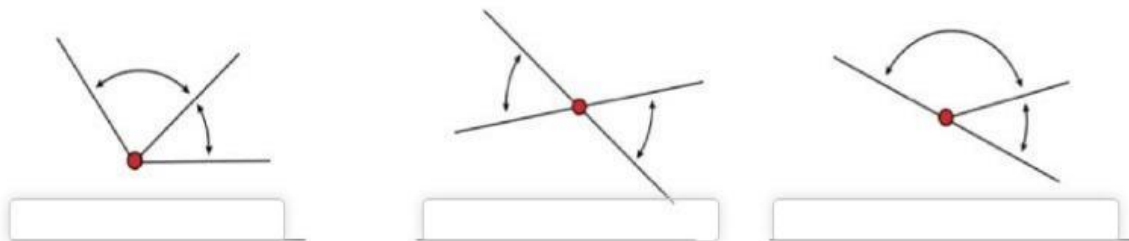
1. Escribe las partes del ángulo



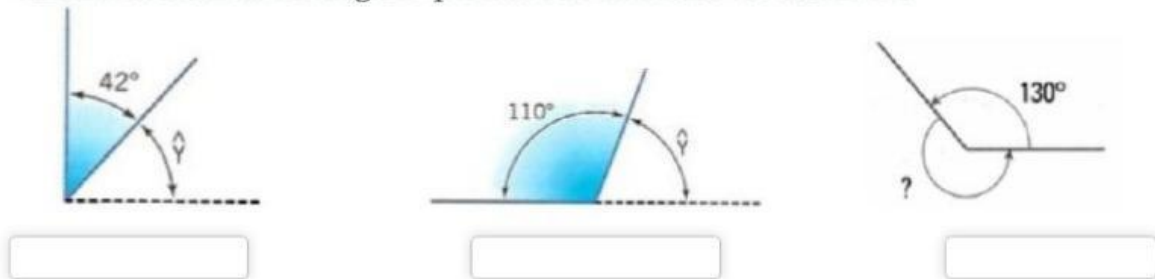
2. Mide e identifica qué tipo son estos ángulos según su medida.



3. Indica cuáles de estos ángulos son consecutivos, adyacentes y opuestos por el vértice.



4. Calcula la medida del ángulo que falta en cada caso en cada caso.



5. Noelia ha medido los siguientes ángulos. Uno mide 90° , otro 120° y el tercero 150° . Averigua SIN MEDIR cuál es cada uno.

