



UNIDAD EDUCATIVA SIMÓN BOLÍVAR
Dirección: Palmeras y Pasaje Esquina Barrio 7 de Julio
Correo electrónico: 07h00363@gmail.com
Machala- El Oro- Ecuador

CALIFICACIÓN



EVALUACIÓN DEL SEGUNDO TRIMESTRE

DOCENTES:

MGS. MARIANA RAMÍREZ TORRES
LIC. MÓNICA CORREA MARTÍNEZ
LIC. ANA MALACATOS CALDERÓN

SUBNIVEL: ELEMENTAL

GRADO:

TERCERO

ASIGNATURA: MATEMÁTICA

JORNADA: Matutina

PARALELOS: A-B-C

ESTUDIANTE:

FECHA:

1. Observa y completa la sucesión numérica:

102, 114, 116, __, __, __, __, __, __, __, __, __

¿Cuál es el patrón? _____

1 pto.

2. Ordene las siguientes cantidades de menor a mayor

384

619

260

511

422

158

100

685

300

116

1 ptos.

3. Resolver la siguiente suma con reagrupación.

	C	D	U			C	D	U	
	5	8	3			7	4	3	
+	2	9	2		+	4	8	2	

1 ptos.

4. Observa la cantidad y escribe en letras.

369.-----

499.-----

1 pto.

5. Resuelve el siguiente problema

En un almacén hay 248 cajas de juguetes. Llegaron 269 cajas más. ¿Cuántas cajas de juguetes hay en total en el almacén?























Datos	Razonamiento	Operación

Respuesta:

1 pto

6. Observa la tabla, los datos, pictogramas y resuelve.

Jugos vendidos en la juguería de Pepe.

Jugos	Representación	Total
Piña	 	2
Papaya	       	_____
Fresa	    	_____
Naranja	      	_____

- a) ¿Cuántos jugos de papaya se vendieron? _____
b) ¿Cuántos jugos de piña se vendieron? _____
c) ¿Qué sabor fue el preferido? _____
d) ¿Qué sabor se vendió menos? _____

7. Resuelve las siguientes restas con reagrupación.

C	D	U			C	D	U
4	5	8			6	7	5
2	3	9	-		4	8	5

8. RESOLVER EL EJERCICIO

¿Para llenar una botella de 2 litros cuantos vasos necesito? Debe realizar el dibujo correspondiente.



9. Marca una equis en la imagen que representa una medida convencional.



ELABORADO	REVISADO	VALIDADO
Docentes MGS. MARIANA RAMÍREZ LIC. MÓNICA CORREA LIC. ANA MALACATOS	Coordinadora de Junta de Área MSC. ALEXANDRA CARVAJAL	Subdirectora (E) LIC. JACQUELINE ZUMBA AGUILAR.
Firma:	Firma:	Firma:
Fecha: 6 / 11 / 2025	Fecha: 6 / 11 / 2025	Fecha: 6 / 11 / 2025