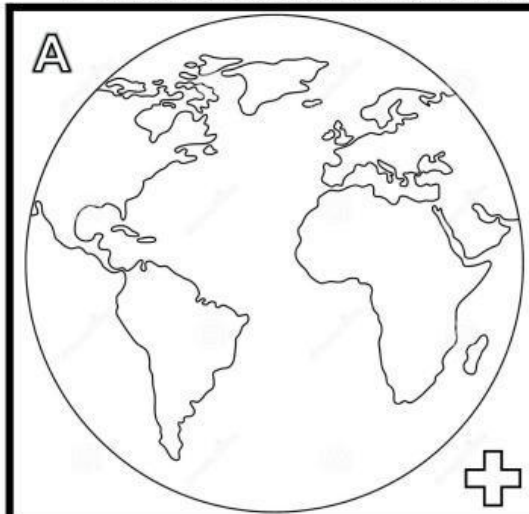


NOME:

DATA:

# VERIFICA SUL RETICOLO E LE CARTE GEOGRAFICHE

1. SEGUI LE INDICAZIONI E COMPLETA LA TABELLA CON LE INFORMAZIONI MANCANTI



Qual è il **parallelo** più importante?

\_\_\_\_\_

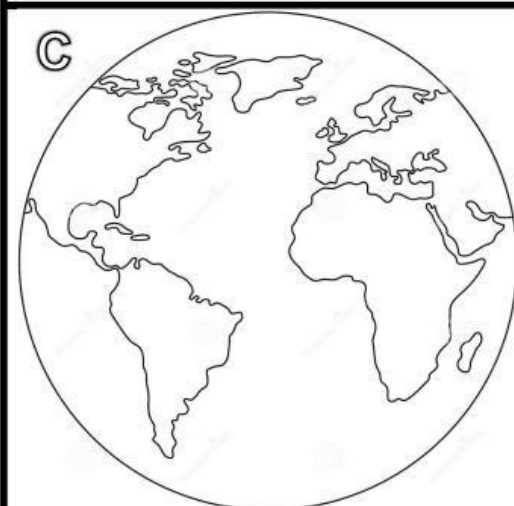
ISTRUZIONI:

1. Nel quadrato A disegna i **paralleli** con il colore blu e rispondi alla domanda;
2. Nel quadrato B disegna i **meridiani** con il colore rosso e rispondi alla domanda;
3. Nel quadrato C disegna il **reticolo geografico**;  
→ **girare il foglio di 90° verso sinistra**
4. Segna sul planisfero (rettangolo D) il punto corrispondente alle coordinate: 35° S, 140° E.

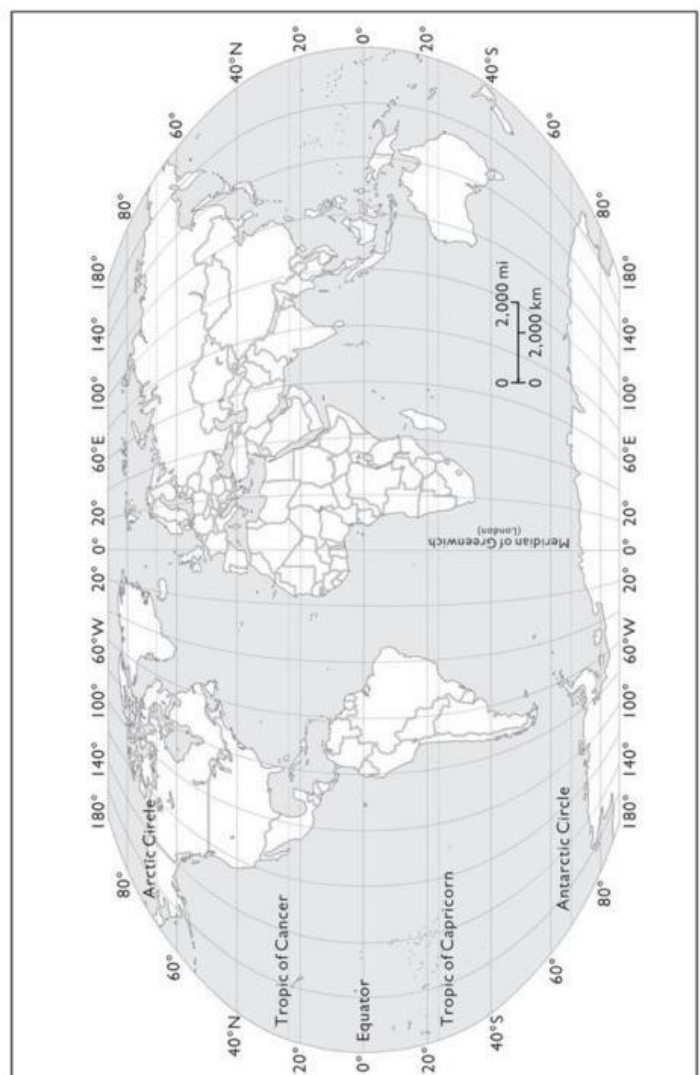


Qual è il **meridiano** più importante?

\_\_\_\_\_



**D**


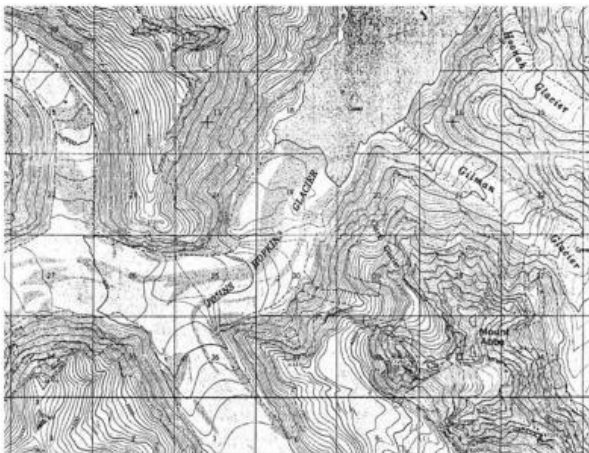


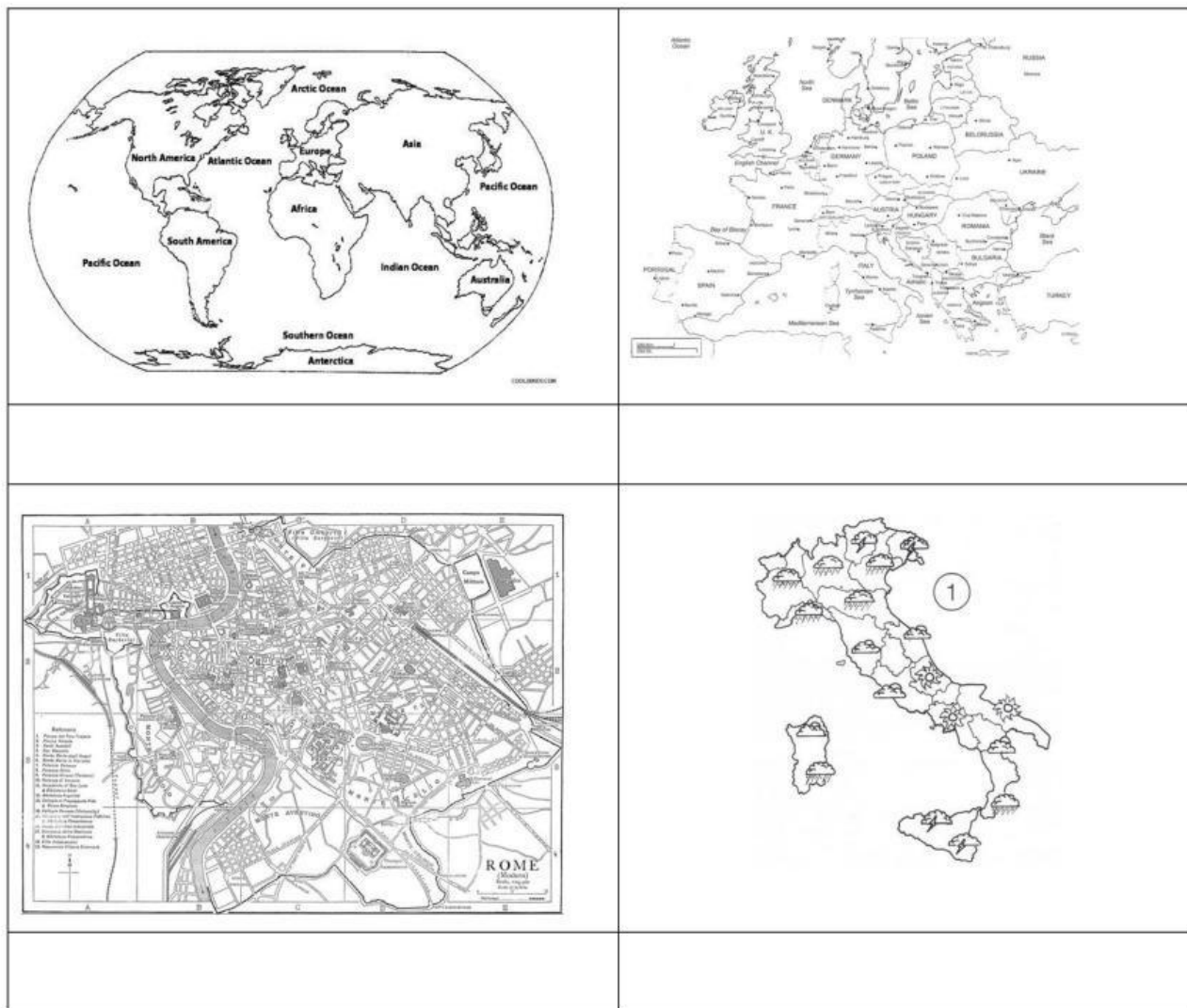
2. COMPLETA CON **VERO** O **FALSO**. IN CASO DI AFFERMAZIONE FALSA, SCRIVI NELLA TABELLA LA FRASE CORRETTA.

	VERO o FALSO?
1. Il reticolo geografico esiste nella realtà.	
2. I meridiani sono linee orizzontali, i paralleli sono linee verticali.	
3. L'equatore divide la Terra in due emisferi: boreale e australe.	
4. La latitudine è la distanza in gradi dall'equatore verso N e verso S.	
5. La longitudine è la distanza in gradi dal meridiano zero, verso N e S.	

3. SCRIVI SOTTO OGNI CARTA GEOGRAFICA DI CHE TIPO DI CARTA SI TRATTA

Mappa – Carta Topografica – Carta Fisica – Carta Tematica – Carta Politica – Planisfero



4. PER OGNI TIPOLOGIA DI CARTA GEOGRAFICA TROVA LA DEFINIZIONE CORRETTA POI COLORALE (NOME E DEFINIZIONE) DELLO STESSO COLORE.

CARTA TEMATICA	CARTA TOPOGRAFICA	PLANISFERO
CARTA POLITICA	MAPPA	CARTA FISICA
MAPPAMONDO	Rappresenta una piccola parte di un territorio. Scala fino a 1:10000.	Mostra gli elementi naturali del territorio; utilizza diversi colori.
Mostra il territorio dal punto di vista antropico.	Mostra gli elementi naturali e antropici di un territorio ampio come una grande città o una provincia. Scala fino a 1:100000	Rappresentazione tridimensionale della Terra.
Carta che mostra tutta la superficie terrestre.		Mostra un "tema" relativo a una particolare zona geografica.



5. RISPONDI A QUESTE DOMANDE IN MODO COMPLETO.

A. Cos'è il reticolo geografico e a cosa serve?

---

---

---

B. Se voglio sapere quali animali si allevano nelle regioni italiane, che carta geografica uso?

---

C. Matteo deve raggiungere la scuola partendo dalla biblioteca di Quistello, non ha la connessione internet, cosa usa?

---

D. Quale carta geografica uso per vedere i confini del Lussemburgo?

---

E. Voglio conoscere l'orografia della Lombardia, che carta geografica uso?

---

F. Cosa mostra la carta tematica? Fai un esempio

---

---

---

## ESERCIZIO FACOLTATIVO

Jimmy parte da Quistello e vuole raggiungere Mantova.

Misura la distanza in cm tra i due punti e calcola la distanza in chilometri tra le due località.

Scala → 1:100 000

