



GUÍA DE TRABAJO

- Agrupan una cantidad de objetos en decenas.
- Registran con números la cantidad de elementos de un conjunto que ha sido agrupado de a 10 y los elementos restantes.
- Registran de manera pictórica agrupaciones de a 10 y los elementos restantes.
- Cuentan en decenas y unidades, usando bloques multibase y apilables.

HABILIDADES: Agrupar – Registrar – Contar


NOMBRE:

CURSO:
1° Básico

FECHA:

RECORDEMOS

Observa ¿Cuántos elementos hay en cada grupo?



10



10



10





Al grupo de **diez unidades** se le llama **decena**.

Observa el siguiente video para recordar más conceptos

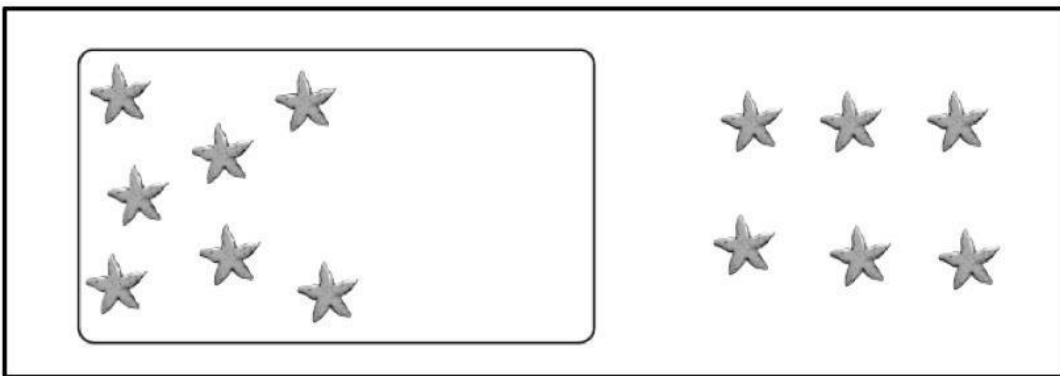






1. Arrastra los siguientes elementos hacia el círculo para formar decenas.



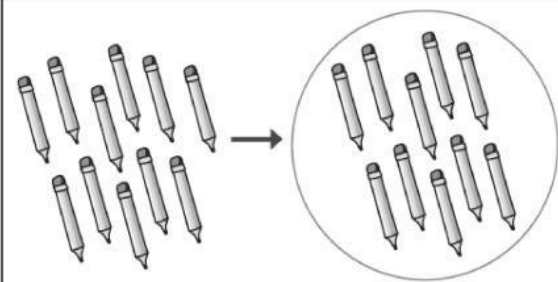
2. Arrastra los dibujos para completar una decena.





3. Observa el ejemplo, y luego escribe en los espacios lo que corresponda.

Ejemplo →




→

D	U
1	1

→

1 decena y 1 unidad son 11
once



D	U

— decena y — unidades son —


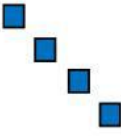



D	U


— decena y — unidades son —






4. Escribe cuantas decenas y unidades hay en cada ejercicio.



	
Decenas	Unidades

	
Decenas	Unidades

	
Decenas	Unidades

	
Decenas	Unidades

	
Decenas	Unidades

	
Decenas	Unidades



Lo hiciste increíble!!!!
Es hora de enviar tus
respuestas a tu miss.
Escribe el siguiente correo:
danielamolina@colegiopatagonia.cl