
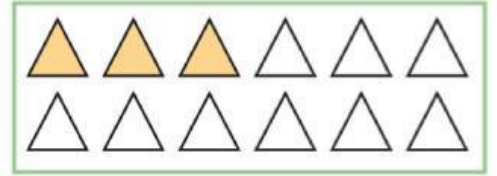
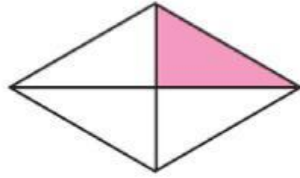
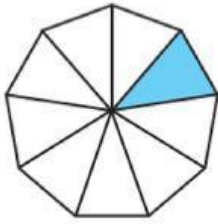


ДОСЛІДЖУЄМО ОДИНИЦІ ВИМІРЮВАННЯ ВЕЛИЧИН

1

Запиши, яку частину цілого зафарбували. Прочитай кожний дріб. Назви чисельник; знаменник. На що вказує знаменник? чисельник?



2

Скільки міліметрів в одному сантиметрі? Заміни одні одиниці величини іншими.

$1 \text{ см} = \underline{\quad} \text{ мм}$

$1 \text{ см } 4 \text{ мм} = \underline{\quad} \text{ мм}$

$8 \text{ см } 9 \text{ мм} = \underline{\quad} \text{ мм}$

$2 \text{ см} = \underline{\quad} \text{ мм}$

$2 \text{ см } 7 \text{ мм} = \underline{\quad} \text{ мм}$

$6 \text{ см } 3 \text{ мм} = \underline{\quad} \text{ мм}$

Заміни прості іменовані числа складеними за схемою:

$45 \text{ мм} = 40 \text{ мм} + 5 \text{ мм} = \underline{\quad} \text{ см} + 5 \text{ мм} = \underline{\quad} \text{ см } \underline{\quad} \text{ мм}$

$65 \text{ мм} = \underline{\quad} \text{ см } \underline{\quad} \text{ мм}$

$27 \text{ мм} = \underline{\quad} \text{ см } \underline{\quad} \text{ мм}$

$32 \text{ мм} = \underline{\quad} \text{ см } \underline{\quad} \text{ мм}$

$43 \text{ мм} = \underline{\quad} \text{ см } \underline{\quad} \text{ мм}$

3

Порівняй іменовані числа.



$1 \text{ рік } 4 \text{ міс.} \bigcirc 16 \text{ міс.}$

$6 \text{ м } 5 \text{ дм } 8 \text{ см} \bigcirc 6 \text{ м } 8 \text{ дм } 5 \text{ см}$

$1 \text{ ц} \bigcirc 100 \text{ кг}$

$12 \text{ м } 30 \text{ см} \bigcirc 12 \text{ м } 3 \text{ дм } 1 \text{ см}$

$5 \text{ м } 3 \text{ дм} \bigcirc 5 \text{ м } 30 \text{ см}$

$1 \text{ дм } 4 \text{ см } 3 \text{ мм} \bigcirc 1 \text{ дм } 43 \text{ мм}$

Віднови таблиці співвідношення одиниць вимірювання величин. Працюй за стрілочками.

Час

$$1 \text{ с} = \frac{1}{\boxed{\quad}\boxed{\quad}} \text{ хв}$$

$$1 \text{ хв} = \boxed{\quad}\boxed{\quad} \text{ с} = \frac{1}{\boxed{\quad}\boxed{\quad}} \text{ год}$$

$$1 \text{ год} = \boxed{\quad}\boxed{\quad} \text{ хв} = \frac{1}{\boxed{\quad}\boxed{\quad}} \text{ доби}$$

$$1 \text{ доба} = \boxed{\quad}\boxed{\quad} \text{ год} = \frac{1}{\boxed{\quad}} \text{ тижня}$$

$$1 \text{ тиждень} = \boxed{\quad} \text{ діб}$$

$$1 \text{ міс.} = \frac{1}{\boxed{\quad}\boxed{\quad}} \text{ року}$$

$$1 \text{ рік} = \boxed{\quad}\boxed{\quad} \text{ міс.}$$

Маса

$$1 \text{ кг} = \frac{1}{\boxed{\quad}\boxed{\quad}\boxed{\quad}} \text{ ц}$$

$$1 \text{ ц} = \boxed{\quad}\boxed{\quad}\boxed{\quad} \text{ кг}$$

Довжина

$$1 \text{ см} = \frac{1}{\boxed{\quad}\boxed{\quad}} \text{ дм} = \frac{1}{\boxed{\quad}\boxed{\quad}\boxed{\quad}} \text{ м}$$

$$1 \text{ дм} = \boxed{\quad}\boxed{\quad} \text{ см} = \frac{1}{\boxed{\quad}\boxed{\quad}} \text{ м}$$

$$1 \text{ м} = \boxed{\quad}\boxed{\quad} \text{ дм} = \boxed{\quad}\boxed{\quad}\boxed{\quad} \text{ см}$$