



AYO SIMAK VIDEO BERIKUT INI



Ayo Berlatih

Seorang arsitek membuat kolam renang berbentuk persegi panjang. Panjang diagonal kolam tersebut adalah 10 meter. Berapakah luas dari kolam renang tersebut?

Diketahui:

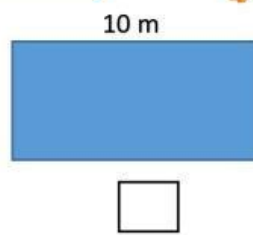
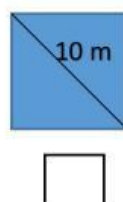
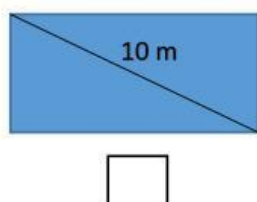
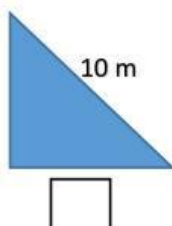
Ditanya:

Rumus apa yang akan kamu gunakan untuk menjawab soal diatas?

Catatan Penting!

- Untuk menuliskan bentuk akar, gunakan tanda ($\sqrt{\quad}$).
- Untuk menuliskan bentuk kuadrat, gunakan tanda 2
- Untuk menuliskan operasi pembagian dan pecahan gunakan tanda : dan /

Pilihlah salah satu model matematika dibawah ini yang sesuai dengan soal di atas!





Jawaban:

A large, empty rectangular box with rounded corners and a thin orange border, intended for writing the answer.



Kesimpulan:

A large, empty rectangular box with rounded corners and a thin orange border, intended for writing the conclusion.

Semangat

