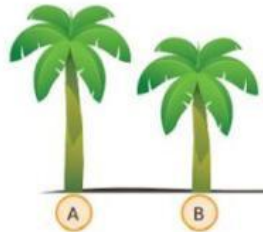


Nama : _____

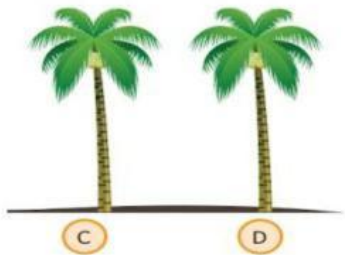
Tanggal: _____

1. Perhatikan gambar berikut!



Pohon A . . . dari pohon B
A. lebih pendek
B. lebih tinggi
C. sama tinggi

2. Perhatikan gambar berikut!



Pohon C . . . dengan pohon D
A. lebih tinggi
B. lebih pendek
C. sama tinggi

3.



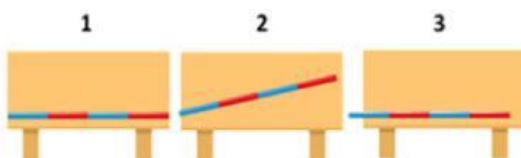
Payung yang paling panjang yaitu...
A. (A)
B. (B)
C. (C)

4.



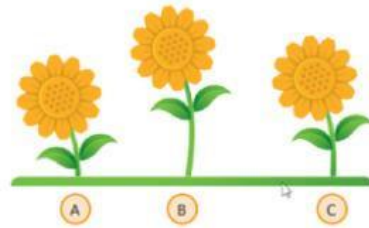
Urutan posisi burung dari yang paling tinggi yaitu....
A. (A, B, C)
B. (B, A, C)
C. (C, A, B)

5.



Banu mengukur meja dengan menggunakan sedotan. Cara mengukur yang benar ditunjukkan gambar nomor...
A. 1
B. 2
C. 3

6.



Bunga yang paling pendek yaitu....
A. (A)
B. (B)
C. (C)

7.



Panjang meja yaitu . . . jengkal tangan
A. 3
B. 4
C. 5

8.



Panjang pensil yaitu . . . penjepit kertas
A. 5
B. 6
C. 7

9.



Tinggi jerapah yaitu. . . kotak
A. 9
B. 10
C. 11

10



Panjang jam tangan yaitu. . . penjepit kertas
A. 7
B. 8
C. 10