

EVALUACIÓN TREN DE RODAJE





COMPLETA EL GRAFICO CON LOS RECUADROS DE RESPUESTA



ESCRIBE V O F SEGÚN CORRESPONDA

1. El chasis es la estructura principal que sostiene todos los componentes del vehículo, como el motor, la suspensión y la carrocería. ()
2. La carrocería tiene la función principal de proporcionar rigidez estructural al vehículo y no influye en la estética. ()
3. En los vehículos con chasis independiente, la carrocería se puede separar del chasis sin afectar su funcionamiento. ()
4. En los vehículos monocasco, el chasis y la carrocería forman una sola estructura ()

COLOCA LOS NOMBRES DE LOS GRAFICOS SEGÚN CORRESPONDA

SEDAN

CONVERTIBLE

HATCHBACK

CAMIONETA

COMPETE LOS SISTEMAS O ELEMENTOS QUE FORMAN PARTE

SISTEMAS DEL VEHICULO

MOTOR	
LUBRICACION	
	AGUA
COMBUSTIBLE	
ELECTRICO	

VEHICULO	
SUSPENSIÓN	
	VOLANTE
FRENO	MANO
DIRECCION	
ESCAPE	