


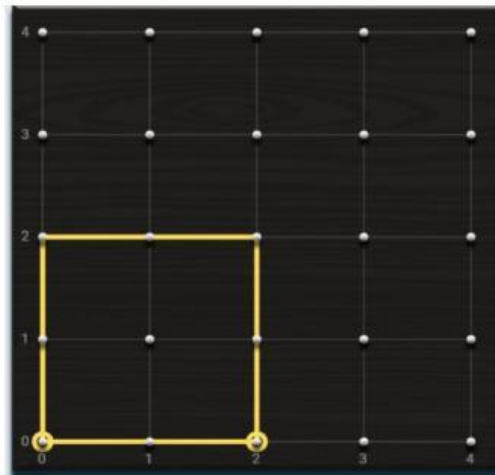
PROPÓSITO ➔

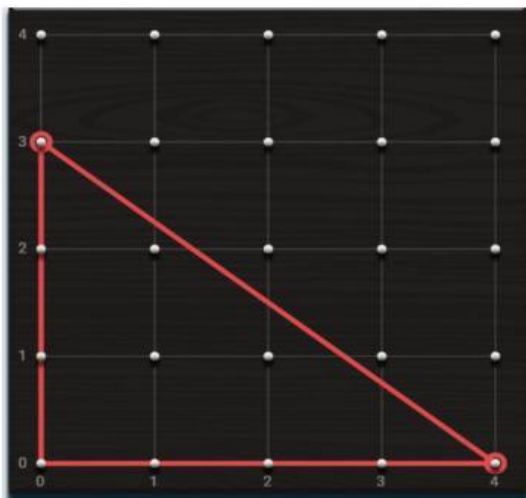
Hoy jugaremos construyendo figuras planas con el geoplano para identificar las figuras geométricas en nuestra vida cotidiana.


1. Leemos y comprendemos:

Los estudiantes del 2ºC desean explorar con el geoplano concreto y virtual con ligas para formar las siguientes figuras y elegir formas con las que decoraran la galería de sus aprendizajes. ¿Qué figuras geométricas han formado?

2. Escribe el nombre de la figura







SEGUIMOS APRENDIENDO

3 Completa la tabla con la información de cada figura:

FIGURA GEOMÉTRICA	DIBUJO	NÚMERO DE LADOS	NÚMERO DE VÉRTICES	TIPO DE LÍNEA
CUADRADO				
RECTÁNGULO				
TRIÁNGULO				

4. Une con una línea cada figura con su número de lados:

CUADRADO



3 lados

RECTÁNGULO



4 lados

TRIÁNGULO



4 lados

5. Marca V o F según corresponda

El cuadrado tiene 4 lados iguales.

V

F

El triángulo tiene 4 vértices.

V

F

El rectángulo tiene 2 lados largos y 2 lados cortos.

V

F

Todas las figuras geométricas tienen líneas rectas.

V

F

El cuadrado y el rectángulo tienen la misma cantidad de vértices.

V

F

El triángulo es la única figura que tiene 3 lados.

V

F