


## · Ficha de Apoyo: Multiplicaciones Básicas

Nombre: \_\_\_\_\_

Fecha: \_\_\_\_\_


### 1. Cuenta y multiplica con dibujos

Observa los grupos y cuenta cuántos hay en total.



¿Cuántas bolas rojas hay en total?

Multiplicación:  $4 \times 3 =$  \_\_\_\_\_



¿Cuántas bolas marrones hay en total?

Multiplicación:  $6 \times 2 =$  \_\_\_\_\_


### 2. Une con flechas

Une cada multiplicación con su resultado correcto.

- |                |   |
|----------------|---|
| - $2 \times 3$ | 6 |
| - $4 \times 2$ | 8 |
| - $5 \times 1$ | 5 |
| - $3 \times 3$ | 9 |

### 3. Problema con apoyo visual

Hay 3 rectángulos. Cada rectángulo tiene 4 pelotas.



¿Cuántas pelotas hay en total?

Multiplicación:  $4 \times 3 =$  \_\_\_\_\_

Respuesta en letras: \_\_\_\_\_